

آزمون و کاربردگ فصل سوم

ریاضی دوم دبستان

به همراه نکات تدریس

www.mamplus.com





کاربرگ ۱

درس: ریاضی

عنوان درس: فصل ۳، اشکال هندسی



پایه: دوم

مفهوم: اشکال هندسی، تعداد ضلع و گوشه در اشکال، تفاوت و تشابه، تقارن، اندازه‌گیری زمان (صفحه ی ۳۸ و ۳۹ و ۴۰)

نام دانش آموز:

تاریخ: / /

۱- در زیر هر شکل نام آن، تعداد ضلع‌ها و گوشه‌ها را بنویس.



نام شکل:

نام شکل:

نام شکل:

نام شکل:

تعداد ضلع:

تعداد ضلع:

تعداد ضلع:

تعداد ضلع:

تعداد گوشه:

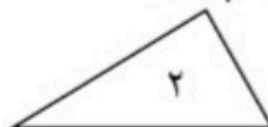
تعداد گوشه:

تعداد گوشه:

تعداد گوشه:

www.mamplus.com

۲- دو شکل زیر چه تفاوت و شباهت‌هایی با هم دارند؟



تفاوت:

.....

شباهت:

.....

۳- مانند نمونه و با شابلون ۲ شکل بالای خط بکش. در پایین همان شکل‌ها را طوری بکش که اگر کاغذ را از روی خط تا کنیم، شکل‌های

دو طرف روی هم بیفتد.






۴- ساعت چند است؟



.....



.....



• •

۵- با شابلون یک مربع و یک مستطیل رسم کن.



تفاوت‌ها و شباهت‌های دو شکل را بنویس.

تفاوت:

.....

شباهت:

.....



آفریدگار مهربان همراه من است

کاربرگ ۲

درس: ریاضی

عنوان درس: فصل ۳، اشکال هندسی

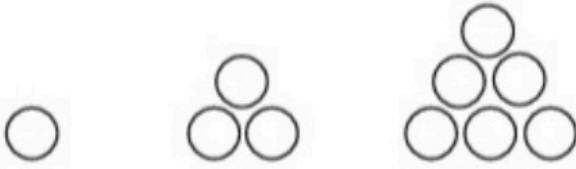
پایه: دوم

مفهوم: الگویابی شکلی، اعداد دیجیتالی، الگویابی ثابت و متغیر، ساعت با اعداد دیجیتالی (صفحه ی ۳۴ و ۳۵)

نام دانش آموز:

تاریخ: / /

۱- الگویابی زیر را تا ۲ مرحله ادامه بده.



شکل (۱)


شکل (۲)

شکل (۳)

شکل (۴)

شکل (۵)

۲- عددهای مثل هم را با یک رنگ، رنگ بزن.



www.mamplus.com

۳- الگوهای زیر را تا ۳ عدد ادامه بده.

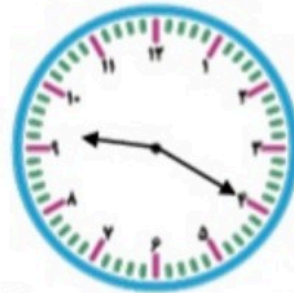
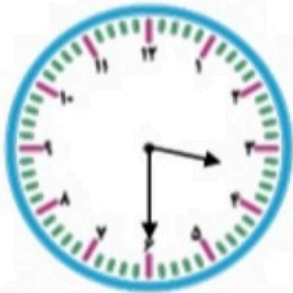
۴-۹-۱۴-۱۹-.....-.....-.....

۲-۳-۵-۸-۱۲-.....-.....-.....

۱-۳-۷-۱۳-۲۱-.....-.....-.....



۴- هر ساعت چه زمانی را نشان می‌دهد؟



۵- زمان داده شده را روی ساعت نشان بده.



05:10



10:45



آفریدگار مهربان همراه من است

کار برگ ۳

پایه: دوم

عنوان درس: فصل ۳، اشکال هندسی

درس: ریاضی

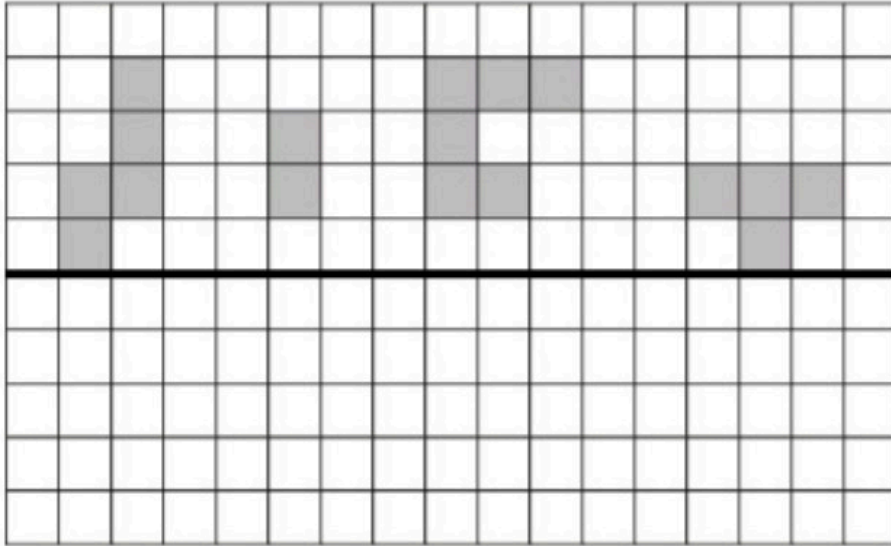
مفهوم: تقارن، ساعت، مشخص کردن وسط شکل و رسم آن‌ها (صفحه ی ۴۸)

تاریخ: / /

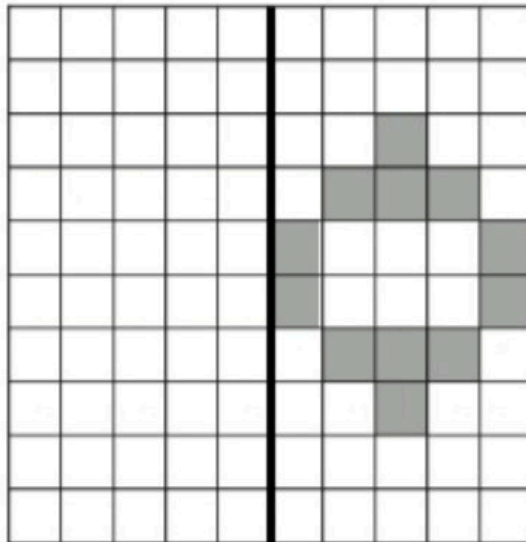
نام دانش آموز:

www.mamplus.com

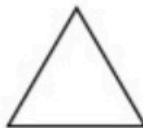

۱- با توجه به خط تقارن نیمه‌ی دیگر شکل را کامل کن.



۲- نیمه‌ی دیگر کاشی‌های روی دیوار را کامل کن.

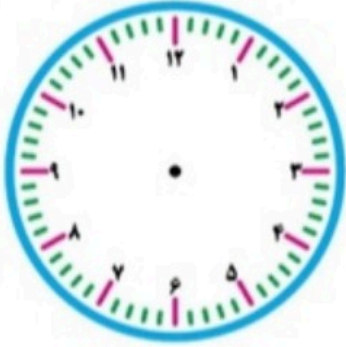


۳- ابتدا بدون استفاده از وسیله وسط هر ضلع را پیدا کن و سپس با خط کش نقطه‌ها را به هم وصل کن.





۴- ساعت ۵:۳۰ است. ۳ ساعت بعد از آن ساعت چند است؟



www.mamplus.com



آفریدگار، مهربان همراه من است

کاربرگ ۴

درس: ریاضی

عنوان درس: فصل ۳، اشکال هندسی

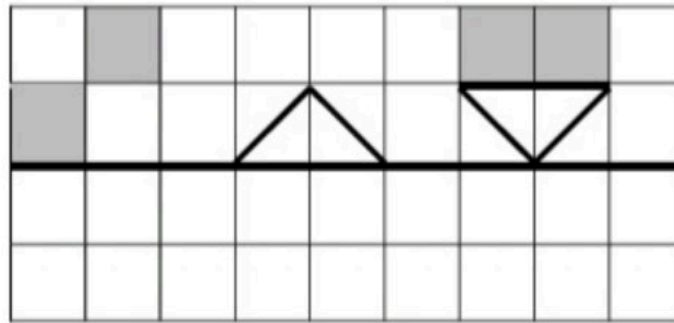
پایه: دوم

مفهوم: خط تقارن، ساعت، الگوی عددی (صفحه ۴۶ و ۴۷)

نام دانش آموز:

تاریخ: / /

۱- با توجه به خط تقارن نیمه‌ی دیگر شکل را کامل کن.



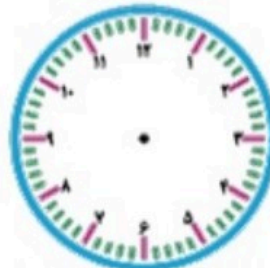
www.mamplus.com

۲- ساعت چند است؟

دو ساعت بعد ساعت چند است؟



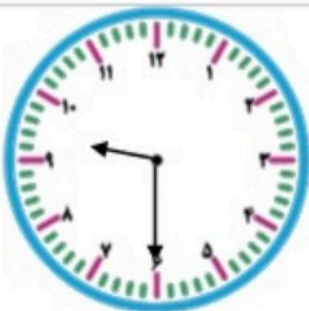
۲ ساعت بعد



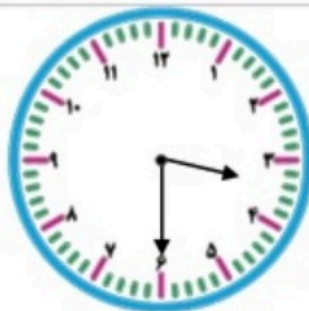
.....

.....

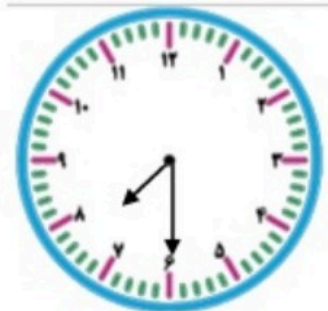
۳- ساعت‌های زیر را به ۲ صورت بنویس.



.....
: ..
.....
.....



.....
: ..
.....
.....



.....
: ..
.....
.....




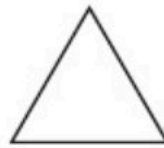
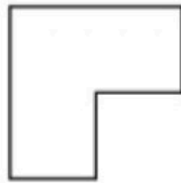
۴- الگوهای عددی زیر را ادامه بده.

۷۲ - ۷۵ - ۷۹ - - -

۵۱ - ۵۴ - ۵۷ - - -

www.mamplus.com

۵- هر شکل را با خط تقارن به دو نیمه تقسیم کن.





آفریدگار مهربان همراه من است

کار برگ ۵

درس: ریاضی

عنوان درس: فصل ۳، اشکال هندسی



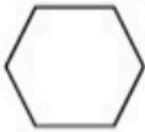
پایه: دوم

مفهوم: تقارن چهار قسمتی، ساعت (صفحه‌ی ۴۹ و ۵۰)

نام دانش آموز:

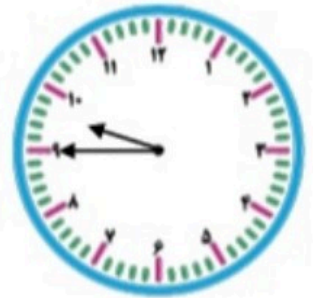
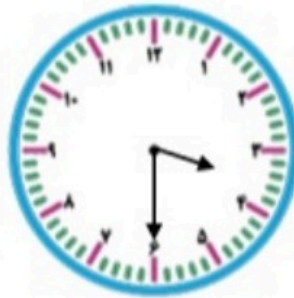
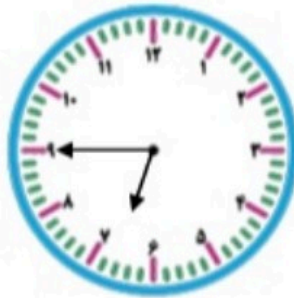
تاریخ: / /

۱- شکل‌های زیر را با رسم ۲ خط به ۴ قسمت مثل هم تقسیم کن.



www.mamplus.com

۲- ساعت‌های زیر را به دو صورت بنویس.



.....
: .

.....
: .

.....
: .

.....
: .

.....

.....

.....

.....


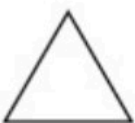
.....

.....

.....

.....

۳- با رسم برش‌های لازم شکل‌ها را به ۴ قسمت مثل هم تقسیم کن.





۴- به سوالات زیر پاسخ بده.

الف) ساعت ۵ است. ۲ ساعت و ربع بعد ساعت چند است؟

ب) ساعت ۸:۱۰ است. یک ساعت بعد ساعت چند است؟

پ) ساعت ۴:۲۰ است. ۲ ساعت و ۵ بعد ساعت چند است؟