


کاربرگ پایانی  
تم های ریاضی اول  
بهمراه مباحث تم ها


[www.mamplus.com](http://www.mamplus.com)



به نام خدا

آزمون ریاضی پایه اول - اردیبهشت ماه

نام و نام خانوادگی: .....



۱ باتوجه به شکل جدول را کامل و عدد مربوط را خارج جدول بنویس



www.mamplus.com

۲ پاسخ جمع ها را به کمک چوب خط بنویس.

$$۲+۳+۳+۵= \square$$



$$۶+۷= \square$$



۳ جاهای خالی را با عدد مناسب کامل کن .

۵	۱۰					۳۵			
---	----	--	--	--	--	----	--	--	--

۴ شکل را طوری کامل کن که دو نیمه ی آن مثل هم باشد .



۵ جواب هر جمع را به صورت ذهنی حساب کن و بنویس .

$$۲۰+۱۰+۵+۱۰= \square$$

$$۱۰+۵-۳= \square$$

۶ دنباله ی عددها را به ترتیب بنویس.

۶

۶۵	۶۶	۶۷							
----	----	----	--	--	--	--	--	--	--

۷ در هر ردیف پاسخ عبارت ها را بنویس و دور علامت مناسب  $\langle = \rangle$  خط بکش.

۷

$$۲۰ + ۲۰ = \square \quad \langle = \rangle \quad ۵۰ - ۲۰ = \square$$

$$۷ + ۵ = \square \quad \langle = \rangle \quad ۶ + ۸ = \square$$

www.mamplus.com

۸ با رقم یا حروف بنویس.

۸


هفده		هفتاد و شش	
	۴۹		۹۰

۹ با توجه به شکل جاهای خالی را کامل کن.

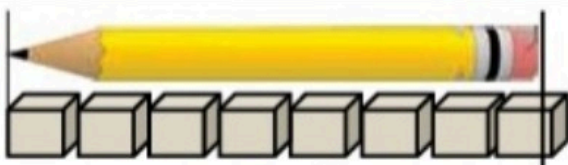
۹



$$\dots\dots\dots - \dots\dots\dots = \dots\dots\dots$$



$$\dots\dots\dots + \dots\dots\dots = \dots\dots\dots$$



۱۰ اندازه ی مداد بین ..... و ..... است.

۱۰

مسئله را با چوب خط یا شکل ساده حل کن و عبارت جمع یا تفریق آن را بنویس .

۷ اردک در آب بودند . ۳ اردک دیگر هم به آن ها اضافه شدند .



حالا چند اردک در آب است ؟

حالا..... اردک در آب است

www.mamplus.com

مسئله را به کمک محور حل کن . (عبارت جمع یا تفریق آن را هم بنویس)

۱۲ پرنده روی درخت بودند . ۴ تا از پرنده ها پرواز کردند و رفتند .

چند پرنده مانده است ؟



۰ ۱ ۲ ۳ ۴ ۵ ۶ ۷ ۸ ۹ ۱۰ ۱۱ ۱۲ ۱۳ ۱۴ ۱۵



..... پرنده مانده است .



موفق و سربلند باشید

باز خورد معلم :

نام و نام خانوادگی:

دبستان آزاده

۱ نام هر شکل را بنویس



.....

.....

.....

.....

۲ با توجه به ساعت کامل کن



ساعت ..... است. کمی به ساعت ..... مانده است.

ساعت از ..... گذشته است .

ساعت ..... است .

۳ دسته ده تایی درست کن و در جای خالی عدد مناسب بنویس

☒☒☒☒☒

☒☒☒☒☒

☒☒☒☒☒

☒☒☒☒☒

☒☒☒☒☒☒

☒☒☒☒☒☒☒☒

با عدد.....

با حرف.....

یکی ده تایی

www.mamplus.com

۴ جواب جمع ها را بنویس و دور علامت مناسب خط بکش

10+10+5=

<=>

5+5+20=

50+10+10=

<=>

25+5+10=

۵ مساله را حل کن

مریم ۲۰ شکلات خرید . ۹ تایی آن را به خواهرش و ۶ تایی آن را به برادرش داد . چند شکلات برای او باقی مانده است ؟ شکل بکشید

..... - ..... = .....

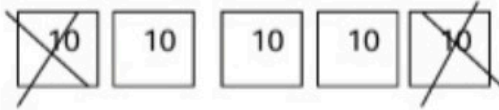
..... - ..... = .....

ادامه بدهید

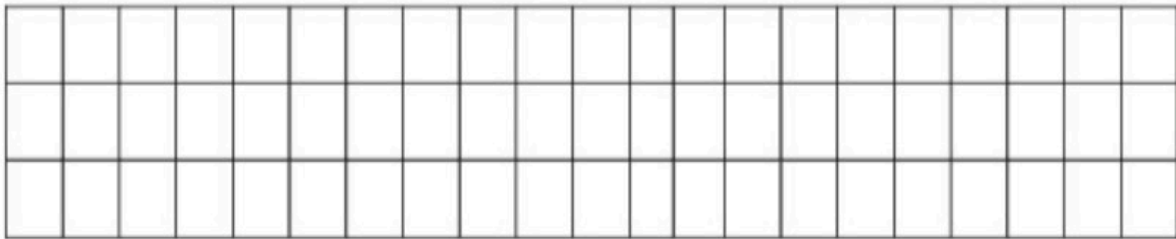
۱۲، ۱۴، ۱۶، ..... ۶ ..... ۶ ..... ۶ ..... ۶ .....

۶۰، ۵۵، ۵۰، ..... ۶ ..... ۶ ..... ۶ ..... ۶ .....

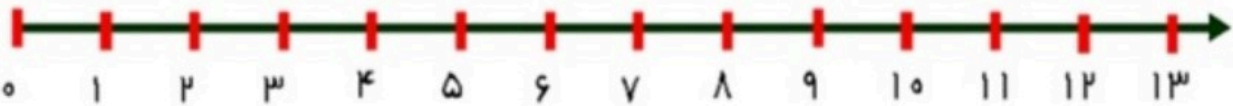
۷ برای شکل زیر تفریق بنویس



۸ یک الگوی سه تایی بکش



۹ ۶ دانش آموز در حیاط مدرسه بازی می کردند. ۶ تایی دیگر هم آمدند. حالا چند دانش آموز بازی می کنند؟ با کمک محور



www.mamplus.com

۱۰ در جای خالی عدد مناسب بنویس

۱۰ بسته ی ده تایی می شود یک دسته ی ..... تایی

۵۰ می شود ..... بسته ده تایی

۲ بسته ده تایی و ۹ یکی می شود.....

۴۵ می شود ..... ده تایی و ..... یکی








ریاضی (مرور فصل‌های گذشته)




۱- در هر شکل، قسمت‌های مشخص شده را رنگ بزن.



ردیف چهارم



ستون دوم



ردیف سوم



ستون اول

۲- در جدول زیر، از عدد ۱ تا ۱۰۰ را به ترتیب بنویس. سپس ۶ تا ۶ تا خانه‌ها را بشمار و رنگ کن و

www.mamplus.com

عدد خانه‌های رنگ شده را داخل گل‌ها بنویس.


				۶		۹									۲۰
		۲۳						۳۱							
۴۱				۴۶						۵۵					
						۶۸					۷۷				۸۰
	۸۲							۹۱							۱۰۰



۳- رضا هر روز ساعت ۶ از خواب بیدار می‌شود. کمی به ساعت ۷ مانده به طرف مدرسه می‌رود. او کمی از ساعت ۹ گذشته در زنگ تفریح با دوستانش بازی می‌کند و بین ساعت ۲ و ۳ به خانه برمی‌گردد. زمان کارهای رضا را روی ساعت‌ها نشان بده.

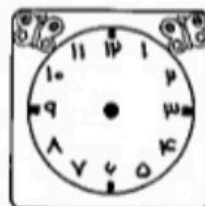


به خانه برمی‌گردد.



در زنگ تفریح

با دوستانش بازی می‌کند.



به طرف مدرسه

می‌رود.



از خواب بیدار می‌شود.

