




# کاربرد و مهارت‌های مربوط به تم ۲۵ ریاضی اول دبستان

[www.mamplus.com](http://www.mamplus.com)



پایه ی اول  
به نام خدای خوب



نام زیبای من: .....

تاریخ: .....

۱- جاهای خالی را با اعداد مناسب کامل کن.

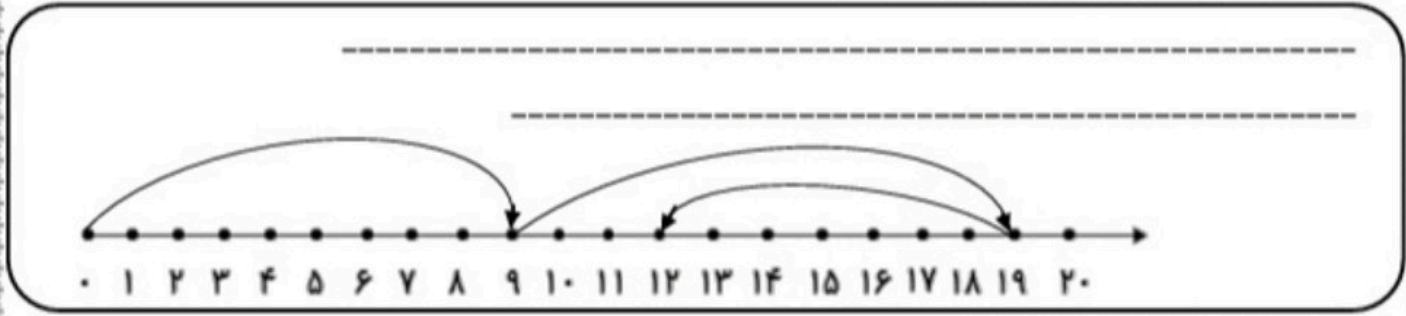
۱۹	-----	۱۰۰	-----	۲۱	-----	۸۳
-----	نود و سه	-----	چهل و نه	-----	دوازده	-----

۷۸ - ۸۰ - ۸۲ -----

۵۵ - ۵۶ - ۵۷ -----

www.mamplus.com

۲- برای محور یک مسئله بنویس و آن را حل کن.




۳- مسئله را با توجه به شکل حل کن.

مادر علی ۲۸ کاموا داشت. او با ۷ کاموا کلاه بافت. با ۷ کاموای دیگر شال گردن بافت. چند کاموا برای او باقی مانده است؟

۴- با توجه به اعداد جاهای خالی را کامل کن.

----- ده تایی و ----- یکی می شود	۱۸	----- ده تایی و ----- یکی می شود	۳۴
----- با حروف: -----		----- با حروف: -----	
----- ده تایی و ----- یکی می شود	۸۱	----- ده تایی و ----- یکی می شود	۴۳
----- با حروف: -----		----- با حروف: -----	

۵- با توجه به الگو عقربه های ساعت ها را بکش و زمان هر کدام را بنویس.



-----

۶- مسئله ها را با دقت بخوان و اگر اطلاعات مسئله کافی است آن ها را حل کن. روی اطلاعات اضافه ی مسئله خط بزن.

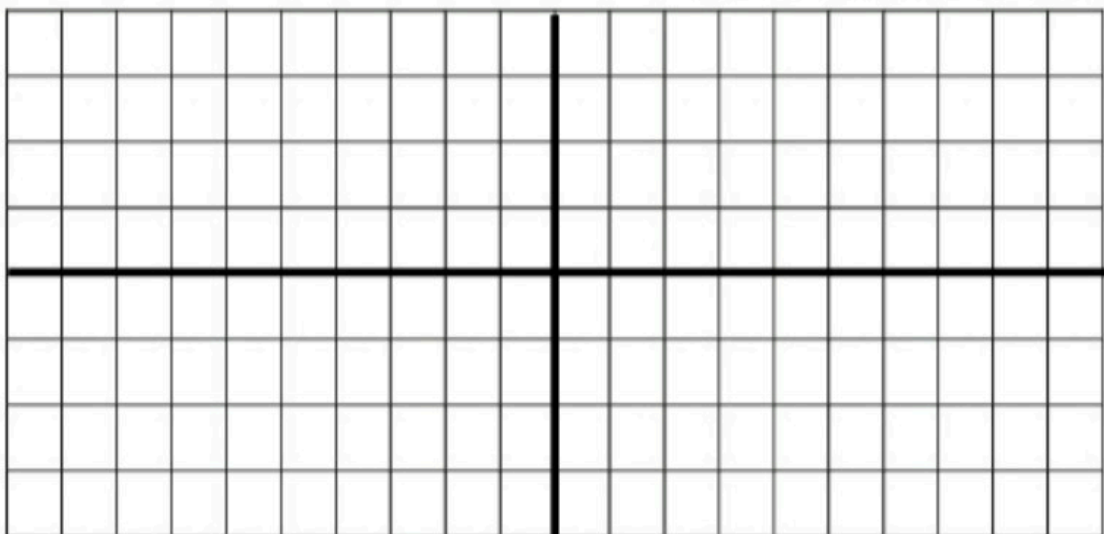
دانش آموزان کلاس اول و دوم دبستان ادب ۴۵ نفر هستند. در مسابقه ی فوتبال کلاس اولی ها ۲ گل زدند و کلاس دومی ها ۳ گل زدند. آن ها روی هم چند گل زدند؟

در دبستان شهید بهشتی ۳۰ دانش آموز در کلاس اول و ۴۰ دانش آموز در کلاس دوم درس می خوانند. این دو کلاس چند دانش آموز دارد؟

۱۵ مهمان در سالن پذیرایی نشسته بودند. ۲۵ میوه در ظرف بود. مهمان ها ۱۸ میوه را خوردند. حالا چند مهمان در سالن غذا خوری نشسته اند؟

www.mamplus.com

۷- یک طرح فرش با سلیقه ی خودت بزن.



بازخورد آموزگار



به نام خدا

وزارت آموزش و پرورش

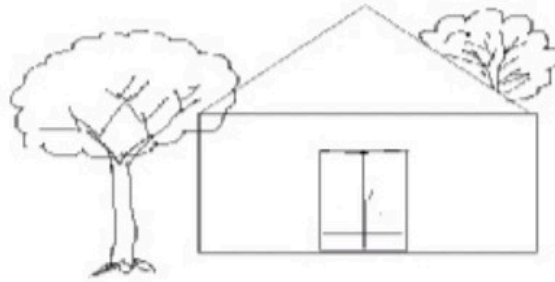
آزمون جامع مدادکاغذی ریاضی

نام و نام خانوادگی :

زمان : 45 دقیقه

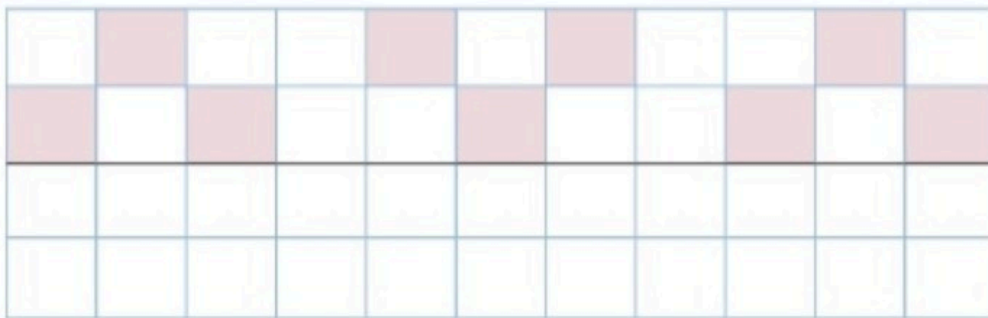
کلاس : اول دبستان

1- به سوالات با دقت پاسخ دهید: - در سمت چپ در خانه، یک پنجره بکشید. روی پشت بام یک دود کش بکشید. درخت پشت خانه را رنگ کنید.



www.mamplus.com

2- تقارن شکل ها را کامل کنید .



3- الگوها را ادامه بدهید.





4- حاصل جمع و تفریق های زیر را با رسم شکل و سپس با کمک محور اعداد به دست آورید .

( محور را شماره گذاری کنید . )

$4+5=$



$9-8=$



5- بین اعداد زیر یکی از علامت های < > را قرار دهید .

9 19

47 36


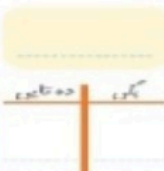
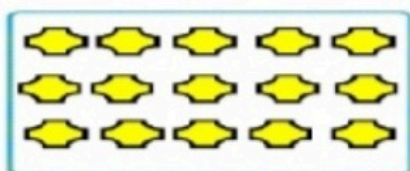
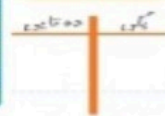


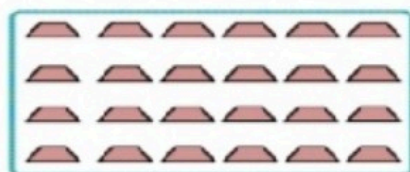
14 17

24 24

10 9

1 0

6- دسته های ده تایی درست کنید و سپس قسمت های مربوطه را کامل نمایید . [www.mamplus.com](http://www.mamplus.com)



7- حاصل جمع و تفریق های زیر را به دست آورید .

$5+5+5+5+5 =$

$10+10+10+10+10=$

$25+8=$

$6+8=$

$86-24=$

$32+24=$

$12+24+96-85=$

$18+9=$

9- الگو را ادامه بدهید . ( تا 5 عدد ) .

2-4

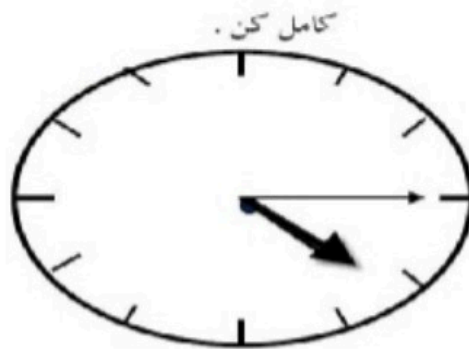
5-10

4-8

7-14

www.mamplus.com

10- جاهای خالی را کامل کن .



زمان بین ساعت.....و..... می باشد.

ساعت از ..... گذشته است.

11- از 47 تا 59 را ادامه بدهید .

47-

12- جاهای خالی را با توجه به کلمات داخل پرانتز کامل کن . ( سبک تر - سنگین تر - بلند تر - کوتاه تر ) .

درخت از گل ..... است .

سیب از هندوانه ..... است .

13- حسین 17 بوته ی گوجه فرنگی داشت 8 تا از آن ها خشک شد چند بوته سالم مانده است ؟ ( با رسم شکل )

14- فاطمه 14 شاخه ی گل و دوستش 9 شاخه خریدند . آن ها روی هم چند شاخه گل دارند ؟ (با رسم چوب خط )

www.mamplus.com

خود سنجی : دانش آموز عزیز با توجه به عملکردت در آزمون پاسخ بده.

1 - من یاد گرفتم:

2 - اما یاد نگرفتم:

3- آنچه باید برای یادگیری بهتر انجام دهم:

سطوح عملکرد		تسلط کامل	تسلط خوب	تسلط متوسط	تسلط کم	تسلط خیلی کم
ملاک ها و شواهد						
آزمون را با دقت و در زمان مناسب انجام داده است .						
جمع و تفریق ها را درست حل کرده است .						
مساله ها را به درستی انجام داده است .						
جهت یابی و تقارن را به خوبی انجام داده است .						
مفهوم زمان را به خوبی درک کرده است .						
الگویابی هندسی و عددی را درست و کامل انجام داده است .						
عددنویسی و شمارش را کامل انجام داده است .						
مفهوم طول و وزن را به خوبی می داند.						
دسته بندی ده تایی و پر کردن جدول را به درستی انجام داده است .						
مفهوم کمتر، بیش تر و مساوی را در جای مناسب به کار می برد .						

موفق باشید



به نام فدای  
مهربان

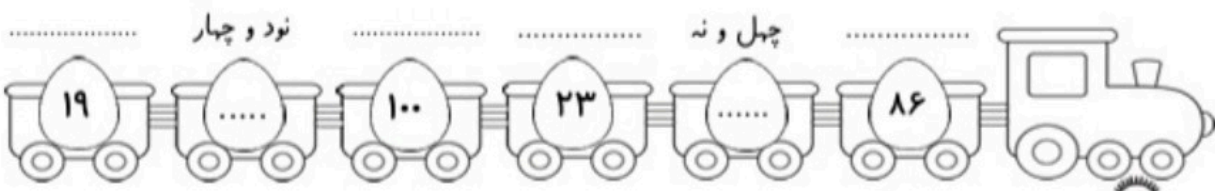
نام زیبای من : .....

تاریخ : .....

طراح : مهید مهدی خانی

۱

جاهای خالی را با اعداد مناسب کامل کن. سپس الگوهای زیر را ادامه بده.



نود و چهار

چهل و نه

۸۱ - ۷۲ - ۶۳ - ..... - ..... - ..... - ..... - .....

۷۲ - ۶۴ - ۵۶ - ..... - ..... - ..... - ..... - .....



۲

مسئله های زیر را حل کن.

۱ ۳۶ زنبور در لانه بودند. ۱۳ تا از آن ها از لانه خارج شدند. چند زنبور در لانه باقی مانده است؟

..... - ..... = ..... زنبور در لانه باقی مانده است. [www.mamplus.com](http://www.mamplus.com)

۲ ۴۸ شیرینی در جعبه بود. روز اول ۸ شیرینی و روز دوم ۸ شیرینی دیگر خورده شد. چند شیرینی در این دو روز

خورده شده است؟ چند شیرینی باقی مانده است؟

..... + ..... = ..... شیرینی خورده شده است.

..... - ..... = ..... شیرینی باقی مانده است.

۳

عقربه های ساعت را با توجه به الگوی عددها بکش.





کدام کار کمتر و کدام کار بیشتر طول می کشد؟

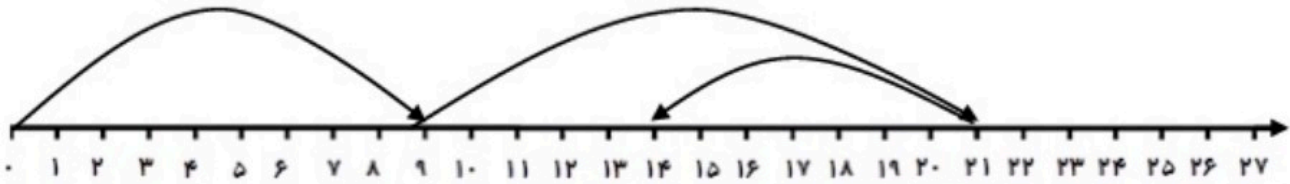
۴

۱ شستن دست و صورت از شستن ظرف ها ..... طول می کشد.

۲ مسواک زدن از بستن بند کفش ..... طول می کشد.

با توجه به محور زیر مسئله بنویس و آن را حل کن.

۵



.....  
.....  
.....

www.mamplus.com

با توجه به اعداد جاهای خالی را کامل کن.

۶

..... ده تایی و ..... یکی می شود.....



..... با حروف: .....

..... ده تایی و ..... یکی می شود.....



..... با حروف: .....

ابتدا زیر اطلاعات اضافی مسئله با مداد قرمز خط بکش سپس مسئله را حل کن.

۷

در کیف زهرا ۶ عدد کتاب داستان ، ۷ عدد کتاب علمی و یک بسته مداد رنگی ۶ تایی است. چند کتاب

در کیف زهرا است؟ ..... کتاب در کیف است.


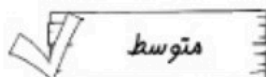

اگر در مسئله ی زیر اطلاعات کافی است، آن را حل کن.

۸

دیروز تولد نیلوفر بود. مادر بزرگ ۶ کتاب داستان برای نیلوفر خرید. مادر بزرگ نیلوفر چندساله است؟

.....

نظر آموزگار: .....





از عدد ۰ تا ۱۰۰ به ترتیب بنویس.

۱۲

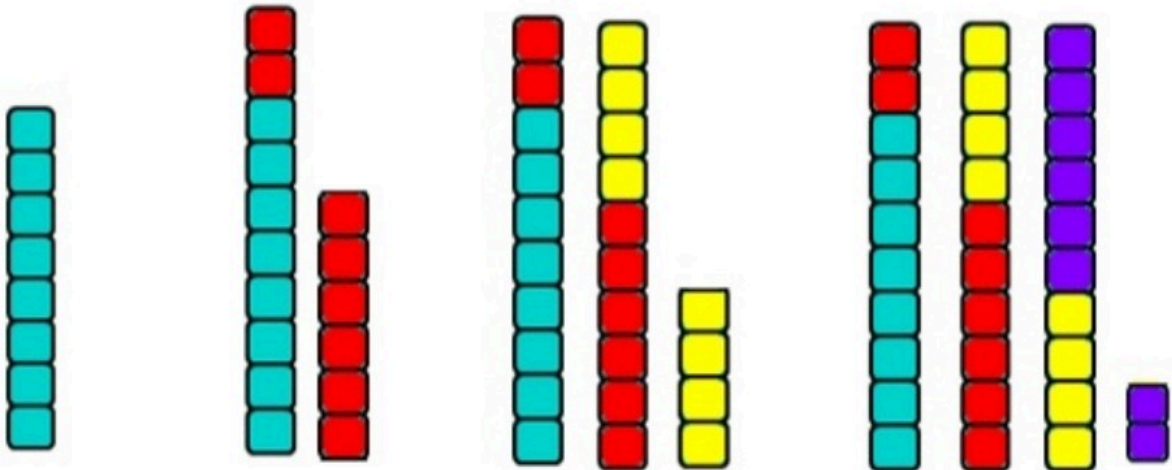
۳۵

۶۰

۷۸



با کمک شکل‌ها جاهای خالی را کامل کن. [www.mamplus.com](http://www.mamplus.com)



.....

.....

.....

.....

۱۵ ماشین در پارکینگ بودند. ۶ تا از آن‌ها از پارکینگ خارج شدند. حالا چند ماشین مانده؟ اگر ۳ تای دیگر خارج شوند، چند ماشین می‌ماند؟



..... ماشین می‌ماند.



۲۴ بچه فیل در آب بازی می‌کردند که ۴ تای آن‌ها رفتند. اگر ۱۰ تای دیگر هم بروند، چند بچه فیل در آب باقی می‌ماند؟



..... بچه فیل باقی می‌ماند.



۲۵



تم

در هر قسمت عدد های مناسب بنویس .

از عدد ۲۶ تا ۳۲ یکی یکی بنویس . [www.mamplus.com](http://www.mamplus.com)

از عدد ۰ تا ۳۰ پنج تا پنج بنویس .

از عدد ۳۲ تا ۴۴ دو تا دو بنویس .

از عدد ۳۰ تا ۱۰۰ ده تا ده بنویس .

از عدد ۶ تا ۴۸ شش تا شش بنویس .






۹ پیاز سفید و ۶ پیاز قرمز در آشپزخانه بود. مادرم ۷ تا از پیازها را در غذا ریخت. حالا چند پیاز باقی مانده است؟

$$\square + \square = \square$$

..... پیاز در آشپزخانه است.

$$\square - \square = \square$$

..... پیاز باقی مانده.



www.mamplus.com

با شابلون و خط کش و مدادرنگی یک فرش زیبا طراحی کن.

