



کاربرگ و مهارت های

تم ۲۴

ریاضی اول دبستان

www.mamplus.com

با توجه به هر ساعت جاهای خالی را کامل کن



زمان بین ساعت --- و --- است

زمان بین ساعت --- و --- است

www.mamplus.com



زمان بین ساعت --- و --- است


زمان بین ساعت --- و --- است



زمان بین ساعت --- و --- است

زمان بین ساعت --- و --- است

پایه ی اول
به نام خدای خوب



نام زیبای من:

تاریخ:

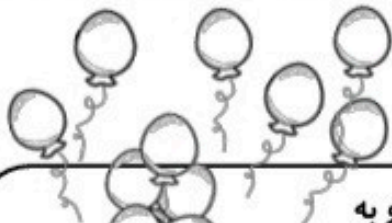
www.mamplus.com

۱- جاهای خالی را با اعداد مناسب کامل کن.

۱۱	۸۰	۶۹	۹۴	۸۷	۱۹	۵۵
_____	_____	_____	_____	_____	_____	_____

۳۴ - ۳۶ - ۳۸ -----

۲۷ - ۳۷ - ۴۷ -----



۲- با توجه به شکل روبه رو مسئله را کامل کن و با کمک محور حل کن.

علی ----- بادکنک در دست داشت. ----- بادکنک از دستش رها شد و به آسمان رفت. حالا ----- ؟

• ۱ ۲ ۳ ۴ ۵ ۶ ۷ ۸ ۹ ۱۰ ۱۱ ۱۲ ۱۳ ۱۴ ۱۵ ۱۶ ۱۷ ۱۸ ۱۹ ۲۰

۳- جواب جمع ها و تفریق های زیر را به دست بیاور و علامت < = > بگذار.

۶۰ - ۲۰ ○	۶۰ - ۱۰	۹۰ - ۳۰ ○	۳۰ + ۴۰	۷۰ - ۵۰ ○	۵۰ - ۳۰
۵۰ + ۲۰ ○	۳۰ - ۲۰	۲۰ - ۵ ○	۲۰ - ۱۰	۶۰ + ۲۰ ○	۱۰ + ۸۰

۴- با توجه به اعداد جاهای خالی را کامل کن.

ده تایی و یکی می شود -----
 با حروف: -----
 ده تایی و یکی می شود -----
 با حروف: -----

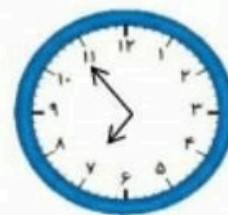
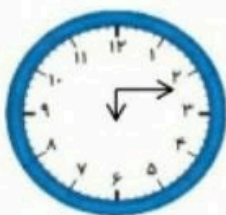
ده تایی و یکی می شود -----
 با حروف: -----

ده تایی و یکی می شود -----
 با حروف: -----

۱. در جاهای خالی عدد مناسب بنویسید.

www.mamplus.com

۲- ساعت‌ها را کامل کن.



ساعت از گذشته

کسی به ساعت مانده

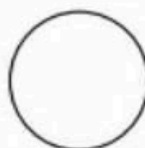
ساعت از گذشته

۳- مسئله را با استفاده از چوب‌خط حل کن. (عبارت و جلونویسی فراموش نشود).

- مریم ۹ مداد و خواهرش ۶ مداد دارد. مریم ۴ مداد خود را به خواهرش می‌دهد.
الف) چند مداد برای مریم باقی مانده است؟

ب) خواهرش چند مداد دارد؟

۴- نام هر شکل را بنویس.



.....

.....

.....

.....

به نام خدا

نام و نام خانوادگی:

کار برگ - ریاضی - تم ۲۴

نام آموزگار:

تاریخ:

جاهای خالی را با اعداد و حروف مناسب کامل کن

جواب جمع ها و تفریق های زیر را به دست بیاور و علامت (=) بگذار

$۶۰ - ۲۰$	<input type="text"/>	$۶۰ - ۱۰$
$۷۰ - ۵۰$	<input type="text"/>	$۵۰ - ۳۰$
$۲۰ - ۵$	<input type="text"/>	$۲۰ - ۱۰$

$۹۰ - ۳۰$	<input type="text"/>	$۳۰ + ۴۰$
$۵۰ + ۲۰$	<input type="text"/>	$۳۰ - ۲۰$
$۶۰ + ۲۰$	<input type="text"/>	$۱۰ + ۸۰$

www.mamplus.com

با توجه به اعداد جاهای خالی را کامل کن

<p>۱۳</p> <p>با حروف:</p> <p>دسته ---</p> <p>ده تایی و ---</p> <p>یکی ---</p>	<p>۹۰</p> <p>با حروف:</p> <p>دسته ---</p> <p>ده تایی و ---</p> <p>یکی ---</p>	<p>۵۴</p> <p>با حروف:</p> <p>دسته ---</p> <p>ده تایی و ---</p> <p>یکی ---</p>	<p>۷۶</p> <p>با حروف:</p> <p>دسته ---</p> <p>ده تایی و ---</p> <p>یکی ---</p>
---	---	---	---

به نام خدا

دبستان شاهد شهید فهمیده - برازجان

آزمون ریاضی پایه ی اول - تم 24 و 25

نام و نام خانوادگی

1 - عبارت ها را ذهنی حساب کرده ، نوشته : سپس به جواب حروفی آن وصل کن .

$10 + 10 + 5 + 4 =$

سی و یک

$20 + 20 + 10 + 3 =$

پانزده

$10 + 10 + 5 + 5 + 1 =$

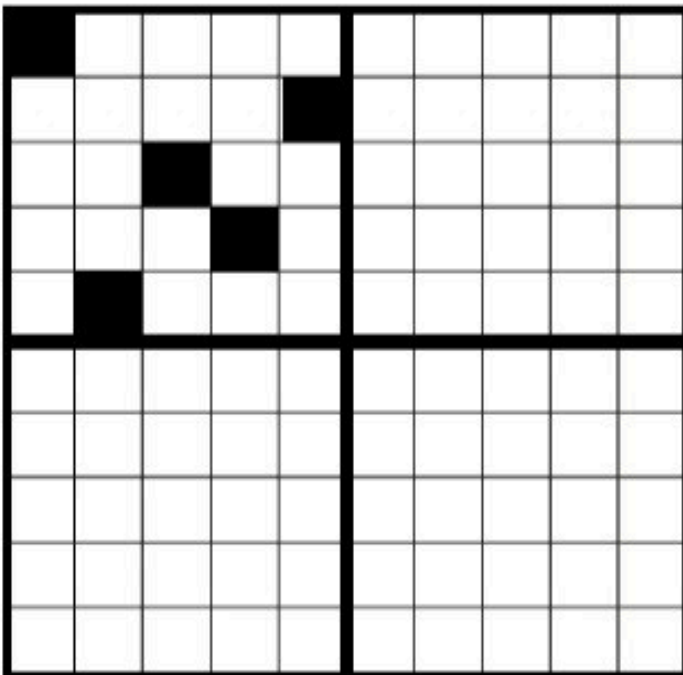
پنجاه و سه

$20 - 5 =$

بیست و نه

2 - سه قسمت دیگر را مانند قسمت رنگ شده

رنگ کن .



www.mamplus.com

3 - امین 7 مداد زرد و 5 مداد سبز و 6 کتاب داستان دارد . امین چند مداد دارد ؟ (با رسم شکل و عبارت آن)

4 - رضا 8 مهره داشت . پدرش هم 8 مهره ی دیگر به او داد. او 5 مهره را به برادرش داد .

حالا رضا چند مهره دارد ؟ (با رسم شکل دلخواه و عبارت های آن)



$$\underline{\quad\quad} + \underline{\quad\quad} = \underline{\quad\quad}$$

$$\underline{\quad\quad} - \underline{\quad\quad} = \underline{\quad\quad}$$

www.mamplus.com

5 - دنباله ی عدد را بنویس .

91	92								
----	----	--	--	--	--	--	--	--	--

6 - 5 تا 5 ادامه بده .


55	60								
----	----	--	--	--	--	--	--	--	--

7 - نام هر شکل را بنویس .



8 - زمان ساعت ها

را بنویس .



ساعت 9 است .



ساعت است .



ساعت از گذشته است .



ضعیف



متوسط



خوب



عالی

بازفورد توصیفگر آموزگار :

فرهاد یک دسته ۷ تایی از گل های مختلف به مادرش هدیه کرد . مینا هم یک دسته ی ۱۲

تایی گل رز به او هدیه داد . مادرش روی هم چند گل دارد ؟

بعد از چند روز ۳ گل رز و ۲ گل از دسته ی دیگر پژمرده شدند .

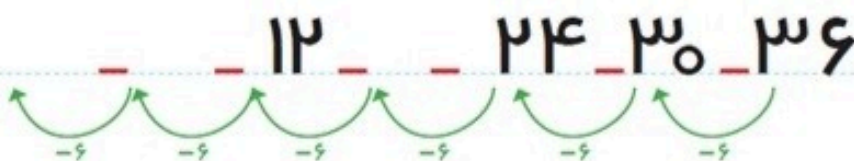


چند گل پژمرده شدند ؟

چند گل شاداب مانده است ؟

www.mamplus.com

روی محور از عدد ۱۸ ، شش تا شش تا برگرد .






www.mamplus.com

ساعت چند است.



.....



.....



.....





ساعت بین و است.

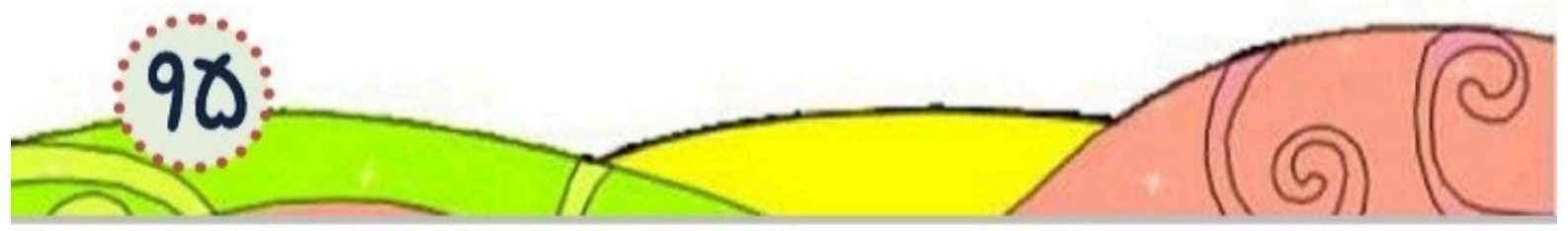
ادامه بده.

هشتاد و پنج - هشتاد و شش - هشتاد و

بیست - سی - چهل -



www.mamplus.com





مانند نمونه مسئله را با چوب خط یا با کشیدن شکل حل کن . سپس جمله ی مربوط به جمع یا تفریق را بنویس .

۱۳ شیرینی در ظرف بود . بچه ها ۸ تا از آن ها را خوردند . حالا چند شیرینی در ظرف مانده ؟



$$۱۳ - ۸ = \square$$

شیرینی در ظرف مانده

www.mamplus.com

۵ قطعه پیتزا در سفره بود . پدر هم ۱۰ قطعه دیگر اضافه کرد . حالا چند قطعه پیتزا در سفره است ؟



کدام یک سبک تر است . با × مشخص کن .

