


کاربرگ و مهارت‌های
مربوط به تم ۲۳
ریاضی اول دبستان

www.mamplus.com

پایه ی اول
به نام خدای خوب



نام زیبای من:

تاریخ:

۱- جاهای خالی را با اعداد مناسب کامل کن.

شصت و یک	شانزده	هشتاد و پنج	بیست و سه	چهل و نه	هفتاد	هیجده
-----	-----	-----	-----	-----	-----	-----

۶۴ - ۶۵ - -----

۱۷ - ۱۸ - -----

$۱۲ + ۳ + ۵ = \text{-----}$

۲- برای عبارت روبه رو یک مسئله بنویس و با کمک محور حل کن.

۰ ۱ ۲ ۳ ۴ ۵ ۶ ۷ ۸ ۹ ۱۰ ۱۱ ۱۲ ۱۳ ۱۴ ۱۵ ۱۶ ۱۷ ۱۸ ۱۹ ۲۰

۳- جواب جمع ها و تفریق های زیر را به دست بیاور.

www.mamplus.com

$۴۵ + ۵ = \text{-----}$	$۱۲ + ۳ = \text{-----}$	$۴۰ - ۱۰ = \text{-----}$	$۳۵ - ۵ = \text{-----}$
$۸۰ + ۱۰ = \text{-----}$	$۶۰ + ۴ = \text{-----}$	$۸ - ۱ = \text{-----}$	$۹۰ - ۳۰ = \text{-----}$

۴- ابتدا برای عددها چوب خط بکش و سپس جاهای خالی را کامل کن.

با عدد: -----	با عدد: -----
با حروف: -----	با حروف: -----
۱۷	۲۶
-----	-----

۵- در جدول زیر با مداد صورتی ۸ تا ۸ تا و با مداد آبی ۹ تا ۹ تا بشمار و رنگ بزن. عدد کدام خانه را دو بار زنگ زدی؟ آن را داخل بادکنک بنویس.

۱	۲	۳	۴	۵	۶	۷	۸	۹	۱۰
۱۱	۱۲	۱۳	۱۴	۱۵	۱۶	۱۷	۱۸	۱۹	۲۰
۲۱	۲۲	۲۳	۲۴	۲۵	۲۶	۲۷	۲۸	۲۹	۳۰
۳۱	۳۲	۳۳	۳۴	۳۵	۳۶	۳۷	۳۸	۳۹	۴۰
۴۱	۴۲	۴۳	۴۴	۴۵	۴۶	۴۷	۴۸	۴۹	۵۰
۵۱	۵۲	۵۳	۵۴	۵۵	۵۶	۵۷	۵۸	۵۹	۶۰
۶۱	۶۲	۶۳	۶۴	۶۵	۶۶	۶۷	۶۸	۶۹	۷۰
۷۱	۷۲	۷۳	۷۴	۷۵	۷۶	۷۷	۷۸	۷۹	۸۰

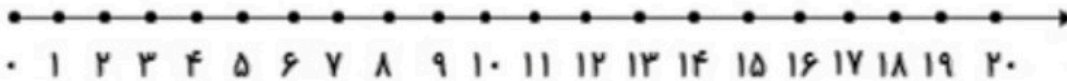


۶- جواب هر مسئله را با کمک محور به دست بیاور.

www.mamplus.com

۱۷ سیب روی میز بود. پدر ۶ سیب را شست. برادر هم ۵ سیب را شست.

چند سیب نشسته روی میز باقی ماند؟



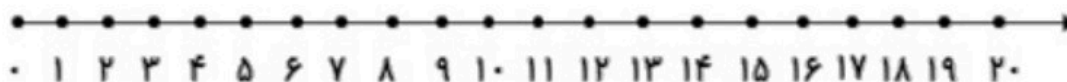
فاطمه ۸ کتاب داشت. او ۷ کتاب دیگر از نمایشگاه خرید. آموزگار هم ۵ کتاب به او جایزه داد.

حالا فاطمه چند کتاب دارد؟



باغبان ۸ درخت سیب، ۴ درخت گلابی و ۵ درخت آلبالو کاشته است. او در باغ خود چند درخت

کاشته است؟



باز خورد آموزگار



به نام خدا

دبستان شاهد شهید فهمیده - برازجان

آزمون ریاضی تا پایان تم ۲۳

نام و نام خانوادگی

۱ - جاهای خالی را با عدد مناسب کامل کن .

$10 + 10 + 10 = \square$

$5 + 5 + 5 + 5 + 4 = \square$

$20 + 10 + 5 + 5 = \square$

$20 + 20 + 7 = \square$

$20 - 5 - 5 - 5 = \square$

$10 + 10 + 5 - 2 = \square$

۲ - به حروف یا رقم بنویس .

سی و هفت		پنجاه و شش		نود و یک	
	۶۴		۷۹		۸۲

۳ - مسئله را با چوب خط رنگی حل کن . عبارت جمع را هم بنویس .

رضا ۶ مداد داشت . پدرش ۵ مداد دیگر به او داد .

مادرش هم ۸ مداد دیگر به او داد . حالا رضا چند مداد دارد ؟

حالا رضا مداد دارد .

www.mamplus.com

۴ - با توجه به الگو ، عددهای نوشته نشده را بنویس .

۲۵ - ۳۰ - ۳۵ - - - - -

۱۰ - ۲۰ - ۳۰ - - - - -

۴ - ۶ - ۸ - - - - -

- - - - - ۱۵ - ۱۸ - ۲۱

- - - - - ۳۵ - ۴۰ - ۴۵

۵ - دنباله ی عدد را بنویس .

۷۶

۷۷

--	--	--	--	--	--	--	--	--	--

۶ - جواب جمع و تفریق را نوشته و دور علامت مناسب خط بکش .

$20 + 30 = \square$

< = >

$20 + 10 = \square$

$10 + 10 + 5 + 5 = \square$

< = >

$25 + 5 + 5 - 5 = \square$

$10 - 4 = \square$

< = >

$7 + 8 = \square$

۷ - با توجه به ساعت ها ، جاهای خالی را کامل کن ؛ و عقربه های ساعت سمت راست را بکش . www.mamplus.com



ساعت است

زمان بین ساعت و است .

ساعت ۱۰ را نشان بده .

۸ - منیژه ۹ جوجه داشت . او ۹ جوجه ی دیگر از بازار خرید . منیژه ۳ جوجه را به خواهرش داد . حالا منیژه چند جوجه دارد ؟



۰ ۱ ۲ ۳ ۴ ۵ ۶ ۷ ۸ ۹ ۱۰ ۱۱ ۱۲ ۱۳ ۱۴ ۱۵ ۱۶ ۱۷ ۱۸ ۱۹ ۲۰

حالا منیژه جوجه دارد .

8	5	2	9	0	3	6	4	7	1
۸									

۹ - مانند نمونه کامل کن .

ضعیف

متوسط

خوب

عالی

بازفورد توصیفگر آموزگار :

به نام فدای
مهربان



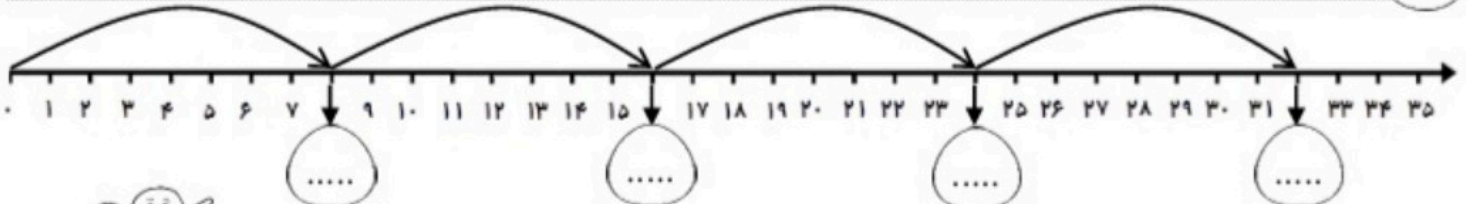
نام زیبای من :





تاریخ :

طراح : مهید مهدی فانی

جاهای خالی را کامل کن، سپس به سوال پایین با کمک محور پاسخ بده.

۱



* ۴ تا هشت پا روی هم چند پا دارند؟ از محور بالا کمک بگیر و جواب را بنویس. پا    

جمع و تفریق های زیر را مانند نمونه انجام بده. www.mamplus.com

۲

$7 + 5 + 3 + 5 + 4 = \dots$	$5 + 10 - 5 + 10 + 10 + 1 = \dots$	$6 + 4 + 5 - 5 + 4 = \dots$
$1 + 5 + 4 + 5 + 10 + 10 = \dots$	$2 + 5 + 3 - 5 + 10 = \dots$	$8 + 4 + 2 + 6 - 4 = \dots$
$10 - 10 + 5 + 9 + 5 = \dots$	$3 + 7 - 10 + 5 + 10 = \dots$	$10 + 4 + 6 - 3 - 7 = \dots$

عددهای مثل هم را با یک رنگ به هم وصل کن.

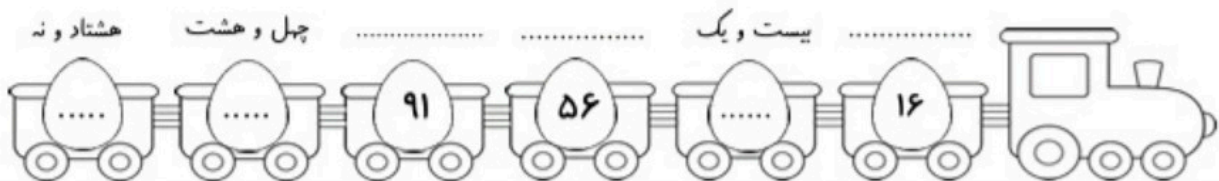
۳

94 63 79 46 57 85

هفتاد و نه چهل و شش بنجاه و هفت نود و چهار هشتاد و پنج شصت و سه

جاهای خالی را کامل کن.

۴



مسئله های زیر را با رسم چوب خط حل کن.

۵


* امیرعلی برای تولدش ۹ بادکنک باد کرد. خواهر و برادرش هم هر کدام ۹ بادکنک باد کردند. آن ها روی هم چند بادکنک باد کرده اند؟ بادکنک

* گل فروشی ۴ گلدان داشت. او در هر گلدان ۹ گل کاشت. گل فروش روی هم چند گل کاشته است؟ گل

با مداد زرد ۸ تا ۸ تا بشمار و رنگ بزن، با مداد نارنجی ۹ تا ۹ تا بشمار و رنگ کن. کدام خانه را دو بار رنگ زدی؟ در داخل گل بنویس.

۶

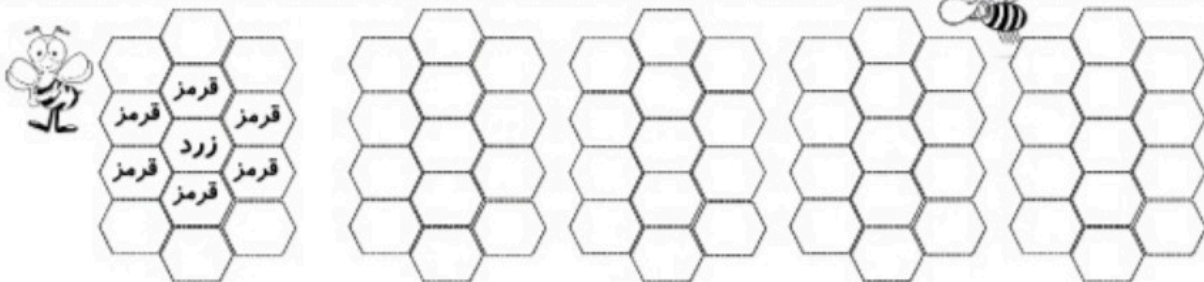
۱	۲	۳	۴	۵	۶	۷	۸	۹	۱۰
۱۱	۱۲	۱۳	۱۴	۱۵	۱۶	۱۷	۱۸	۱۹	۲۰
۲۱	۲۲	۲۳	۲۴	۲۵	۲۶	۲۷	۲۸	۲۹	۳۰
۳۱	۳۲	۳۳	۳۴	۳۵	۳۶	۳۷	۳۸	۳۹	۴۰
۴۱	۴۲	۴۳	۴۴	۴۵	۴۶	۴۷	۴۸	۴۹	۵۰
۵۱	۵۲	۵۳	۵۴	۵۵	۵۶	۵۷	۵۸	۵۹	۶۰
۶۱	۶۲	۶۳	۶۴	۶۵	۶۶	۶۷	۶۸	۶۹	۷۰
۷۱	۷۲	۷۳	۷۴	۷۵	۷۶	۷۷	۷۸	۷۹	۸۰



www.mamplus.com

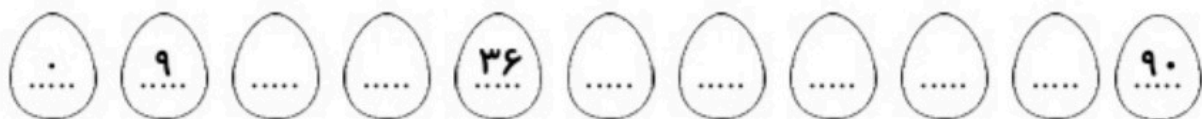
مانند نمونه رنگ بزن.

۷


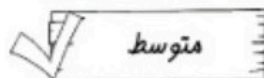



۹ تا ۹ تا بشمار و در جاهای خالی عدد مناسب بنویس.

۸



نظر آموزگار:



نام و نام خانوادگی :

دبستان :

اعداد مربوط به هم را وصل کن .

۵۰ ۷۸ ۹۳ ۲۵ ۹ ۱۸

بیست و پنج هیجده نه نود و سه پنجاه هفتاد و هشت

در هر قسمت دسته های ده تایی درست کن و در جاهای خالی عدد مناسب بنویس.



www.mamplus.com

اعداد زیر را به ترتیب ادامه بده .

۴۵									
۶۸									

حاصل هر کدام را بنویس.

$10 + 20 + 5 + 5 = \text{-----}$

$10 + 10 - 5 = \text{-----}$

ساعت چند است ؟



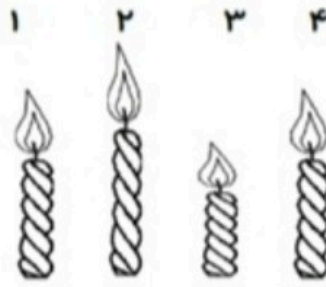
زمان بین ساعت و است.

ساعت است .

$30 + 30 = \text{---}$ $20 + 40 = \text{---}$

جواب را بدست آور و داخل مربع علامت مناسب > یا < یا = بگذار.

در جای خالی عدد مناسب بنویس.



شمع شماره ی کوتاه ترین شمع است.

شمع شماره ی بلندترین شمع است.

شمع شماره ی هم اندازه ی شمع شماره ی است.

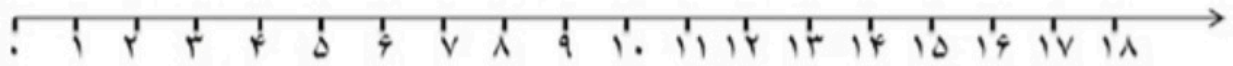
۷

مسئله را به کمک و محور حل کن .

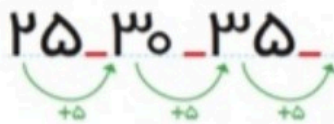
علی ۱۵ مداد داشت. ۳ مداد را به حسن داد. ۳ مداد دیگر را به حمید داد. ۳ مداد دیگر را به حسین داد.

چند مداد برای علی باقی ماند؟


..... مداد برای علی باقی مانده است .



۸



الگو هارا ادامه بده .



۹

www.mamplus.com

با رسم شکل مسئله را حل کن .

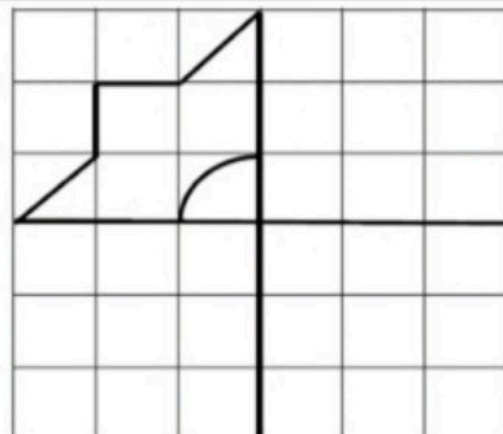
دو دسته ی ۱۰ تایی ماهی در آب شنا می کردند. سه دسته ی ماهی دیگر به آن ها اضافه شدند.

حالا چند ماهی در آب شنا می کنند؟

..... ماهی در آب شنا می کنند.

۱۰

۴	۷	۹	۱	۶	۵
	۲	۳			۸
					۱
	۱	۴	۷	۸	۵
۶		۲	۳		۹
	۳	۶	۵	۸	۱
۸					
۵	۹			۴	۲
۷		۱	۵	۲	۹
					۸



کامل کن .

۱۱

جای خالی را با عدد مناسب کامل کن.

$$۵+۵+۵+۳=$$

$$۵-۲۰=$$

$$۲۰+۱۰+۵=$$

$$۵+۱۰+۳۰=$$

$$۱۰+۵+۳۰=$$

$$۲۰+۵+۳=$$

$$۵۰+۲۰+۵+۳=$$

$$۱۰+۶-۳=$$

www.mamplus.com



$$۰-۸-۱۶-۲۴-$$

-

-

-

$$۰-۹-۱۸-۲۷-$$


-

-

-

با چوب خط جمع بنزن.


$$۶+۵+۸=$$



$$۳+۹+۴=$$



با توجه به مربع های رنگ شده یا چوب خط ها جمع ها را بنویس و حاصل را پیدا کن.



$$\dots + \dots + \dots = \dots$$



$$\dots + \dots + \dots = \dots$$

مرحله به مرحله جمع بنن و پیین حاصل چه عددی می شود.



به عدد و حروف بنویس.

۱۰			۸	۵			۴		۱
	صفر	نه			شش	سه		دو	

www.mamplus.com

در اعداد زیر دور ده تایی ها خط بکش.

۴۴ ۶۹ ۵۸ ۱۲ ۵۴ ۲۶

از عدد ۶۷ شروع کن و تا عدد ۷۵ بنویس.

.....

از عدد ۸۳ شروع کن و تا عدد ۹۱ بنویس.

.....

.....

به هر عدد ۵ تا اضافه کن و پیین به چه عددی می رسی.

$$۴۶ \xrightarrow{+۵}$$

$$۶۳ \xrightarrow{+۵}$$

$$۵۱ \xrightarrow{+۵}$$

$$۳۷ \xrightarrow{+۵}$$

