




کاربرگ و مهارت‌های
مربوط به تم ۲۲
ریاضی اول دبستان
www.mamplus.com

پایه ی اول
به نام خدای خوب



نام زیبای من:

تاریخ:

www.mamplus.com

۱- جاهای خالی را با اعداد مناسب کامل کن.

$$\begin{array}{r} 30 \\ + 5 \\ \hline \end{array}$$

$$\begin{array}{r} 35 \\ - 5 \\ \hline \end{array}$$

صد - نود

۷۷ - ۷۸

۲- حاصل جمع های زیر را بنویس و سپس با توجه به جواب جمع، جاهای خالی را کامل کن.

$$10 + 5 + 5 + 5 = \dots$$

با عدد:

با حروف:

$$20 + 10 + 5 + 5 = \dots$$

با عدد:

با حروف:

$$10 + 30 + 5 + 5 = \dots$$

با عدد:

با حروف:

۳- جواب تفریق های زیر را به دست بیاور.

$$35 - 5 = \dots$$

$$55 - 5 = \dots$$

$$40 - 20 = \dots$$

$$30 - 20 = \dots$$

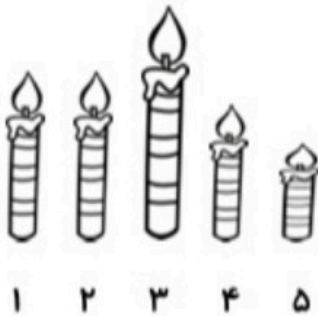
$$25 - 5 = \dots$$

$$45 - 5 = \dots$$

$$20 - 10 = \dots$$

$$50 - 10 = \dots$$

۴- جاهای خالی را با توجه به شکل کامل کن.



شمع شماره ی ۱ ----- شمع شماره ی ۲ است.

شمع شماره ی ----- بلندترین شمع است.

شمع شماره ی ----- کوتاه ترین شمع است.

۵- در جدول زیر با مداد نارنجی ۵ تا ۵ تا، با مداد سبز ۶ تا ۶ تا بشمار و رنگ بزن. اعداد خانه هایی را که سبز شده اند، بنویس.



۱	۲	۳	۴	۵	۶	۷	۸	۹	۱۰
۱۱	۱۲	۱۳	۱۴	۱۵	۱۶	۱۷	۱۸	۱۹	۲۰
۲۱	۲۲	۲۳	۲۴	۲۵	۲۶	۲۷	۲۸	۲۹	۳۰
۳۱	۳۲	۳۳	۳۴	۳۵	۳۶	۳۷	۳۸	۳۹	۴۰
۴۱	۴۲	۴۳	۴۴	۴۵	۴۶	۴۷	۴۸	۴۹	۵۰

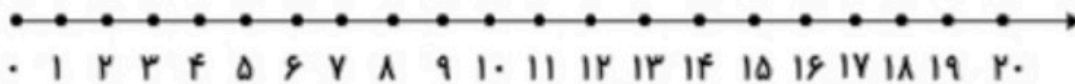
-----	-----
-----	-----
-----	-----
-----	-----

۶- جواب هر مسئله را با کمک شکل به دست بیاور و سپس روی محور نشان بده.

۱۵ فرشته در اتاق بودند. ۵ فرشته دیگر هم آمدند. ۷ تا از فرشته ها به آسمان رفتند.

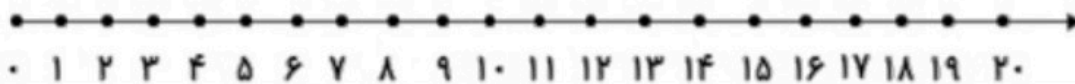
www.mamplus.com

حالا چند فرشته در اتاق هستند؟-----

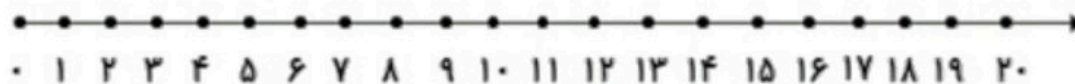


۱۶ شکلات در دکان بود. معصومه ۷ شکلات خرید. آذر هم ۵ شکلات خرید.

چند شکلات در دکان باقی ماند؟-----



۱۷ دوچرخه به مسابقه آمده بود. ۹ دوچرخه پنچرشد. حالا چند دوچرخه می تواند در مسابقه شرکت کند؟-----



باز خورد آموزگار





به نام فدای
مهربان

طراح : مهید مهدی فانی

نام زیبای من :

تاریخ :

تعداد گردی های روی تاس ها را بشمار و در زیر آن ها بنویس.

۱

Four dice are shown in different orientations. Below each die is a cloud-shaped box for writing the number of dots.

- Die 1: 6 dots, cloud box:
- Die 2: 5 dots, cloud box:
- Die 3: 5 dots, cloud box:
- Die 4: 5 dots, cloud box:

برای هر شکل یک تفریق بنویس و برای تفریق سمت راست شکل بکش.

۲

Three boxes for subtraction problems:

- Box 1: A triangle of 10 dots with 4 dots crossed out. Below: - =
- Box 2: Three groups of 3 vertical lines with 2 lines crossed out in each group. Below: - =
- Box 3: Empty. Below: $35 - 15 = \dots\dots\dots$

با کمک محور مسئله ها را حل کن. www.mamplus.com

۳

* امروز ۳ تیر ماه است. دو هفته دیگر تولد نیکی است. چند روز تا تولد نیکی مانده است؟ روز



* مادر مهدی ۲۰ تا شیرینی درست کرد. ۳ تا شیرینی به زهرا و ۴ شیرینی به نیکان داد. اگر ۲ شیرینی هم به علی بدهد، چند شیرینی باقی می ماند؟ شیرینی



۴ ابتدا مشخص کن از الگوی زیر چند تا اضافه یا چند تا کم شده است. سپس آن را ادامه بده.

Two dashed boxes for number sequences:

- Box 1: $21 - 25 - 29 - \dots\dots\dots$ with a boy drawing below.
- Box 2: $\dots\dots\dots - 70 - 73 - 76$ with a girl drawing below.

۵- جواب جمع های زیر را با استفاده از چوب خط به دست آورید.



$$7 + 8 = \dots\dots\dots$$



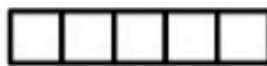
$$9 + 9 = \dots\dots\dots$$

۶- کامل کنید.

۱۰ - ۲۰ - ۳۰ - - - - -

..... - - - - - - ۷۰ - ۸۰ - ۹۰

۷- با رنگ کردن چینه ها حاصل جمع را به دست آورید.



$$4 + 2 + 5 + 3 =$$

www.mamplus.com

۸- جدول را کامل کن.

شکل	چوب خط	عدد	جدول				
			<table border="1"> <tr> <td>ده تایی</td> <td>یکی</td> </tr> <tr> <td></td> <td></td> </tr> </table>	ده تایی	یکی		
ده تایی	یکی						
		۱۹	<table border="1"> <tr> <td>ده تایی</td> <td>یکی</td> </tr> <tr> <td></td> <td></td> </tr> </table>	ده تایی	یکی		
ده تایی	یکی						

۹- جواب جمع و تفریق های زیر را به دست آورید.

$$40 + 30 = \dots\dots\dots$$

$$60 - 20 = \dots\dots\dots$$

$$50 + 40 = \dots\dots\dots$$

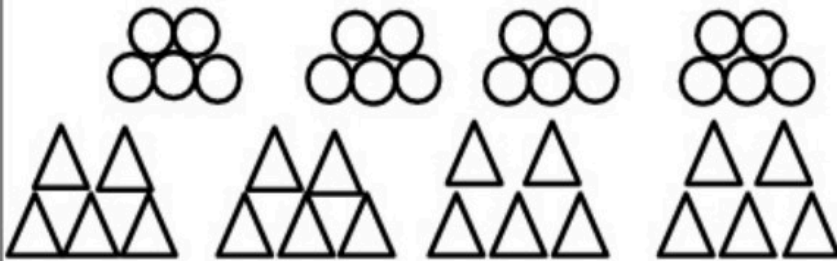
$$40 - 10 = \dots\dots\dots$$

۱۰- الگوی اعداد را ادامه بدهید. ۲ - ۴ - ۶ - ۸ - ۱۰ - - - - - -

۰ - ۳ - ۶ - ۹ - - - - -

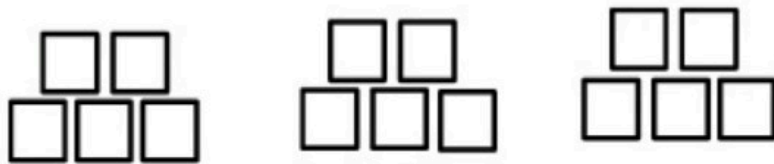
(فرزندم کوشش کن که امروز را با دستهایت زیبا سازی.)

۱- با استفاده از دو رنگ مختلف جواب جمع ها را پیدا کنید.



$9+6=$

$12+7=$



$5+8=$

www.mamplus.com

۲- برای عدد های زیر چوب خط بکشید.

$13=$

$16=$

$17=$

$19=$

۳- جاهای خالی را با عدد مناسب پر کنید.

$9 - \dots - 11 - \dots - \dots - \dots - \dots - 16 - \dots - \dots - 19$

۴- برای هر مسئله یک شکل ساده بکشید و جواب به دست آمده را روی محور نشان دهید.

۷ ماهی کوچک در تنگ آب بود. ۳ ماهی دیگر به آن اضافه کردیم. حالا چند ماهی در تنگ است؟

.....





رضا ۹ بادکنک داشت ۵ تا از بادکنک ها به هوا رفت. چند تا بادکنک مانده است؟

.....



در خانه های زیر از ۳۰ تا ۴۹ بنویس.



✓ از عدد ۳۰ شروع کن و ۵ تا ۵ تا بشمار و هر خانه را زرد کن.

✓ از عدد ۳۰ شروع کن و ۶ تا ۶ تا بشمار و هر خانه را سبز کن.

✓ از عدد ۳۰ شروع کن و ۷ تا ۷ تا بشمار و هر خانه را نارنجی کن.

حاصل جمع های زیر را بنویس، سپس با توجه به حاصل جمع جاهای خالی را کامل کن.

$5 + 10 + 5 + 10 = \dots\dots\dots$

$10 + 10 + 10 + 20 = \dots\dots\dots$

$\dots\dots\dots + 5 + 5 + 15 = 45$

با عدد : $\dots\dots\dots$

با عدد : $\dots\dots\dots$

با عدد : $\dots\dots\dots$

با حروف : $\dots\dots\dots$

با حروف : $\dots\dots\dots$

با حروف : $\dots\dots\dots$

حاصل تفریق های زیر را بدست بیاور. www.mamplus.com

$55 - 10 = \dots\dots\dots$

$65 - \dots\dots\dots = 40$

$35 - 5 = \dots\dots\dots$

$40 - 20 = \dots\dots\dots$

$20 - 10 = \dots\dots\dots$

$35 - 20 = \dots\dots\dots$

$70 - \dots\dots\dots = 20$

$60 - 20 = \dots\dots\dots$

با توجه به زمان نوشته شده در پایین هر ساعت عقربه ی کوچک ساعت را بکش.



۱۱ : ۰۰



۶ : ۰۰


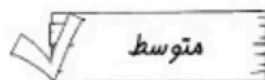



۸ : ۰۰



۳ : ۰۰

نظر آموزگار: $\dots\dots\dots$



به نام خدا - نام و نام خانوادگی:

به خانم هفت کمک کن تا به سلامتی از دریا به خشکی برسد. ۷ تا ۷ تا بشمار و رنگ کن.





۱ ۲ ۳ ۴ ۵ ۶ ۷ ۸ ۹ ۱۰ ۱۱ ۱۲ ۱۳ ۱۴ ۱۵ ۱۶




۱۷ ۱۸

۱۹ ۲۰ ۲۱ ۲۲ ۲۳ ۲۴ ۲۵ ۲۶ ۲۷ ۲۸ ۲۹ ۳۰ ۳۱ ۳۲ ۳۳ ۳۴ ۳۵



۳۶ ۳۷ ۳۸ ۳۹ ۴۰ ۴۱ ۴۲ ۴۳ ۴۴ ۴۵ ۴۶ ۴۷ ۴۸ ۴۹ ۵۰ ۵۱ ۵۲ ۵۳ ۵۴ ۵۵ ۵۶



۵۷ ۵۸ ۵۹ ۶۰ ۶۱ ۶۲ ۶۳ ۶۴ ۶۵ ۶۶ ۶۷ ۶۸ ۶۹ ۷۰ ۷۱ ۷۲ ۷۳ ۷۴ ۷۵ ۷۶



حالا عددهای خانه هایی را رنگ کنی که ترتیب بنویس.

www.mamplus.com



۹۶ ۹۷ ۹۸ ۹۹

به دلخواه نام پنج تا از تصاویر بالا را بنویس.

نظر معلم: