

کاربرد و مهارت‌های
مربوط به تم ۲۱
ریاضی اول دبستان

www.mamplus.com

۱ قبل و بعد از اعداد زیر را بنویس.

..... - ۵۶ - - ۱۴ - - ۷۸ -

۲ جواب عبارت های زیر را بنویس و سپس علامت مناسب را انتخاب کن.

$۴۰ + ۳۰ - ۱۰ = \square$ $< = >$ $۳۰ + ۱۰ + ۲۰ = \square$

$۲۰ + ۱۰ - ۵ = \square$ $< = >$ $۵۰ + ۳۰ - ۵ - ۵ = \square$

$۷۰ + ۱۰ - ۲۰ = \square$ $< = >$ $۳۰ + ۵ + ۵ - ۱۵ = \square$

www.mamplus.com

۳ برای جمع های زیر چوب خط بکش و جواب هر عبارت را بنویس.

$۴ + ۵ + ۲ = \dots\dots$

$۲ + ۴ + ۱ = \dots\dots$

$۶ + ۳ + ۷ = \dots\dots$

$۵ + ۴ = \dots\dots$

۴ برای عبارت زیر مسئله بساز و آن را حل کن و برایش شکل بکش.

.....

.....

شکل:




ردیف	تفاوت آزمائی	عمل خوب	خوب	تامل خوب	بهره عالی
۱	قبل و بعد اعداد را - درستی نوشت است.				
۲	جواب عبارت ها را - درستی نوشت است و درستی آن ها را علامت کرده است.				
۳	برای عبارت ها - درستی چوب خط کشیده است.				
۴	برای عبارت - درستی مسئله ساخته است.				

بازخورد آموزگار:



خود سنجی:

جاهای خالی را با توجه به تصویر کامل کن.



www.mamplus.com

✓ مداد شماره ۲ از مداد شماره ۱ است.

✓ مداد شماره ۱ کوتاه ترین مداد است.

✓ مداد شماره ۵ با مداد شماره ۱ هم اندازه است.

✓ مداد شماره ۱ بلندترین مداد است.


✓ مداد شماره ۴ از مداد شماره ۲ است.

با کمک چوب خط، جواب مسئله های زیر را پیدا کن.

* نیکان ۵ صفحه از کتاب داستان خود را دیروز صبح خواند. ۸ صفحه هم دیروز عصر خواند. ۵ صفحه ی آن را هم امروز خواند. نیکان چند صفحه کتاب خوانده است؟ صفحه

* ۴ نفر در حیاط مدرسه بودند. ۸ نفر دیگر هم آمدند. ۶ نفر دیگر هم بعد از چند دقیقه آمدند. چند نفر در حیاط مدرسه هستند؟ نفر

جاهای خالی را کامل کن.



زمان بین ساعت و است.


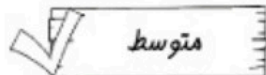



زمان بین ساعت و است.




زمان بین ساعت و است.

نظر آموزگار:



پایه ی اول
به نام خدای خوب



نام زیبای من:

تاریخ:

www.mamplus.com

۱- جاهای خالی را با اعداد مناسب کامل کن.

$55 - 60 = \dots$

$+ 5$

$10 - 20 = 30$

$+ 10$

$32 - \dots - 35 - 36$

$12 - 13$

۲- جمع های زیر را با چوب خط حساب کن و سپس با توجه به جواب جمع، جاهای خالی را کامل کن.

$12 + 4 + 3 = \dots$		با عدد:
		با حروف:

$8 + 6 + 7 = \dots$		با عدد:
		با حروف:

۳- جواب جمع و تفریق های زیر را به دست بیاور.

$40 + 20 = \dots$

$10 + 5 + 50 = \dots$

$70 - 10 = \dots$

$20 - 20 = \dots$

$5 + 5 + 20 = \dots$

$60 - 10 = \dots$

$20 + 20 + 5 + 5 = \dots$


$50 - 20 = \dots$

$5 + 5 + 3 + 2 + 4 + 1 + 30 = \dots$

$60 - 50 = \dots$



۴- جاهای خالی را با توجه به شکل کامل کن.



مداد شماره ی ۵ ----- از مداد شماره ی ۲ است.

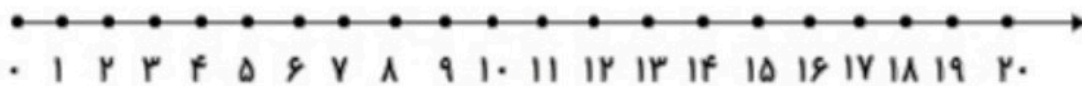
مداد شماره ی ----- بلندترین مداد است.

مداد شماره ی ۲ با مداد شماره ی ----- هم اندازه است.

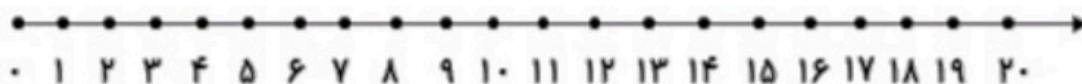
مداد شماره ی ----- کوتاه ترین مداد است. www.mamplus.com

۵- جواب هر مسئله را با کمک شکل یا چوب خط به دست بیاور و سپس روی محور نشان بده.

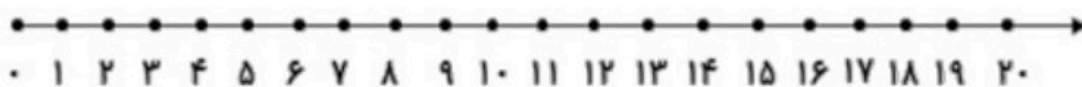
۸ مسافر در اتوبوس بودند. ۶ مسافر دیگر هم سوار شدند. در ایستگاه ۵ مسافر دیگر هم سوار شدند.
حالا چند مسافر در اتوبوس هست؟ -----



۵ ماهی در حوض بود. علی ۵ ماهی دیگر در حوض انداخت. حسین هم ۶ ماهی دیگر در حوض انداخت.
حالا چند ماهی در حوض است؟ -----



۱۴ شکلات در جعبه بود. بچه ها ۹ تا از شکلات ها را خوردند. چند شکلات در جعبه باقی مانده است؟ -----



باز خورد آموزگار



خود سنجی



نام و نام خانوادگی:

به نام خدا

تاریخ:

شماره کلاسی:

ارزشیابی مستمر ریاضی اول (تم ۲۱)

آموزشگاه شهیدمیاحی ۲



۱- فرزندم الگو را ادامه بده.

$$۴۷ - ۴۸ - \dots - \dots - ۵۱ - \dots - \dots$$

$$۶۱ - ۶۲ - \dots - \dots - ۶۵ - \dots - \dots$$

$$۳۳ - ۳۴ - \dots - \dots - ۳۷ - \dots - \dots$$



۲- جمع زیر را حل کنید.

$$۵ + ۵ + ۱۰ + ۱۰ = \dots$$

$$۱۰ + ۵ + ۵ + ۵ = \dots$$

$$۵ + ۱۰ + ۱۰ + ۱۰ = \dots$$

$$۱۰ + ۵ + ۱۰ + ۵ = \dots$$



۳- عددهایی که با حروف نوشته شده را به صورت عددی بنویس. www.mamplus.com

<input type="text"/>	سه	<input type="text"/>	یک	<input type="text"/>	هفت	<input type="text"/>	هشت	<input type="text"/>	شش
<input type="text"/>	پنج	<input type="text"/>	چهار	<input type="text"/>	نه	<input type="text"/>	دو	<input type="text"/>	ده



۴- مسئله را حل کنید.

۴ کبوتر روی درخت نشسته بودند. ۲ کبوتر دیگر به آنها اضافه شدند. ۳ کبوتر دیگر هم آمدند.

روی هم چند کبوتر شدند.



۲۱

تم

در اعداد زیر دور ده تایی ها خط بکش .

۴۴

۶۹

۵۸

۱۲

۵۴


۲۶

از عدد ۶۷ شروع کن و تا عدد ۷۵ بنویس .

از عدد ۸۳ شروع کن و تا عدد ۹۱ بنویس .

به هر عدد ۵ تا اضافه کن و ببین به چه عددی می رسی . www.mamplus.com

 $۴۴ \xrightarrow{+۵}$
 $۶۳ \xrightarrow{+۵}$
 $۵۱ \xrightarrow{+۵}$
 $۳۷ \xrightarrow{+۵}$



با توجه به مربع های رنگ شده یا چوب خط ها جمع ها را بنویس و حاصل را پیدا کن .

www.mamplus.com



$$\dots + \dots + \dots = \dots$$



$$\dots + \dots + \dots = \dots$$

مرحله به مرحله جمع بنزن و پپین حاصل چه عددی می شود .



به عدد و حروف بنویس .

۱۰			۸	۵			۴		۱
	صفر	نه			شش	سه		دو	



با چوب خط جمع بنزن.

$$۶ + ۵ + ۸ = \square$$

$$۳ + ۹ + ۴ = \square$$

www.mamplus.com


مسئله را با رسم چوب خط حل کن.



۷ گربه در کوچه بودند. ۶ گربه ی دیگر به آن ها

اضافه شدند. ۳ گربه ی دیگر هم آمدند.

چند گربه در کوچه است؟



۵ آب نبات در لیوان بود. زهرا ۸ آب نبات دیگر

به آن ها اضافه کرد. مینا هم ۴ آب نبات دیگر

آورد؛ حالا چند آب نبات در لیوان است؟

عدد ها و شکل ها را با توجه به الگو ادامه بده .

۴ ۶ ۸



۲۵ ۳۰ ۳۵



زمانی را که ساعت ها نشان می دهند را بنویس . www.mamplus.com



ساعت بین و است .



ساعت است .