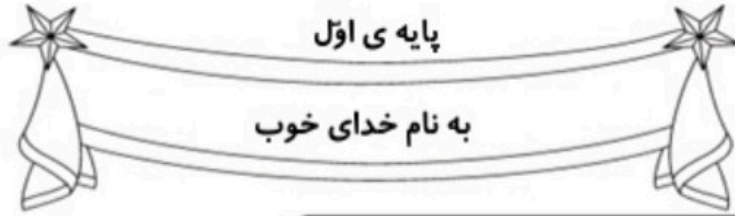


کاربرد و مهارت‌های مربوط به
تم ۲۰ ریاضی اول دبستان

www.mamplus.com



نام زیبای من:

تاریخ:

۱- عدد های زیر را ادامه بده.

۲۰ - ۲۵ - ۳۰ -----



۱۶ - ۲۶ - ۳۶ -----

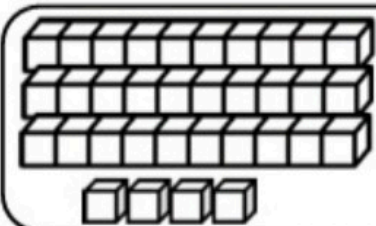


۵۲ - ۵۳ - ۵۴ -----

۷۴ - ۷۵ - ۷۶ -----

www.mamplus.com

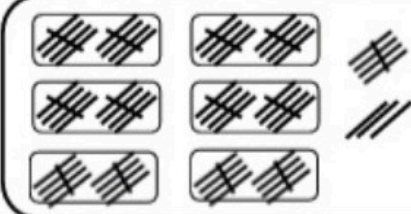
۲- جاهای خالی را با به طور مناسب کامل کن.



--- ده تایی و ---
--- یکی می شود

با عدد: -----
با حروف: -----

ده تایی	یکی
---	---



۶ ده تایی و ۸ یکی
--- می شود

با عدد: -----
با حروف: -----

ده تایی	یکی
---	---

۳- جواب جمع و تفریق های زیر را به دست بیاور.

۲۰ + ۵ = ----

۱۰ + ۴۰ + ۵ = ----

۷۰ - ۴۰ = ----

۵۰ - ۵۰ = ----

۱۰ + ۱۰ + ۱۰ = ----

۸۰ - ۱۰ = ----

۱۰ + ۱۰ + ۱۰ + ۵ = ----

۹۰ - ۲۰ = ----

۱۰ + ۱۰ + ۱۰ + ۵ + ۵ + ۵ + ۵ = ----

۶۰ - ۵ = ----



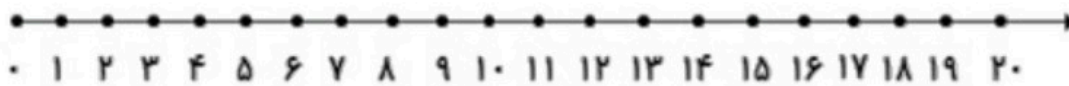
۴- برای هر مسئله شکل بکش و جواب آن را به دست بیاور.

۵ بسته ی ده تایی بستنی در یخچال بود. ۷ بستنی دیگر در یخچال قرار دادیم. حالا چند بستنی در یخچال است؟

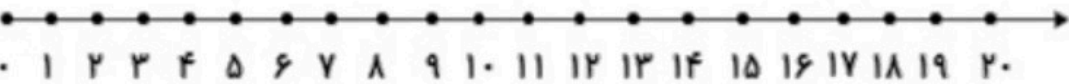
ژاله ۴ بسته ی ده تایی مداد داشت. مادرش ۲ بسته ی ده تایی دیگر به او داد. حالا ژاله چند مداد دارد؟

www.mamplus.com

۵- جمع و تفریق های زیر را روی محور نشان بده، سپس جواب آن ها را بنویس.

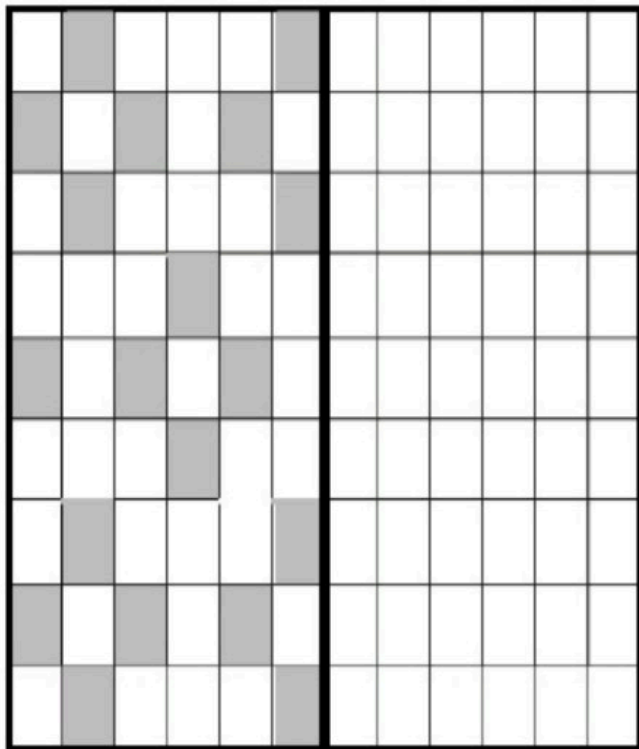


$$۵ + ۵ + ۵ = \text{-----}$$



$$۱۵ - ۹ = \text{-----}$$

۶- ابتدا مربع های شگفت انگیز را کامل کن. سپس جدول سمت چپ را طوری کامل کن که دو طرف آن مثل هم باشد.



۳	۶	۷	۲	۱	۵			
۲	۴	۵	۳	۱	۷	۶	۸	
۹	۷	۱	۶	۵	۸	۲	۴	۳
۷	۹	۲	۴	۶	۵	۳	۱	
	۶			۴				
۵	۳	۴	۹	۷	۸	۲	۶	
۶	۵	۷	۱	۲	۹	۳	۸	۴
۴	۲	۹	۸	۳	۱	۵	۷	
۱	۸	۵	۴	۹	۲			

بازخورد آموزگار

خود سنجی



به نام حضرت دوست

کاربرگ تمرین ریاضی

نام و نام خانوادگی:

جمع های زیر را انجام بده.

$$5+8+10-10+2=$$

$$2+3+5+5+10=$$

$$10+5+10+5+5=$$

$$10+10+5+5=$$

$$10+20+5-5=$$

$$2+2+2+2=$$

$$5+5+5+4+4=$$

$$40+5+1+4=$$

www.mamplus.com

جاهای خالی را کامل کن.

۹ یکی و ۷ ده تایی می شود.....

۴۷ می شود..... ده تایی و یکی

۲۲ ده تایی و ۶ یکی می شود.....

۳۸ یعنی یکی و ده تایی

۷ ده تایی و ۸ یکی می شود.....

۸۷ می شود..... ده تایی و یکی

خواهرم ۳ دسته ی ده تایی و ۴ یکی مداد دارد. او به من ۱ دسته ی ده تایی ۲ یکی مداد داد. او اکنون چند مداد دارد؟

پدر سمیه نجار است. او شنبه ۸ میز، یک شنبه ۵ میز و دوشنبه ۹ میز ساخته است. او روی هم چند میز ساخته است؟

پژمان ۶ سکه ی ۱۰ تومانی دارد. دو سکه ی ۵ تومانی هم پدرش به او داد. او چند تومان دارد؟ اگر یک مداد ۲۰ تومانی بخرد چقدر برایش باقی می ماند؟

کوتاه ترین فرد خانواده ی شما کیست؟

بلند ترین فرد خانواده ی شما کیست؟

چه کسانی از شما بلندترند؟

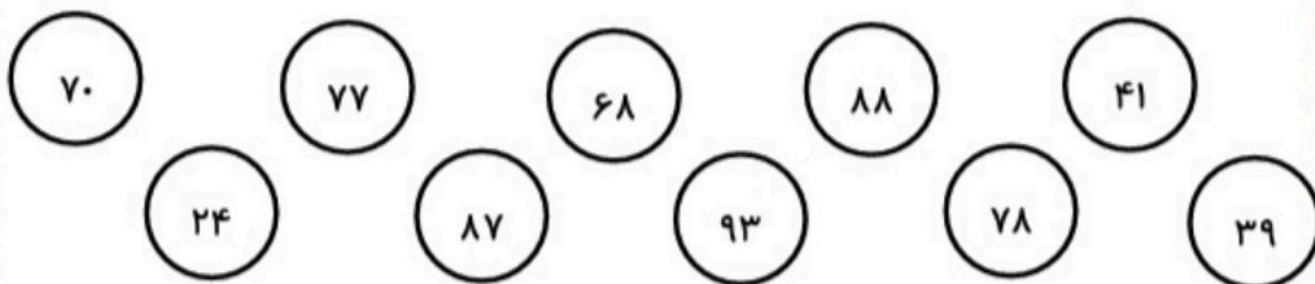
چه کسانی از شما کوتاه ترند؟

بیشترین عدد را سبز و کمترین عدد را زرد کن.

عددهای بین ۷۶ تا ۷۹ را آبی کن.

عدد قبل از عدد ۴۰ را بنفش کن.

عدد بعد از ۶۹ را قرمز کن.



www.mamplus.com

عددهای زیر را از کم تر به بیش تر مرتب کن.

۲۷-۵۷-۵۹-۳۰-۱۵-۳۶-۸۶-۶۲

الگوهای عددی را ادامه بده.

۱۶-۲۶-۳۶

۲۴-۳۰-۳۶

۴۲-۴۵-۴۸

آزمون ریاضی (تم ۲۰)

نام و نام خانوادگی :

سال تحصیلی ۹۱ - ۹۲

دبستان : میثاق ۲

۱ برای اعداد داده شده بسته های ده تایی و یکی بکش و آن را در جدول بگذار.


یکی	ده تایی



یکی	ده تایی



۲ دسته های ده تایی درست کن. جدول را کامل کن و عدد مربوط را بنویس.




یکی	ده تایی

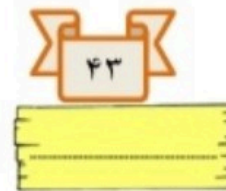

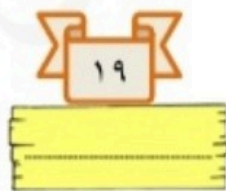
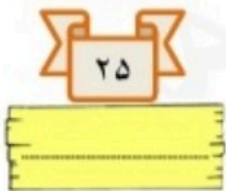


www.mamplus.com


۳ با توجه به عدد داده شده ، ادامه آن را بنویس.



۴ به حروف بنویس.



۵ سمت راست شکل را مانند سمت چپ رنگ کن.



۶ هر عدد را با خط کش به حروف مربوط به خودش وصل کن.

۹۵

هفتاد و چهار

۱۸

هشتاد

۸۰


نود پنج

۷۴

هجده

www.mamplus.com

۷ ۳ دسته ده تایی از پرستوها در حال پرواز بودند.
۲ دسته ده تایی دیگر از پرستوها به آنها پیوستند.
حالا چند پرستو در حال پرواز هستند؟
(برای مسئله شکل بکش و حل کن.)



۸ مرغ علی ۷ جوجه داشت.
۳ تا از جوجه ها زرد بودند.
چندتا از جوجه ها زرد نبودند؟

۹ پاسخ جمع و تفریق های زیر را به صورت ذهنی حل کن و بنویس.

$10 + 20 + 10 + 10 = \dots\dots\dots$	$10 + 10 + 20 + 30 = \dots\dots\dots$
$50 - 20 - 10 = \dots\dots\dots$	$60 + 5 + 5 = \dots\dots\dots$
$50 - 10 - 10 - 10 = \dots\dots\dots$	$20 + 10 + 10 + 30 = \dots\dots\dots$
$50 - 20 + 30 = \dots\dots\dots$	$10 + 10 + 10 + 10 + 5 = \dots\dots\dots$

نظر آموزگار :



جاهای خالی را با عدد مناسب کامل کن.

	یکی	ده تایی

یکی	ده تایی

	یکی	ده تایی

یکی	ده تایی

	یکی	ده تایی

یکی	ده تایی

	یکی	ده تایی

یکی	ده تایی

www.mamplus.com

۱۱ - ۲۱ - ۳۱ - ۴۱ - ۵۱ - ۶۱ - ۷۱ - ۸۱ - ۹۱

+10 +10 +10 +10


	یکی	ده تایی
	۳	۴

	یکی	ده تایی
	۴	۴

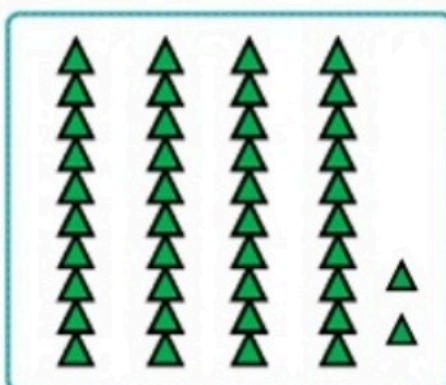
	یکی	ده تایی

	یکی	ده تایی

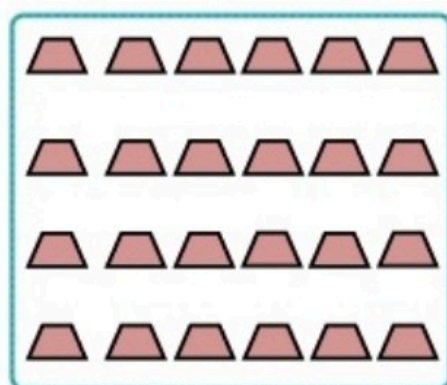
دسته هاس ده تایی درست کن. جدول را کامل و عدد مربوط به آن را بنویس.




ده تایی یکی



ده تایی یکی




ده تایی یکی




ده تایی یکی

www.mamplus.com



ده تایی یکی



ده تایی یکی

۲۰

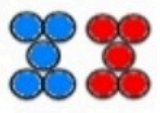


تم

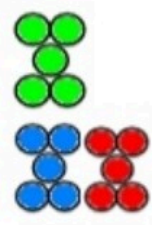
www.mamplus.com . جاهای خالی را کامل کن .



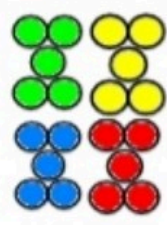
.....



.....



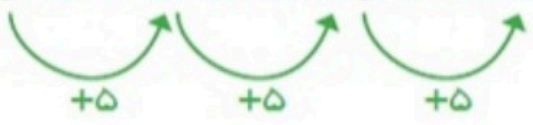
.....



.....

۵۳ ۵۴ ۵۵

۵ ۱۰ ۱۵



۲۰

۵۵ ۶۰ ۶۵



.....



.....

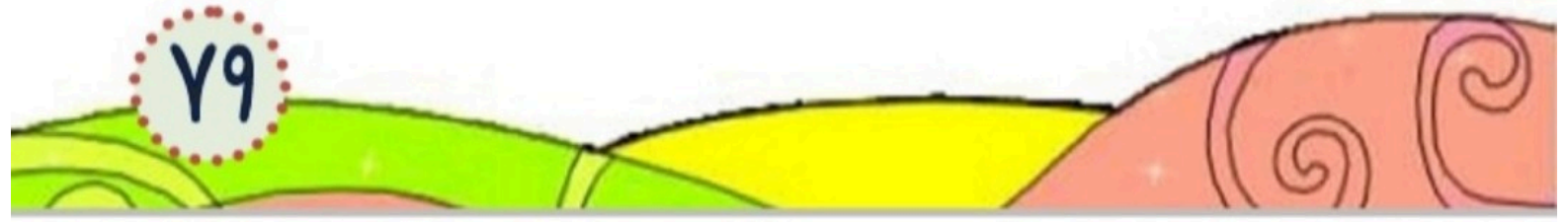


.....



.....

۷۹



www.mamplus.com حاصل جمع ها را به صورت ذهنی پیدا کن .

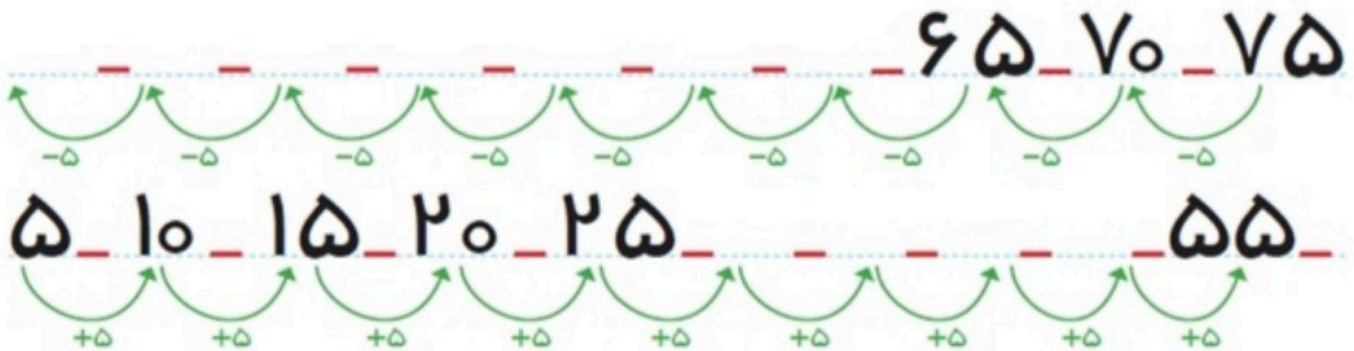
$$۲۵ + ۱۰ = \square$$

$$۱۰ + ۵ = \square$$

$$۲۰ + ۵ + ۵ = \square$$

$$۵ + ۵ = \square$$

$$۱۰ + ۱۰ + ۵ + ۵ + ۱۰ = \square$$



۳ بسته ده تایی ماهی در آب شنا می کردند.

۵ ماهی دیگر به آن ها اضافه شدند.

حالا چند ماهی در حال شنا هستند؟