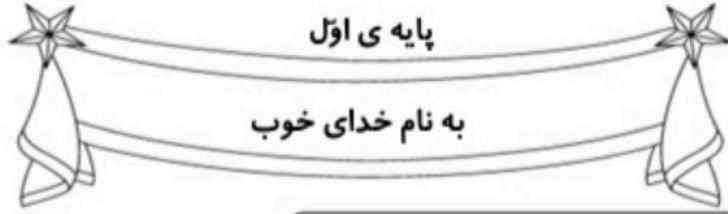


کاربرگ و مهارت‌های مربوط به  
تم ۱۹ ریاضی اول دبستان

[www.mamplus.com](http://www.mamplus.com)





نام زیبای من: .....

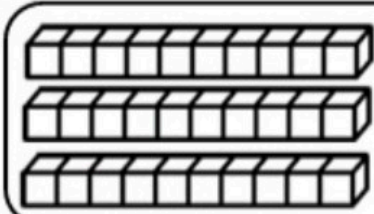
تاریخ: .....

۱- عدد های زیر را ادامه بده.

$$\begin{array}{r} 10 \\ - 5 \\ \hline \end{array}$$

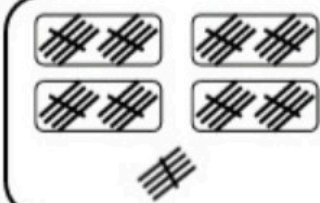
$$\begin{array}{r} 10 \\ - 20 \\ - 30 \\ \hline \end{array}$$

۲- جاهای خالی را با به طور مناسب کامل کن.



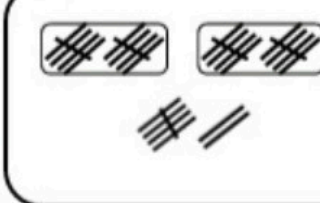
۳ ده تایی و ۰ یکی  
می شود

ده تایی	یکی	عدد: -----
-----	-----	حروف: -----



۴ ده تایی و ۵ یکی  
می شود

ده تایی	یکی	عدد: -----
-----	-----	حروف: -----



۲ ده تایی و ۷ یکی  
می شود

ده تایی	یکی	عدد: -----
-----	-----	حروف: -----

www.mamplus.com

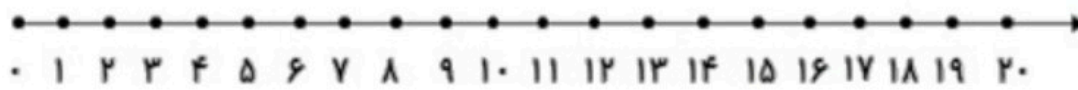
۳- جواب جمع و تفریق های زیر را به دست بیاور.

$50 + 10 = \text{-----}$	$50 + 40 = \text{-----}$	$20 + 60 = \text{-----}$	$70 - 10 = \text{-----}$	$80 - 50 = \text{-----}$
--------------------------	--------------------------	--------------------------	--------------------------	--------------------------

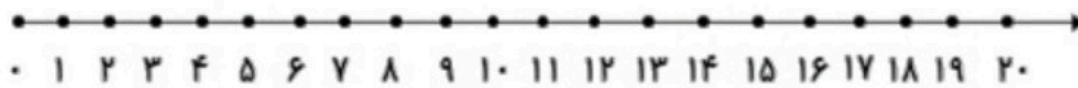
۴- برای مسئله شکل بکش و جواب آن را به دست بیاور.

۸ گنجشک روی درخت نشسته بود ۶ گنجشک دیگر پیش آن ها آمدند. چند گنجشک روی درخت هستند؟

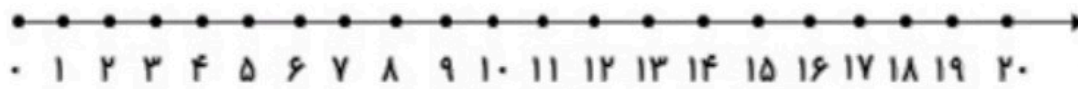
۵- جمع و تفریق های زیر را روی محور نشان بده، سپس جواب آن ها را بنویس.



$$10 + 5 + 5 = \text{-----}$$

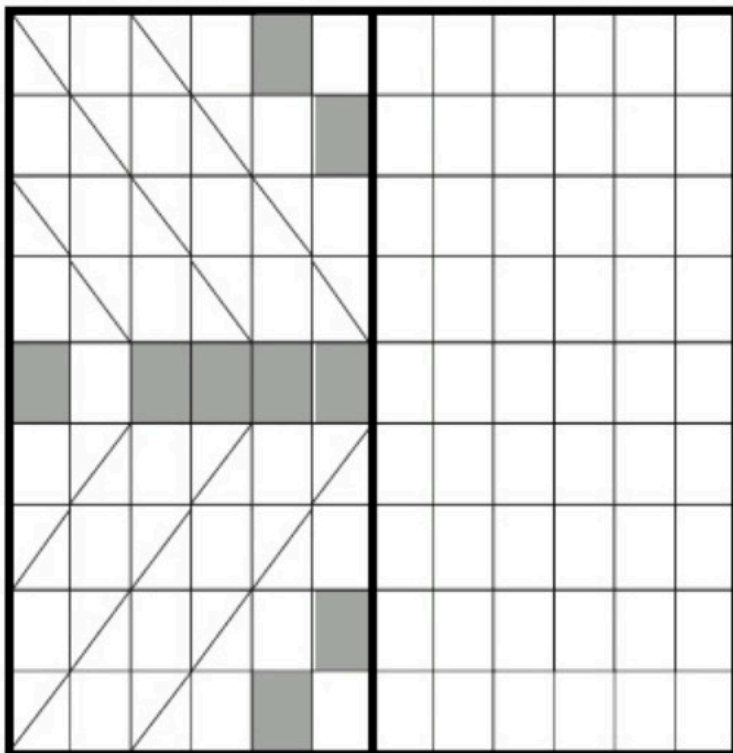


$$5 + 5 + 5 = \text{-----}$$



$$20 - 10 = \text{-----}$$

۶- ابتدا مربع های شگفت انگیز را کامل کن. سپس جدول سمت چپ را طوری کامل کن که دو طرف آن مثل هم باشد.

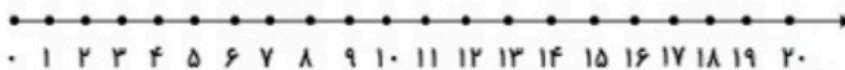


	۳	۵	۸	۴	۶	۲	۱	
۹	۸	۴	۳		۱	۵	۷	۶
۲	۶	۱	۷		۹	۳	۴	۸
۱	۷	۲		۳		۸	۶	۵
۴			۱	۸	۵			۲
۸	۵	۳		۷		۱	۹	۴
۳	۴	۷	۲		۸	۹	۵	۱
۵	۲	۹	۴		۳	۶	۸	۷
	۱	۸	۵	۹	۷	۴	۲	

www.mamplus.com

۷- جواب مسئله را با کمک محور به دست بیاور.

۱۲ شمع روشن بود. ۵ شمع خاموش شد. چند شمع روشن مانده است؟



باز خورد آموزگار




خود سنجی



رنگ آمیزی کن



سی



یکی ده تایی

.....


سی و یک



به نام خدا  
کار برگ احکام

نام و نام خانوادگی:.....



با توجه به دسته های ده تایی و یکی ها  
جدول را کامل کن و سپس عدد  
مربوطه را بنویس و آن را بخوان.



یکی ده تایی

.....


سی و دو




یکی ده تایی

.....

سی و سه




www.mamplus.com



یکی ده تایی

.....



سی و چهار



یکی ده تایی

.....



سی و پنج



یکی ده تایی

.....


سی و شش



یکی ده تایی

.....

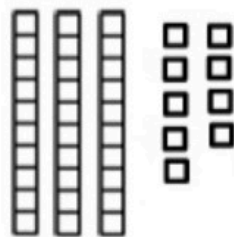
سی و هفت



یکی ده تایی

.....

سی و هشت




یکی ده تایی

.....

سی و نه



حالا اعداد بالا را به ترتیب در خانه های  
زیر بنویس.





# کار برگ ریاضی تم ۱۹

به نام خدا

پایه ی اول ابتدایی

نام و نام خانوادگی:

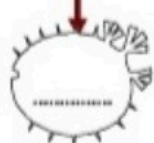
www.mamplus.com



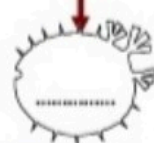
جدول ها را کامل کن و عدد هر دسته را بنویس.




یکی | ده تایی




یکی | ده تایی



در جاهای خالی عدد مناسب بنویس.



۱۰ - ۲۰ - ..... - ..... - ۵۰ - ..... - ..... - ۸۰ - .....



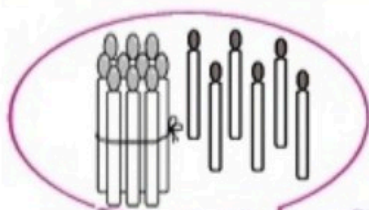
+۱۰ +۱۰ +۱۰ +۱۰ +۱۰

۴۰ + ۴۰ = .....

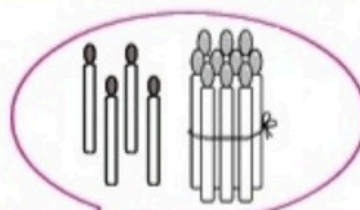
۵۰ + ۲۰ = .....

۲۰ + ۳۰ = .....

عدد دسته ها را بنویس.



.....



.....

جمع کن و علامت مناسب را انتخاب کن.



..... + ..... = .....



..... + ..... = .....

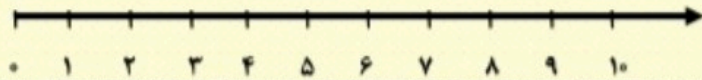
با کشیدن شکل ساده جواب مسئله را پیدا کن و روی محور نشان بده.



۶ ماهی در آب شنا می کردند.

پدر ۳ ماهی دیگر به آب انداخت.

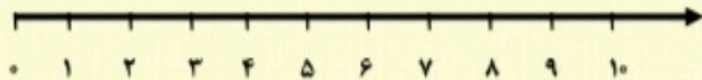
حالا چند ماهی در آب شنا می کنند؟



۸ بستنی خریده بودیم.

بچه ها ۵ تا از آن ها را خوردند.

چند بستنی برای ما می ماند؟



جدول زیر را کامل کن.



www.mamplus.com

۵	۲	۳	۶	۴	۱
۶					۲
۴	۳	۵	۲	۱	
۱		۲	۴	۳	۵
۲	۵			۶	۳
۳	۱			۲	۴

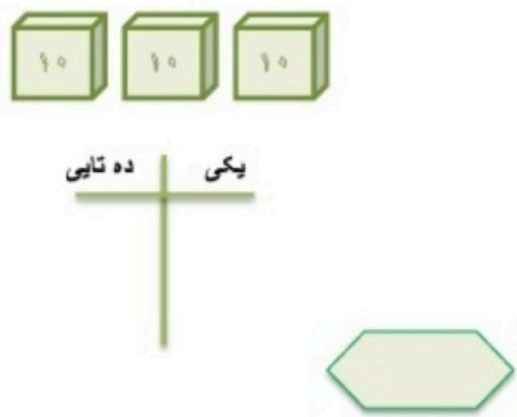
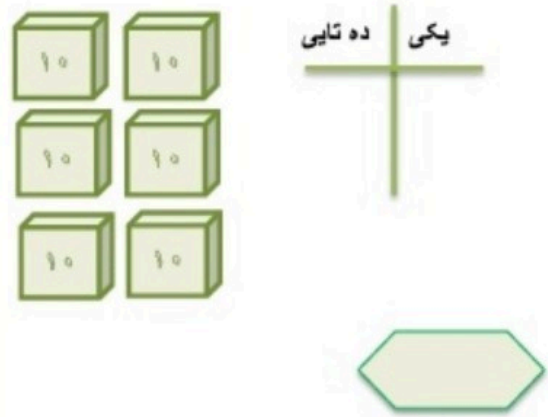



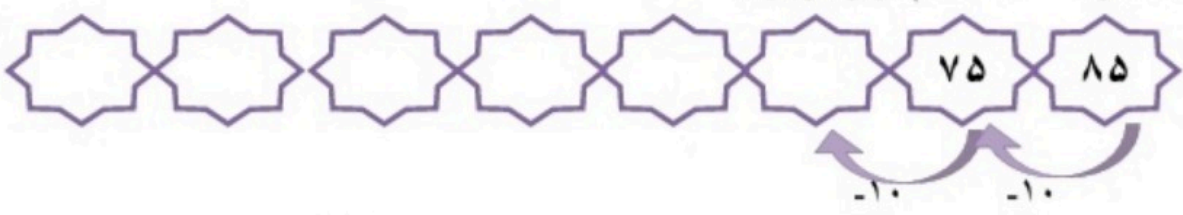
خسته نباشی.

باز خورد معلم:

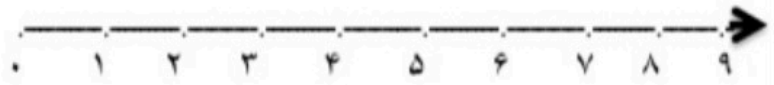
آزمون ریاضی (تم ۱۹)

نام و نام خانوادگی : .....

سال تحصیلی

<p>جدول ها را کامل کن و عدد آن را بنویس.</p> 	<p>جدول ها را کامل کن و عدد آن را بنویس.</p> 
<p>مانند نمونه ۱۰ تا ۱۰ تا اضافه کن و بنویس.</p>  <p>www.mamplus.com</p>	
<p>جمع های زیر را بنویس و حل کن.</p>  <p>_____ + _____ = _____</p>	<p>جمع های زیر را بنویس و حل کن.</p>  <p>_____ + _____ = _____</p>
<p>مانند نمونه ۱۰ تا ۱۰ کم کن و بنویس.</p> 	
<p>جمع و تفریق های زیر را حل کن.</p> <p>۵۰ + ۱۰ = <input type="text"/></p> <p>۴۰ - ۱۰ = <input type="text"/></p> <p>۴۰ + ۴۰ = <input type="text"/></p>	<p>جمع و تفریق های زیر را حل کن.</p> <p>۲۰ + ۶۰ = <input type="text"/></p> <p>۵۰ - ۳۰ = <input type="text"/></p>

۶ برای مسئله زیر شکل بکش و روی محور نشان بده. سپس جواب را بدست بیاور.  
- مادر سارا ۵ کتاب به او داد. خواهرش هم ۳ کتاب دیگر به او داد. سارا چند کتاب دارد؟



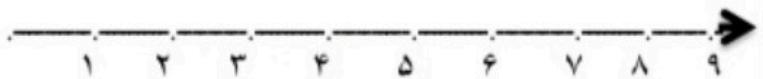
www.mamplus.com

۷ با توجه به علامت < > عددها را در جای مناسب بنویس.

۸ برای تفریق زیر یک مسئله بساز و بنویس. برایش شکل بکش و روی محور نشان بده.

$$7 - 5 = \dots\dots$$

.....  
.....  
.....



۹ جدول سودوکوی زیر را حل کن.

۶	۲	۹	۸	۳	۷	۱	۴	۵
۷	۸	۱	۴	۹	۵	۳	۲	۶
۴	۳			۶			۹	۷
۵				۴			۸	۱
	۴	۶	۳	۱	۸	۷	۵	۲
۸	۱			۵		۶	۳	
۲	۹			۸				۳
۱	۶	۸	۵	۲	۳	۴	۷	۹
۳	۵	۴	۹	۷	۶	۲	۱	۸

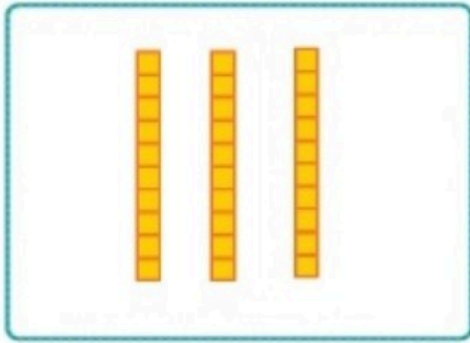
نظر آموزگار:  
.....  
.....  
.....



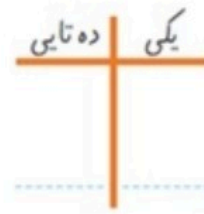
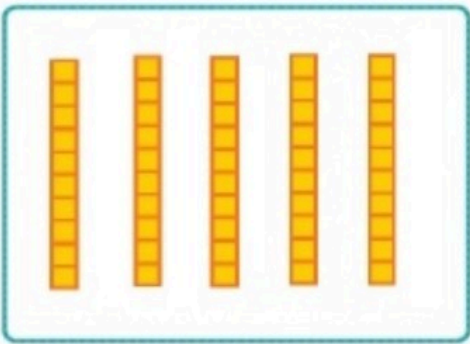
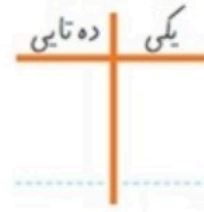
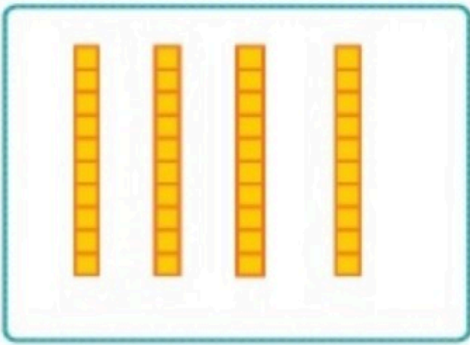
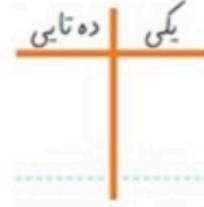
۱۹

تم

جدول را کامل کن و عددی را که هر شکل نشان می دهد کنار آن بنویس .



www.mamplus.com



13

۱۰ ۲۰ ۳۰



۷۳



جواب جمع ها را بنویس .

--	--

<input type="text"/>	+	<input type="text"/>	=	<input type="text"/>
----------------------	---	----------------------	---	----------------------

www.mamplus.com

--	--

<input type="text"/>	+	<input type="text"/>	=	<input type="text"/>
----------------------	---	----------------------	---	----------------------

$$۴۰ + ۱۰ = \dots$$

$$۵۰ + ۳۰ = \dots$$

$$۴۰ + ۳۰ = \dots$$

$$۲۰ + ۵۰ = \dots$$

$$۷۰ - ۱۰ = ۶۰$$

$$۶۰ - ۱۰ = ۵۰$$

برای هر مسئله یک شکل ساده بکش و جواب را بدست آور و روی محور نشان بده.

www.mamplus.com



۵ گوسفند در دشت چرانی کردند.

۳ گوسفند دیگر به آن‌ها اضافه شدند.

چند گوسفند در دشت است؟



۸ خرگوش بازی می کردند.

۲ تا از خرگوش‌ها رفتند.

چند خرگوش باقی مانده است؟



۶ توت در بشقاب بود.

۴ توت دیگر آورد.

حالا چند توت در بشقاب است؟





١٩

تم

٥	٦	٧	١	٢	٤	٣	٩	٨
٤	٢	٩	٥	٨	٣	٦	٧	١
١	٣			٧	٦		٤	٢
٧	٥			٨			٣	٦
٣	٩	٦	٤	١	٥	٨	٢	٧
٨	٤			٣			٥	٩
٩	١			٦			٨	٤
٢	٨	٣	٧	٤	١	٩	٦	٥
٦	٧	٤	٥	٩	٨	٢	١	٣

www.mamplus.com

..... + ..... = .....

< = >

..... + ..... = .....

10



٧٦