



کاربردگ و مهارت‌های مربوط به


تم ۱۸ ریاضی

اول دبستان


www.mamplus.com



۱- تعداد هر تصویر را نوشته و هر جا لازم بود علامت $< = >$ قرار بده.



○ □ ○




○ □ ○

www.mamplus.com

۲- برای تفریق داده شده شکل بکشید و باقی مانده را بدست آورید.

$8 - 5 =$

۳- جمع مربوط به شکل های زیر را بنویس.



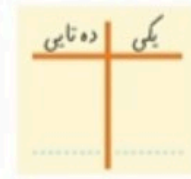
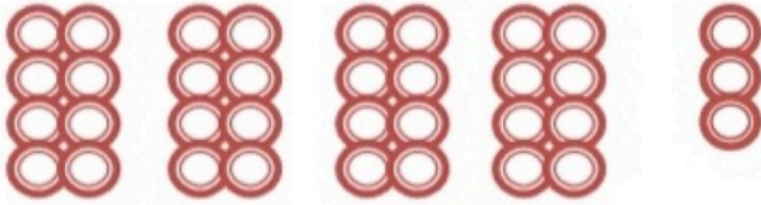
..... + =

۴- جدول زیر را کامل کن.

۸	۵	۷	۴	۳			۲	۹
۳		۱	۹	۵	۲	۴	۷	۸
	۴	۲	۶		۸	۳	۱	۵
۴	۱	۵	۲	۶	۷	۹	۸	۳
۲	۹	۶	۵	۸	۳	۷	۴	۱
۷	۳			۹	۴		۵	۶
۱	۲			۴	۶	۵	۳	۷
۵	۸	۳	۷	۲	۹	۱	۶	۴
۶	۷	۴	۳	۱			۹	۲

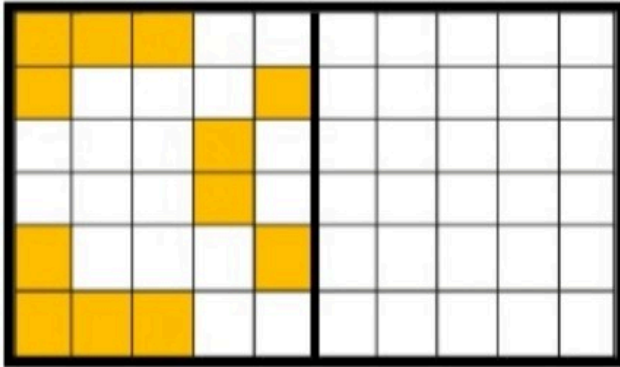


۵- با توجه به شکل ها ، جاهای خالی را با عدد مناسب کامل کن .



.....

۶- شکل را طوری کامل کن که دو نیمه مثل هم شود .




www.mamplus.com

۷- به ترتیب از عدد ۷ تا ۱۶ بنویس .



۸- به تعداد شکل ها چوب خط کشیده و عدد مربوط به آن را بنویس .



۹- حاصل جمع های زیر را به دست آورید .

$$۴ + ۵ =$$

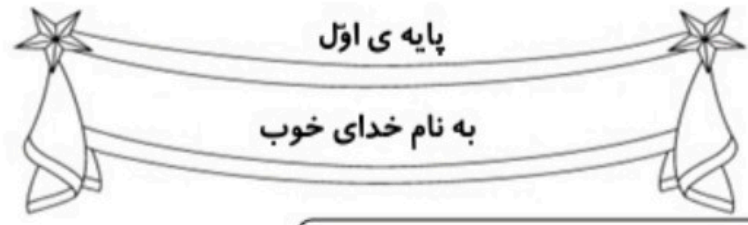
$$۸ + ۵ + ۴ =$$

$$۷ + ۶ =$$

عالی خوب قابل قبول نیاز به تلاش بیشتر

ارزیابی آموزگار :

				توانایی شمارش و مقایسه اعداد
				توانایی جمع و تفریق
				توانایی کامل کردن جدول سودوکو
				توانایی تشخیص و نوشتن اعداد بالای ده
				قرینه یابی

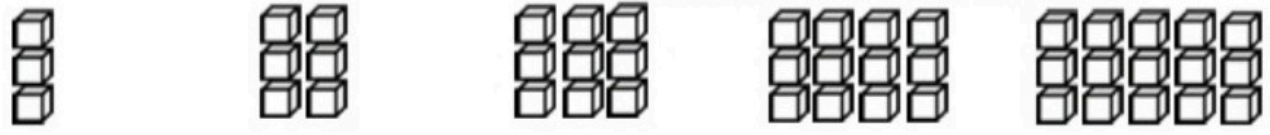


نام زیبای من:

تاریخ:

www.mamplus.com

۱- جاهای خالی را با عدد مناسب کامل کن.






۲- عددهای روی محور را بنویس، سپس دو تا دو تا جلو برو.



۳- مانند نمونه نوشتن عددها را با عدد و حروف ادامه بده.



بیست ۵ - یازده -

۴- حاصل جمع های زیر را با کمک چوب خط به دست بیاور. سپس با توجه به جواب جمع جاهای خالی را کامل کن.

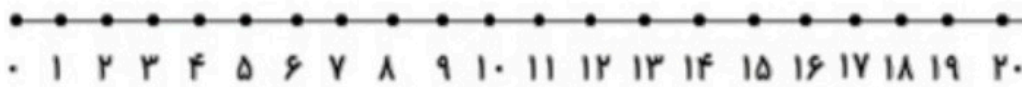
$3 + 4 + 7 = \text{---}$	$6 + 6 + 4 = \text{---}$	$3 + 2 + 6 = \text{---}$

یکی	ده تایی
---	---

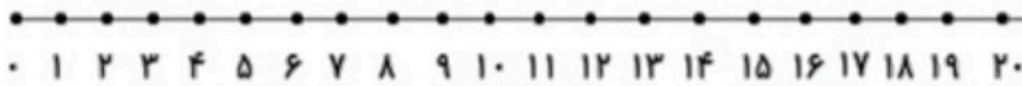
یکی	ده تایی
---	---

یکی	ده تایی
---	---

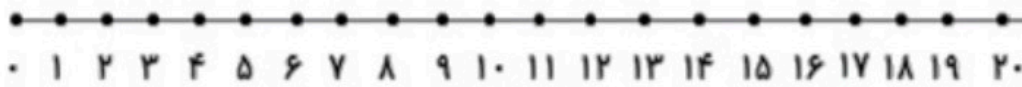
۵- جمع و تفریق های زیر را روی محور نشان بده، سپس جواب آن ها را بنویس.



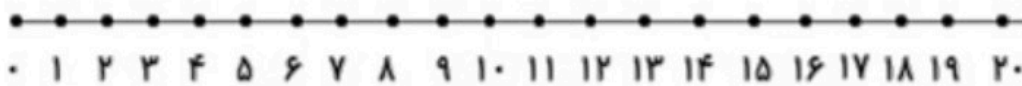
$$۶ + ۵ + ۴ = \text{-----}$$



$$۵ + ۷ + ۴ = \text{-----}$$




$$۱۷ - ۶ = \text{-----}$$



$$۱۵ - ۹ = \text{-----}$$

۶- ابتدا مربع های شگفت انگیز را کامل کن. سپس پروانه را طوری رنگ بزن که دو طرف آن مثل هم باشد.

www.mamplus.com




۳	۱	۲	۵		۸	۶	۹	۴
	۹		۶		۱		۸	
۵	۸	۶	۴		۹	۱	۷	۲
۶	۵	۹		۴		۸	۳	۷
			۹	۵	۳			
۱	۲	۳		۸		۵	۴	۹
۲	۷	۴	۳		۵	۹	۱	۸
	۳		۲		۴		۵	
۹	۶	۵	۸		۷	۴	۲	۳

بازخورد آموزگار



خودسنجی





کار برگ ریاضی تم ۱۸

به نام خدا

پایه ی اول ابتدایی

نام و نام خانوادگی:



www.mamplus.com

در جاهای خالی عدد مناسب بنویس.



$$4 - 8 - \dots - \dots - \dots$$

↖ ↗ ↘ ↙

$$+4 \quad +4 \quad +4 \quad +4$$




$$3 - 6 - \dots - \dots - \dots$$

↖ ↗ ↘ ↙


$$+3 \quad +3 \quad +3 \quad +3$$



حاصل جمع ها را با چوب خط پیدا کن و عبارت جمع را بنویس.



..... + =



www.mamplus.com + =

جدول زیر را کامل کن.

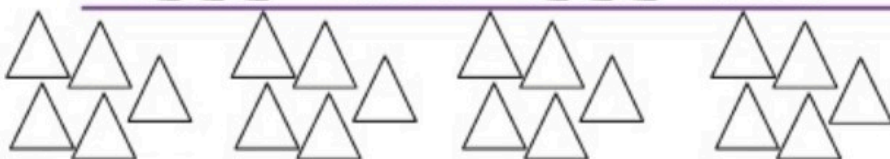


۸	۱		۶	۷	۹	۴		۳
۹		۴	۳	۲		۸	۶	۱
	۶	۵	۴	۸	۱		۹	۲
۴	۳	۶	۹	۵	۷	۲	۱	
۲	۵	۷			۳	۶		۹
۱		۹	۲	۴	۶		۷	۵
۷	۹	۸	۱	۶		۵	۳	۴
	۲	۳	۵		۴	۱	۸	
۵	۴	۱		۳	۸		۲	۶

با استفاده از ۲ رنگ جواب جمع ها را پیدا کن.



۹ + ۸ =




۶ + ۱۲ =



هسته نباش.

باز خورد معلم:



www.mamplus.com

۱- فرزند نازنین الگوی عددی را ادامه بده

..... ، ، ، ۱۲ ، ۱۰ ، ۸

↪
+۲

..... ، ، ، ۸ ، ۴ ، ۰




↪

۲- گل زیبا با کمد چوب خط حاصل جمع را پیدا کن -۳

$9 + 8 = \dots\dots\dots$



۳- کودک زرنگ با استفاده از دو رنگ مختلف رنگ بزن و حاصل جمع را پیدا کن



$6 + 5 = \dots\dots\dots$

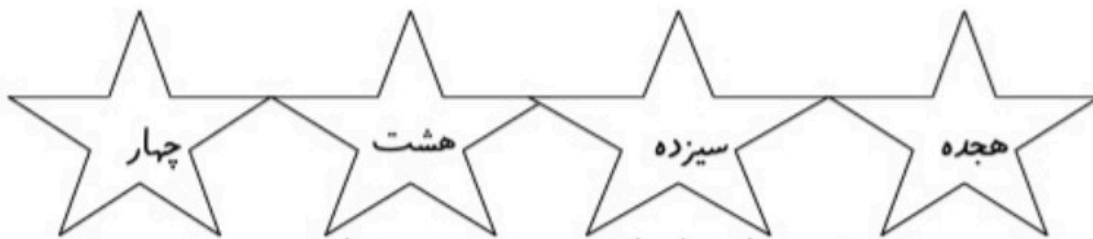

۴- فرزند دانا عددهایی که نوشته نشده را بنویس

۱	۲			۵	۶			۹
۱۱	۱۲		۱۴	۱۵			۱۸	


۵- کودک باهوش حروفی (فارسی) اعداد زیر را بنویس



۶- هر عدد را به اسمش وصل کن www.mamplus.com



۷- الگو را ادامه بده و درست راست شکلی که تکراری شود را دوباره بکش



شکل ها را در طرف دیگر خط (خط تا) بکش

