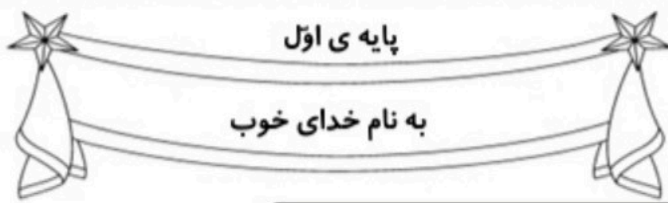


کاربرگ و نکات تدریس
تم ۱۷ ریاضی اول دبستان

www.mamplus.com





نام زیبای من:

تاریخ:

۱- ابتدا با چوب خط حاصل جمع هر شکل را پیدا کن. سپس جمع مربوط به آن را بنویس.

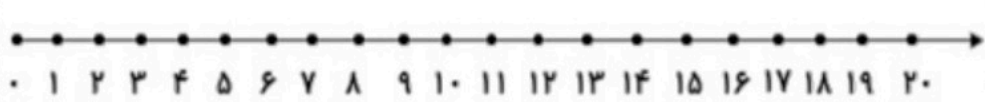
 $----- + ----- + ----- = -----$	
 $----- + ----- + ----- = -----$	
 $----- + ----- + ----- = -----$	

 $----- + ----- = -----$

 $----- + ----- + ----- = -----$

www.mamplus.com

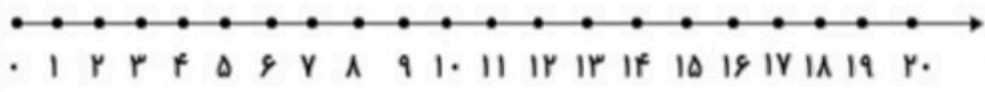
۲- جمع و تفریق های زیر را روی محور نشان بده، سپس جواب آن ها را بنویس.



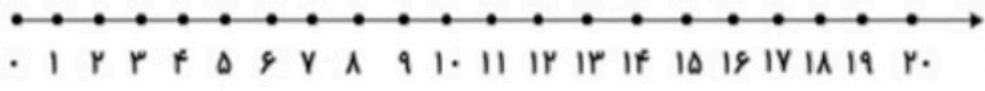
$9 + 7 = -----$



$3 + 7 + 5 = -----$




$10 - 7 = -----$



$9 - 3 = -----$



۳- حاصل جمع های زیر را با چوب خط حساب کن و بعد علامت کمتری و بیشتری یا مساوی بگذار.

$$2 + 1 + 4 =$$



$$1 + 3 + 3 =$$

$$4 + 2 + 2 =$$

$$3 + 3 + 2 =$$

$$0 + 2 + 3 =$$

$$2 + 0 + 1 =$$

$$3 + 6 + 1 =$$


$$2 + 3 + 5 =$$

۴- جمله ها را با نوشتن عدد مناسب کامل کن.

www.mamplus.com



بلندی درخت بین تا است.

بلندی گل بین تا است.

بلندی هویج بین تا است.


۵- به نشانه های نقطه دار کلمات زیر دقت کن و برای هر کدام یک جمع بنویس.

گنجشک

نشستند

بازخورد آموزگار

خود سنجی





دبستان غیر دولتی هوشمند ملاصدرا



۸	۳		۴	۲	۷	۱	۵	
۵		۴	۱	۹	۳	۲	۸	۷
۷	۱	۲	۵	۶			۳	۴
۴	۹	۶	۲	۵			۷	۳
۳			۶		۹	۴		۱
	۲	۸	۷	۳	۴	۶	۹	
	۴	۳	۹	۷		۵	۱	
۲	۷	۱	۸		۵	۳	۶	۹
۹	۸	۵		۱	۶	۷	۴	۲

www.mamplus.com

۱	۳	۸	۹	۷	۶	۵	۴	
۴		۹	۸		۳	۶		۱
۵	۶	۷		۲	۴		۹	۸
۶	۷	۴	۵	۹		۲	۱	۳
۲		۳	۷		۱	۹	۶	۵
۹	۱	۵		۶	۲	۷		۴
۸	۴		۶	۳	۷	۱	۵	۹
۳		۶	۴		۵	۸	۲	۷
	۵	۱	۲	۸	۹	۴		۶

نادی

ناجی

ڊ	۶	۷	۱		۴	۳	۹	۸
۴		۹	ڊ	۸	۳	۶	۷	۱
۱	۳			۷	۶		۴	۲
۷	ڊ			۸			۳	۶
	۹	۶	۴	۱	ڊ	۸		۷
۸	۴			۳			ڊ	۹
۹	۱			۶			۸	۴
۲		۳	۷	۴	۱	۹		ڊ
۶	۷	۴	ڊ		۸	۲	۱	

www.mamplus.com

۹	ڊ		۷	۳	۶		۴	۸
۷	۲	۸	ڊ	۱	۴	۶		۳
۶	۳	۴	۹	۸		۱	ڊ	
۳	۱	۲		۹	ڊ	۴	۷	۶
ڊ	۶	۹	۱		۷	۳		۲
۴	۸	۷	۲	۶		ڊ	۱	۹
	۴	ڊ	۶	۷	۹	۸		۱
۱		۶	۳		۸	۹	۲	۴
۸	۹		۴	۲	۱	۷	۶	ڊ





پاسخ هر قسمت را نوشته و مقایسه کن و علامت مناسب کمتری یا بیشتر را انتخاب کن.

_____ + _____ = _____

www.mamplus.com



_____ - _____ = _____

_____ - _____ = _____



_____ + _____ + _____ = _____

_____ + _____ = _____





_____ + _____ = _____

۱۷

تم

با چوب خط حاصل جمع را پیدا کن و یک جمع بنویس .

www.mamplus.com



$$\text{---} + \text{---} + \text{---} = \text{---}$$



$$\text{---} + \text{---} + \text{---} = \text{---}$$



$$\text{---} + \text{---} + \text{---} = \text{---}$$

۶۷

۱۷



تم

با کمک محور جمع یا تفریق کن.



$$5 + 3 = \dots$$




$$8 - 6 = \dots$$



$$1 + 8 = \dots$$

جمله ها را با نوشتن عدد مناسب کامل کن . www.mamplus.com



بلندی ساندویچ پین و است .

عدد هرچوب خط را زیر آن بنویس و در آخر جمع چوب خط ها و اعداد را بنویس.

www.mamplus.com

$$\begin{array}{ccccccc} \text{///} & + & \text{//} & + & \text{///} & = & \boxed{} \end{array}$$

$$\underline{} + \underline{} + \underline{} = \underline{}$$

$$\begin{array}{ccccccc} \text{####} & + & \text{####} & + & \text{///} & = & \boxed{} \end{array}$$

$$\underline{} + \underline{} + \underline{} = \underline{}$$

$$\begin{array}{ccccccc} \text{####} & + & \text{####} & + & \text{///} & = & \boxed{} \end{array}$$

$$\underline{} + \underline{} + \underline{} = \underline{}$$

@yaravaliha

نظر آموزگار:

