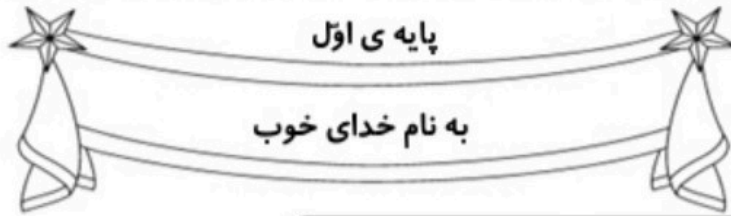


کاربرگ و نکات تدریس

تم ۱۶ ریاضی اول دبستان

www.mamplus.com





نام زیبای من:

تاریخ:

۱- باتوجه به عدد داخل جدول چوب خط ها را کامل کن.

www.mamplus.com

ده تایی	یکی
۱	۴

ده تایی	یکی
۱	۹

ده تایی	یکی
۱	۵

ده تایی	یکی
۱	۷

۲- جواب جمع و تفریق های زیر را بنویس.

$6 + 1 =$
$5 + 5 =$
$3 + 3 =$
$1 + 7 =$
$6 + 0 =$

$8 + 2 =$
$3 + 5 =$
$4 + 4 =$
$4 + 3 =$
$9 + 1 =$


$2 + 7 =$
$4 + 6 =$
$2 + 2 =$
$4 + 2 =$
$6 + 2 =$

$8 - 2 =$
$4 - 4 =$
$2 - 1 =$
$9 - 5 =$
$6 - 3 =$

$5 - 4 =$
$5 - 1 =$
$7 - 6 =$
$10 - 6 =$
$6 - 4 =$

$8 - 3 =$
$5 - 0 =$
$9 - 6 =$
$4 - 0 =$
$9 - 1 =$

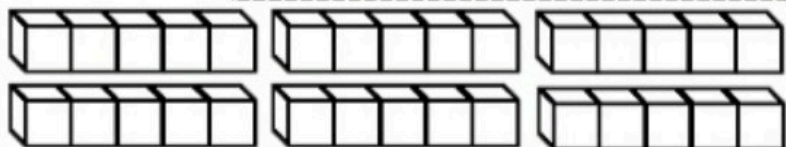
۳- اعداد ۹ تا ۲۰ را به ترتیب بنویس.



۴- جمع های زیر را روی شکل نشان بده. (از ۲ رنگ استفاده کن.)

$9 + 6 = \text{----}$

$8 + 5 = \text{----}$

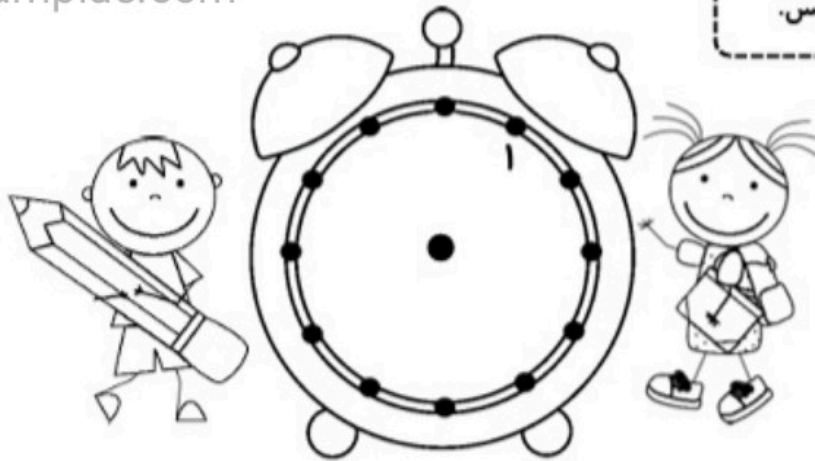


۵- عدد های زیر را با چوب خط نشان بده.

۱۵	۱۶	۱۲	۱۹	۱۸	۱۳

www.mamplus.com

۶- عددهای روی ساعت را بنویس.



۷- مانند نمونه حاصل جمع های زیر را با کمک ۲ رنگ چوب خط به دست بیاور. سپس آن را در جدول بگذار.

$8 + 6 = \text{----}$		<table border="1"> <tr> <td>ده تایی</td> <td>یکی</td> </tr> <tr> <td>۱</td> <td>۴</td> </tr> </table>	ده تایی	یکی	۱	۴	$\text{---} 14 \text{---}$
ده تایی	یکی						
۱	۴						
$9 + 7 = \text{----}$		<table border="1"> <tr> <td>ده تایی</td> <td>یکی</td> </tr> <tr> <td></td> <td></td> </tr> </table>	ده تایی	یکی			---
ده تایی	یکی						
$7 + 5 = \text{----}$		<table border="1"> <tr> <td>ده تایی</td> <td>یکی</td> </tr> <tr> <td></td> <td></td> </tr> </table>	ده تایی	یکی			---
ده تایی	یکی						
$8 + 8 = \text{----}$		<table border="1"> <tr> <td>ده تایی</td> <td>یکی</td> </tr> <tr> <td></td> <td></td> </tr> </table>	ده تایی	یکی			---
ده تایی	یکی						

باز خورد آموزگار



خود سنجی




تمرین عدد ۱۰ تا ۱۹

نام و نام خانوادگی :

تعداد شکل های هر دسته را با چوب خط بشمار. باشکل ها دسته های ده تایی درست کن، جدول را کامل کن و عدد مربوط به هر دسته را بنویس.




یکی	ده تایی




یکی	ده تایی

—




یکی	ده تایی

—



یکی	ده تایی

—




یکی	ده تایی

—



یکی | ده تایی




یکی | ده تایی



یکی | ده تایی



یکی | ده تایی



یکی | ده تایی

ردیف

نام و نام خانوادگی:

به نام خدای مهربان

آزمون بهمن ماه ۹۰

دبستان آفرینش ۲

۱

دختر خوب ، به اندازه ی عددنوشته شده چوب خط بکش.

۱۸

۱۴

۲

بلندی مداد بین تا است .



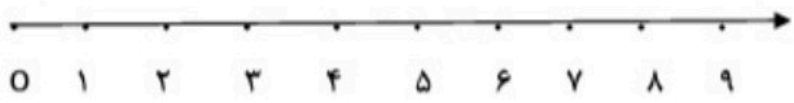
۳

باچوب خط ها دسته ی ده تایی درست کن و جدول را کامل کن و عدد مربوط به هر دسته را بنویس.

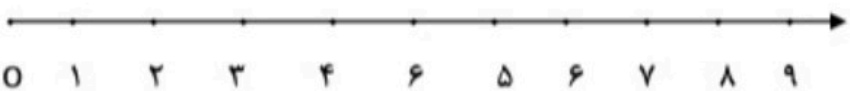
	ده تایی	یکی	
.....			// ### ###
www.mamplus.com			
.....			

۴

باکمک محور جمع یا تفریق کن .



$6+2 = \dots\dots\dots$



$7+2 = \dots\dots\dots$

۵

باتوجه به جمع نوشته شده مربع ها را با رنگ های مختلف رنگ کن و حاصل را بنویس.

--	--	--	--

$2+5+3+4 = \dots\dots\dots$

انتظارات			
ن	ق	خ	خ

فراگیر عدد را با چوب خط به درستی نمایش می دهد.


فراگیر عدد را درست در جدول ارزش مکانی قرار می دهد.

فراگیر مفهوم بین را در اندازه گیری به خوبی درک کرده است.

فراگیر جمع و تفریق را به خوبی روی محور اعداد نشان می دهد.


فراگیر جمع چند جمله ای را بر روی چینه به درستی انجام می دهد و پاسخ درست می نویسد .

تعداد شکل های هر دسته را با چوب خط بشمار . با شکل ها دسته های ده تایی درست کن؛ جدول را کامل کن و عدد مربوط به هر دسته را بنویس.

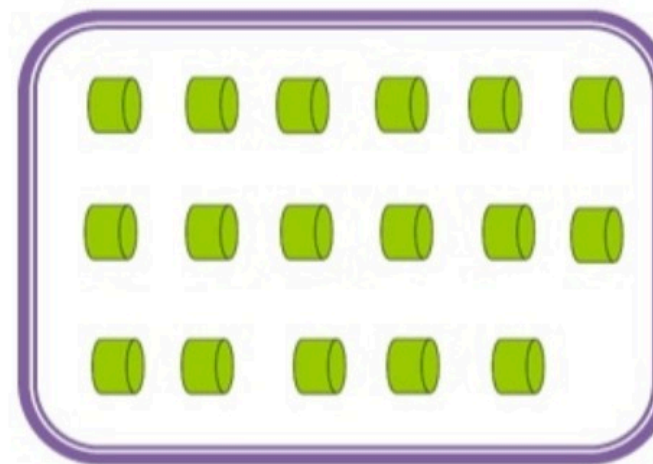


ده تایی	یکی

www.mamplus.com



ده تایی	یکی




ده تایی	یکی

۱۶

تم

دور عدد مناسب هر دسته خط بکش .

www.mamplus.com



۱۵

۱۴

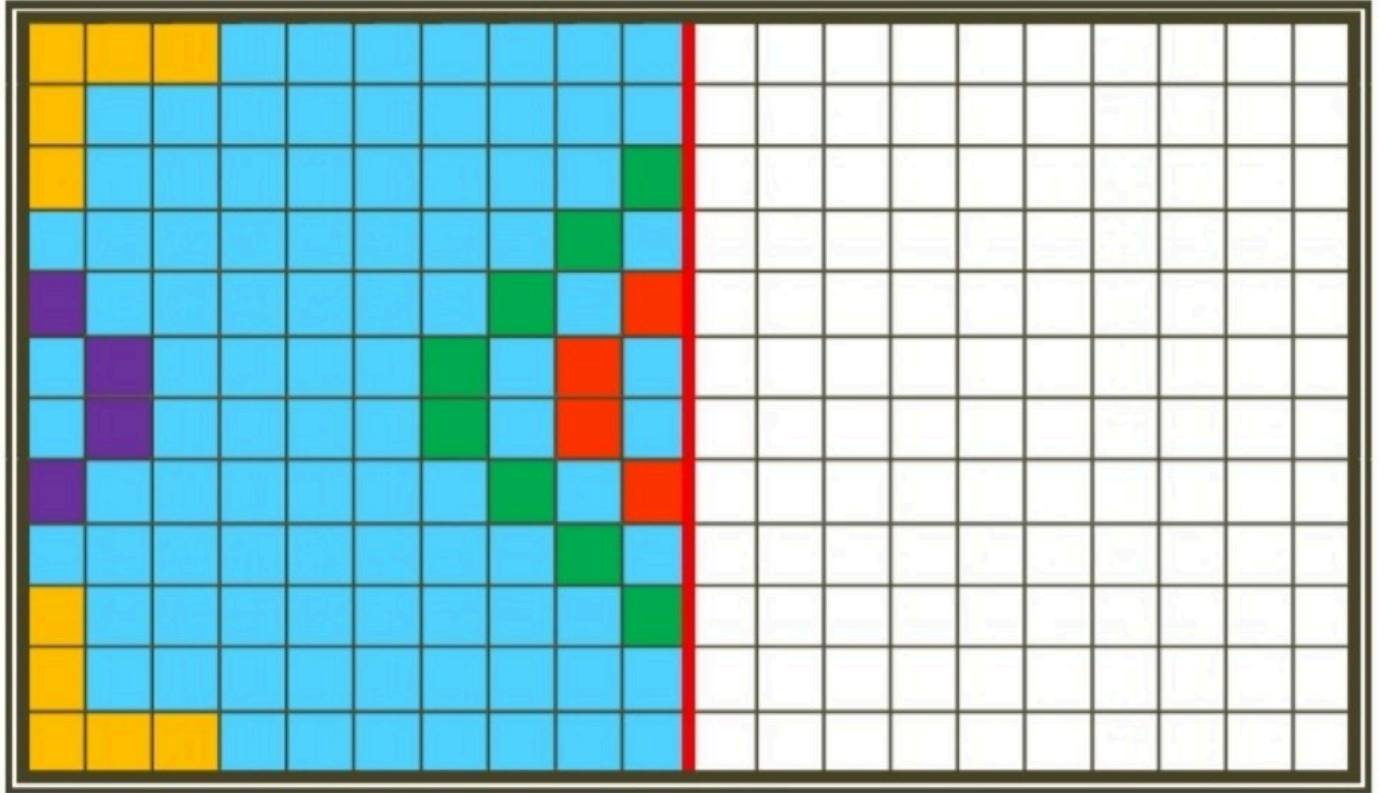
۱۶

۱۲

۱۵

۱۷

نیمه ی سمت راست جدول را مانند سمت چپ آن کامل و رنگ کن .



۱۶


جمع

به کمک انگشتان خود جواب جمع را پیدا کن و حساب کن دو دسته روی هم چند شکل دارند. یک جمع بنویس.

www.mamplus.com




$$\boxed{} + \boxed{} = \boxed{}$$



$$\boxed{} + \boxed{} = \boxed{}$$

ادامه پده.

۱۱ - ۱۲ - ۱۳ - - - -



۱	۳	۸	۹	۷	۶	۵	۴	
۴	۲	۹	۸	۵	۳	۶		۱
۵	۶	۷	۱	۲	۴		۹	۸
۶	۷	۴	۵	۹		۲	۱	۳
۲	۸	۳	۷		۱	۹	۶	۵
۹	۱	۵		۶	۲	۷	۸	۴
۸	۴		۶	۳	۷	۱	۵	۹
۳		۶	۴	۱	۵	۸	۲	۷
	۵	۱	۲	۸	۹	۴	۳	۶

www.mamplus.com



بلندی پادمچان کوتاه تر از است.



بلندی موز کوتاه تر از است.

