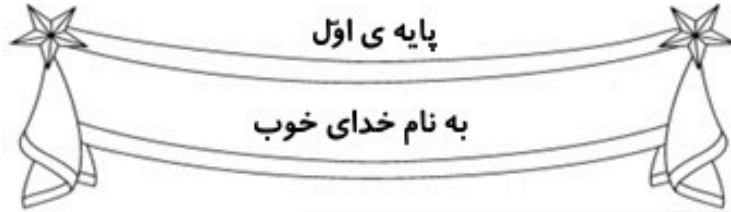




کاربرگ و نکات تدریس

تم 15 ریاضی اول دبستان

[www.mamplus.com](http://www.mamplus.com)

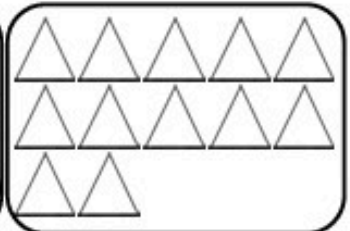
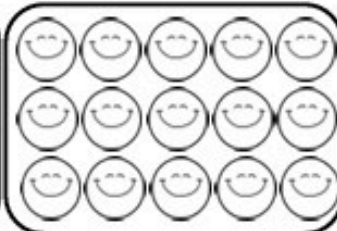
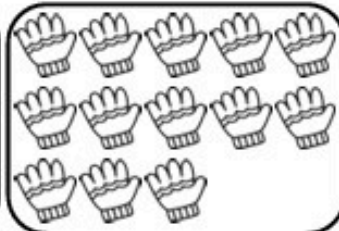



نام زیبای من: .....

تاریخ: .....

۱- ابتدا دسته بندی کن و بعد جاهای خالی را با عدد مناسب کامل کن.

www.mamplus.com



دسته ی ۳ تایی و  
یکی


دسته ی ۹ تایی و  
یکی

دسته ی ۶ تایی و  
یکی

دسته ی ۵ تایی و  
یکی

۲- ابتدا مربع شگفت انگیز را کامل کن و سپس درجدول سمت چپ خانه ها را طوری رنگ کن که دو نیمه مثل هم باشند.


۹	۱	۸	۵	۶	۳	۲	۷	۴
۷		۶		۲		۳		۸
۴	۲	۳	۷	۱	۸	۹	۵	۶
۲	۶	۵	۱	۸	۴	۷	۹	۳
۸		۱		۳		۴		۲
۳	۴	۹	۶	۷	۲	۱	۸	۵
۱	۳	۲	۸	۹	۶	۵	۴	۷
۶		۴		۵		۸		۱
۵	۸	۷	۳	۴	۱	۶	۲	۹



۳- اعداد ۱۰ تا ۱۹ را به ترتیب بنویس.

۴- جمع و تفریق ها را روی شکل نشان بده. (برای جمع ها از ۲ رنگ و برای تفریق ها از یک رنگ استفاده کن.)

$7 + 1 = \text{----}$	
$8 + 2 = \text{----}$	
$9 - 4 = \text{----}$	
$6 - 5 = \text{----}$	

۵- الگوهای زیر را ادامه بده.

۵ ۱۰ ۵

سا س ش

۶- حاصل جمع ها و تفریق های زیر را به دست بیاور.

$9 - 5 = \bigcirc$	$5 - 0 = \bigcirc$	$9 + 0 = \bigcirc$	$2 + 7 = \bigcirc$
$10 - 3 = \bigcirc$	$3 - 3 = \bigcirc$	$8 + 2 = \bigcirc$	$4 + 4 = \bigcirc$
$6 - 1 = \bigcirc$	$4 - 2 = \bigcirc$	$5 + 1 = \bigcirc$	$3 + 5 = \bigcirc$

۷- با توجه به شکل جدول ها را کامل کن.

<table border="1"> <tr> <td>ده تایی</td> <td>یکی</td> </tr> <tr> <td> </td> <td> </td> </tr> </table>	ده تایی	یکی			<table border="1"> <tr> <td>ده تایی</td> <td>یکی</td> </tr> <tr> <td> </td> <td> </td> </tr> </table>	ده تایی	یکی			<table border="1"> <tr> <td>ده تایی</td> <td>یکی</td> </tr> <tr> <td> </td> <td> </td> </tr> </table>	ده تایی	یکی		
ده تایی	یکی													
ده تایی	یکی													
ده تایی	یکی													

www.mamplus.com

بازخورد آموزگار

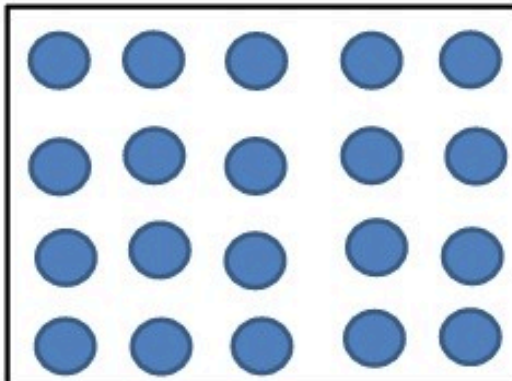


خود سنجی



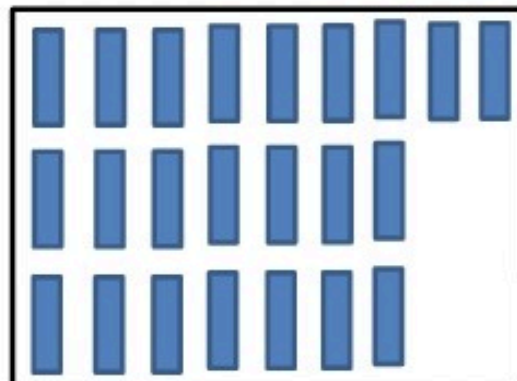


دلبندم با توجه به عدد کنار هر دسته شکل ها را دسته بندی کن و در جاهای خالی عدد مناسب بنویس.




۴

.... دسته ی ۴ تایی و .... یکی




۶

.... دسته ی ۶ تایی و .... یکی



۸

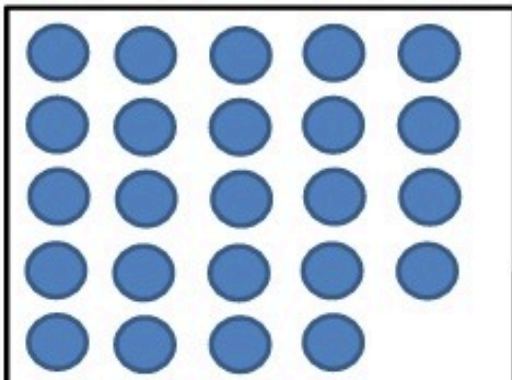
.... دسته ی ۸ تایی و .... یکی



۵

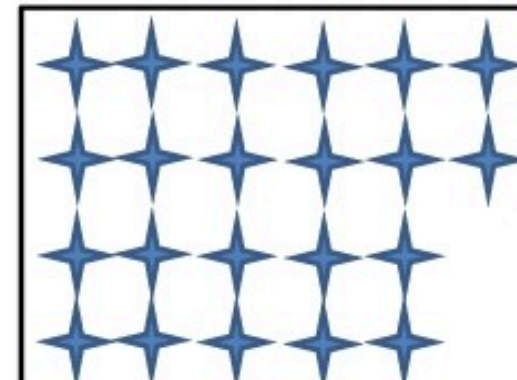
.... دسته ی ۵ تایی و .... یکی

www.mamplus.com



۷

.... دسته ی ۷ تایی و .... یکی



۹

.... دسته ی ۹ تایی و .... یکی

حالا با توجه به عدد های نوشته شده شکل بکش و دسته بندی کن.

۳ دسته ی ۵ تایی و ۰ یکی

۶ دسته ی ۲ تایی و ۱ یکی

www.mamplus.com

۲ دسته ی ۶ تایی و ۴ یکی

۴ دسته ی ۴ تایی و ۲ یکی


طراح : زهره جانی پور

۱ دسته ی ۸ تایی و ۱ یکی

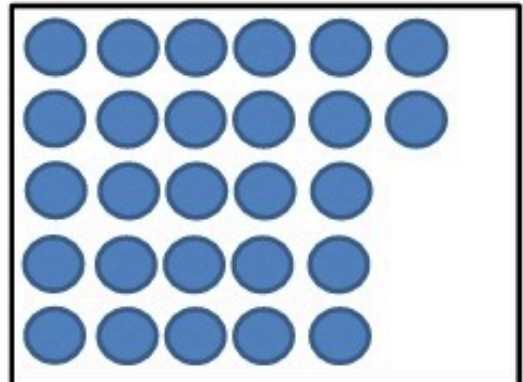
۱ دسته ی ۹ تایی و ۸ یکی



حالا دسته های ده تایی درست کن و در جای خالی عدد مناسب بنویس.

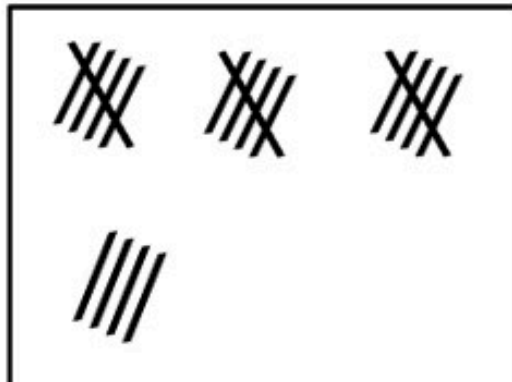


.... دسته ی ۱۰ تایی و .... یکی

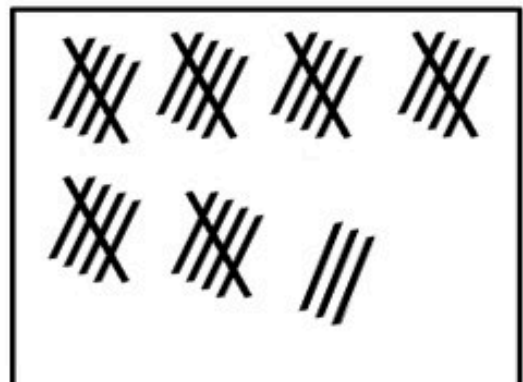


.... دسته ی ۱۰ تایی و .... یکی

www.mamplus.com

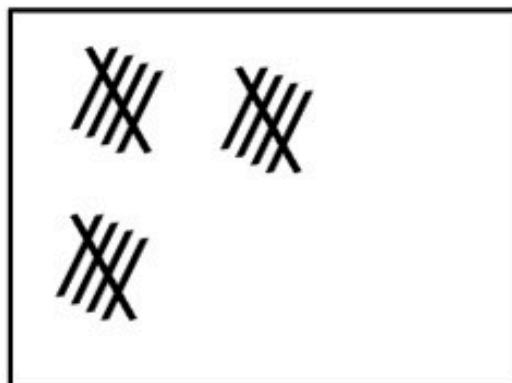


.... دسته ی ۱۰ تایی و .... یکی

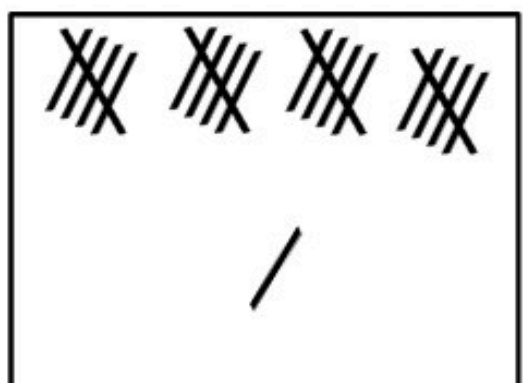


.... دسته ی ۱۰ تایی و .... یکی

طراح : زهره چشتی پور



.... دسته ی ۱۰ تایی و .... یکی

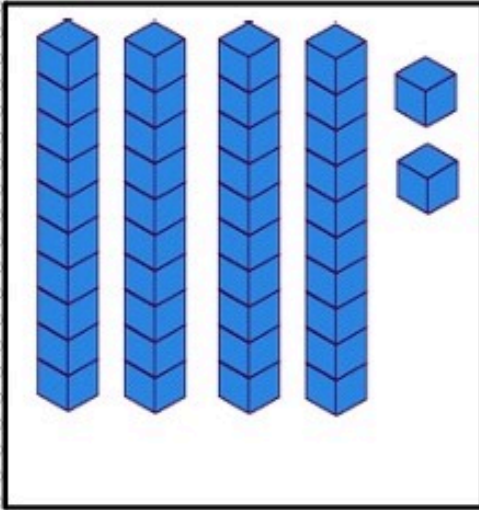


.... دسته ی ۱۰ تایی و .... یکی

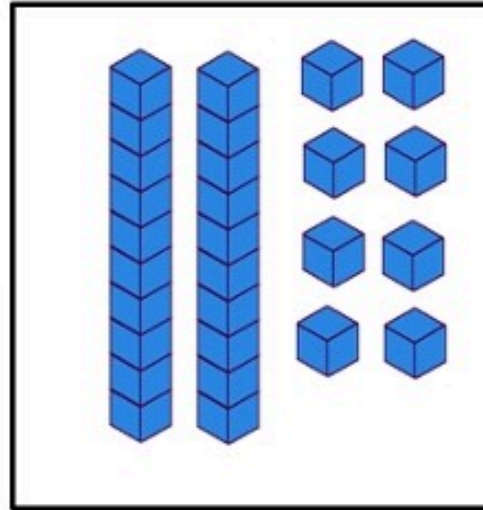




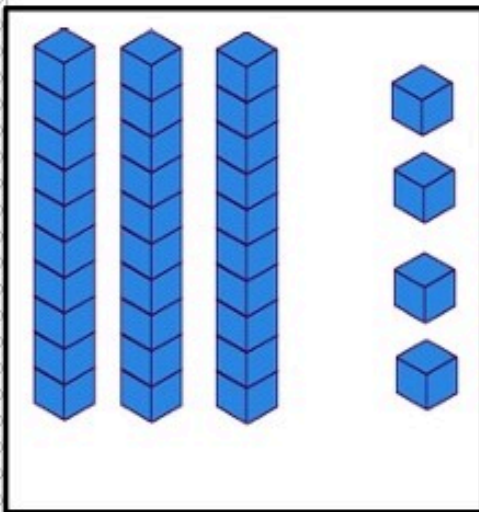
در جاهای خالی عدد مناسب بنویس.



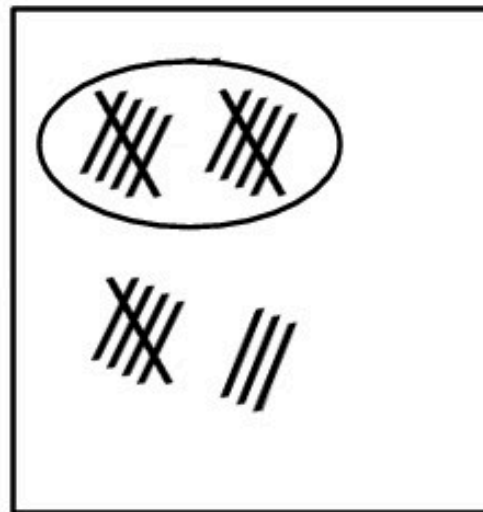
ده تایی	یکی
.....	.....



ده تایی	یکی
.....	.....

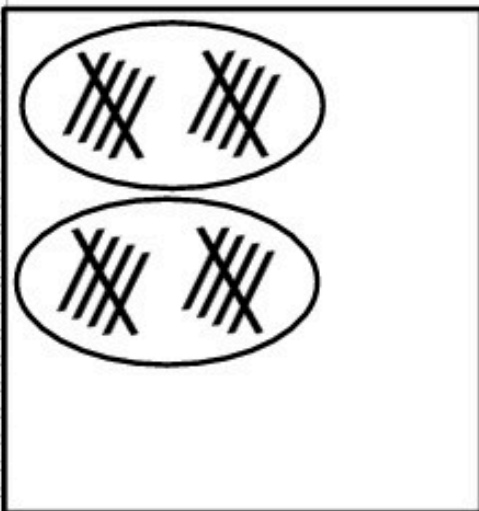


ده تایی	یکی
.....	.....

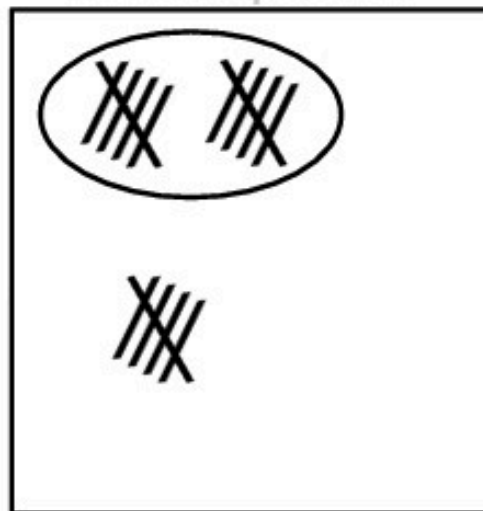


ده تایی	یکی
.....	.....

www.mamplus.com



ده تایی	یکی
.....	.....



ده تایی	یکی
.....	.....

شاد و سربلند باشی (جانی پور)

طراح : مهنوش حکیمی

به نام خدای رنگین کمان

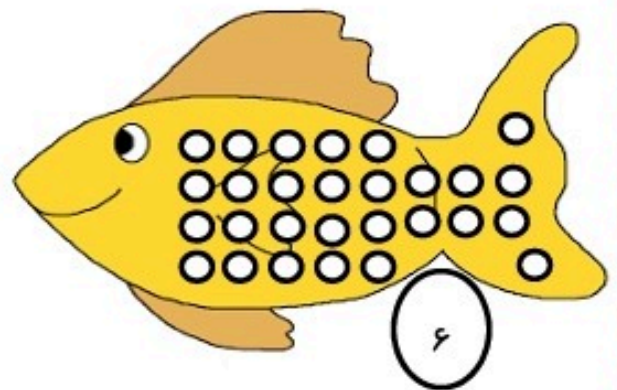
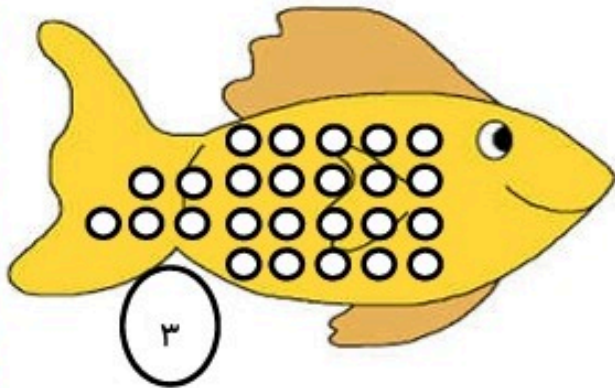
www.mamplus.com

دبستان غیردولتی پسرانه ی بوعلی

کار برگ تم ۱۵

نام زیبایت : .....

پسرگلم، با توجه به عدد کنار هر تصویر گردی ها را با کشیدن خط دسته بندی کن. سپس جاهای خالی را کامل کن



..... دسته ی سه تایی و ..... یکی

..... دسته ی شش تایی و ..... یکی

عزیزم در هر قسمت دسته ی ده تایی درست کن و جاهای خالی را کامل کن.



..... دسته ی ده تایی و ..... یکی



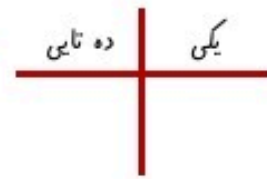
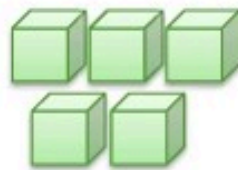
..... دسته ی ده تایی و ..... یکی



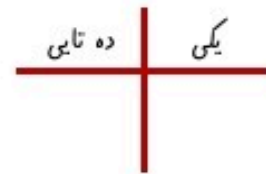
دلبندم جدول و جاهای خالی را با عدد مناسب کامل کن.



www.mamplus.com



..... دسته ی ده تایی و ..... یکی



..... یکی و ..... دسته ی ده تایی

نوگلم دسته ی ده تایی درست کن و به تعداد باقی مانده عدد و چوب خط بنویس.



پسر عزیزم جدول را کامل کن.

	۴	۶	۳	۲	۵
۲		۳	۱		۶
۶		۲	۵	۳	۴
۵	۳	۴		۶	۱
۳	۶			۵	
۴	۲	۵	۶		۳

نشکوفه ی رنگارنگ  
خسته نباشی قشنگ

