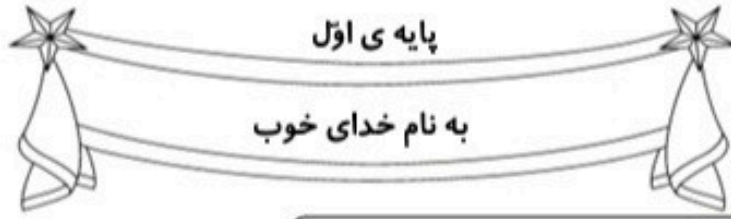




www.mamplus.com

کاربرگ و نکات تدریس

تم ۱۴ ریاضی اول دبستان



نام زیبای من:

تاریخ:


۱- برای شکل های زیر جمع بنویس.

--	--	--	--	--	--	--	--	--	--	--	--

$1 + 2 + 5 = \text{----}$			
---------------------------	--	--	--

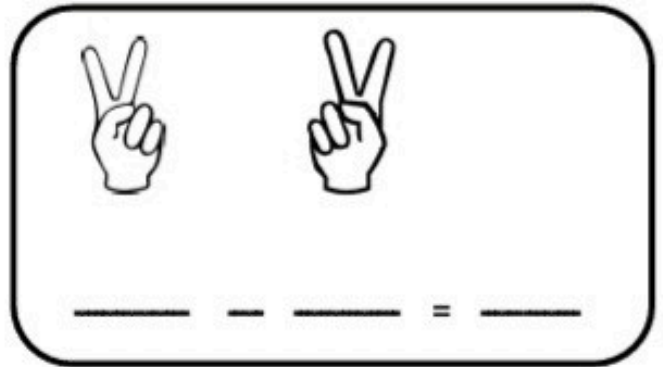

۲- ابتدا مربع شگفت انگیز را کامل کن و سپس درجدول سمت چپ خانه ها را طوری رنگ کن که دو نیمه مثل هم باشند.

	۳	۹	۴		۸	۲	۵	
۷	۱	۸		۲		۶	۴	۹
۴	۲		۹	۷	۶		۸	۳
۲		۷	۸	۵	۹	۳		۶
	۶	۳	۲		۱	۵	۷	
۵		۱	۶	۳	۷	۹		۴
۱	۵		۷	۸	۳		۹	۲
۸	۹	۴		۶		۷	۳	۱
	۷	۲	۱		۴	۸	۶	



۳- عددهای کمتر از ۴ را رنگ بزن.

1 - به تعداد انگشتان دست راست از انگشتان دست چپ ببند و عبارت تفریق را کامل کن .

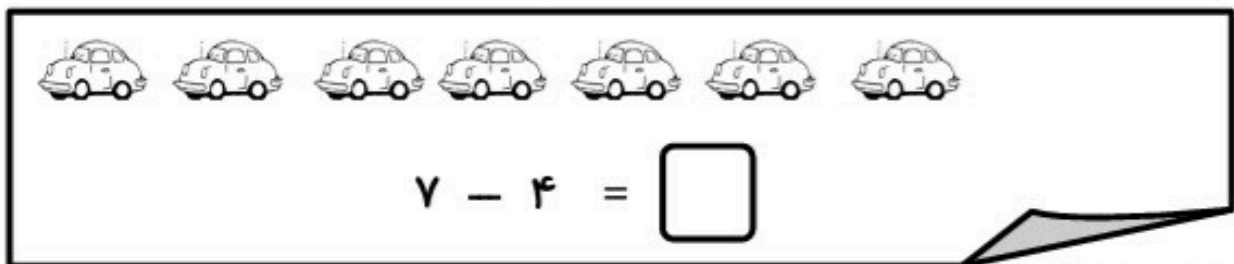


2 - با توجه به شکل ها یک عبارت تفریق بنویس.



_____ - _____ = _____

3 - با توجه به تفریق داده شده ، از شکل ها خط بزن و حاصل را بنویس .



4 - برای هر عدد از یک رنگ استفاده کن و حاصل جمع را بنویس .



$$3 + 3 + 2 = \square$$

۵- برای تفریق داده شده شکل بکش؛ سپس حاصل تفریق را بنویس.

$$۵ - ۵ = \square$$

$$۶ - ۴ = \square$$

۶- تفریق کن.

$$۵ - ۱ = \square$$

$$۸ - ۰ = \square$$

$$۷ - ۳ = \square$$

$$۲ - ۲ = \square$$

$$۶ - ۵ = \square$$

$$۱۰ - ۳ = \square$$

۷- طرف دیگر جمع را بنویس.

۷	
۳	
۰	
۵	
۱	

۸	
۲	
۸	
۶	
۳	

۹	
۸	
۵	
۷	
۳	

۱۰	
۸	
۳	
۹	
۵	

www.mamplus.com

۸- جمع کن.

$$۵ + ۵ = \square$$

$$۱ + ۷ = \square$$

$$۲ + ۴ = \square$$

ضعیف

متوسط

خوب

عالی

بازخورد توصیفی آموزگار :



به نام خدای رنگین کمان




کاربرگ تم (۱۴)

نام زیبایت :

www.mamplus.com

نازنینم برای هر تفریق شکل بکش و جواب بده.




$$۱۰ - ۴ = \dots\dots$$



$$۹ - ۶ = \dots\dots$$

پسرم به اندازه ی عدد نوشته شده از شکل ها خط بزن و باقی مانده را با چوب خط نشان بده.



از شکل های زیر دو تا کم کن و برای آن یک عبارت تفریق بنویس.



$$\dots\dots - \dots\dots = \dots\dots$$



$$\dots\dots - \dots\dots = \dots\dots$$

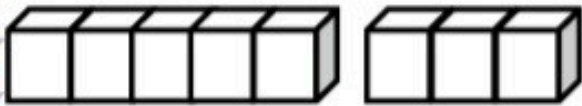


..... + =



..... + =

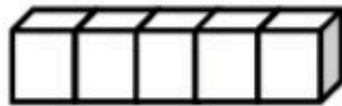
برای هر عدد از یک مدارنگی استفاده کن و بارنگ کردن جواب جمع ها را پیدا کن.



2 + 1 + 5 =



3 + 4 + 2 =



5 + 0 + 5 =

پسرم از علامت < = > استفاده کن.

8 * 7

5 * 10



7 * 4

6 - 4 * 10 - 5

6 + 3 * 9

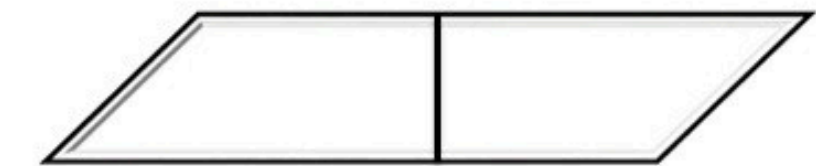
6 * 5 + 2





دلبندم برای این جمع ها شکل بکش.

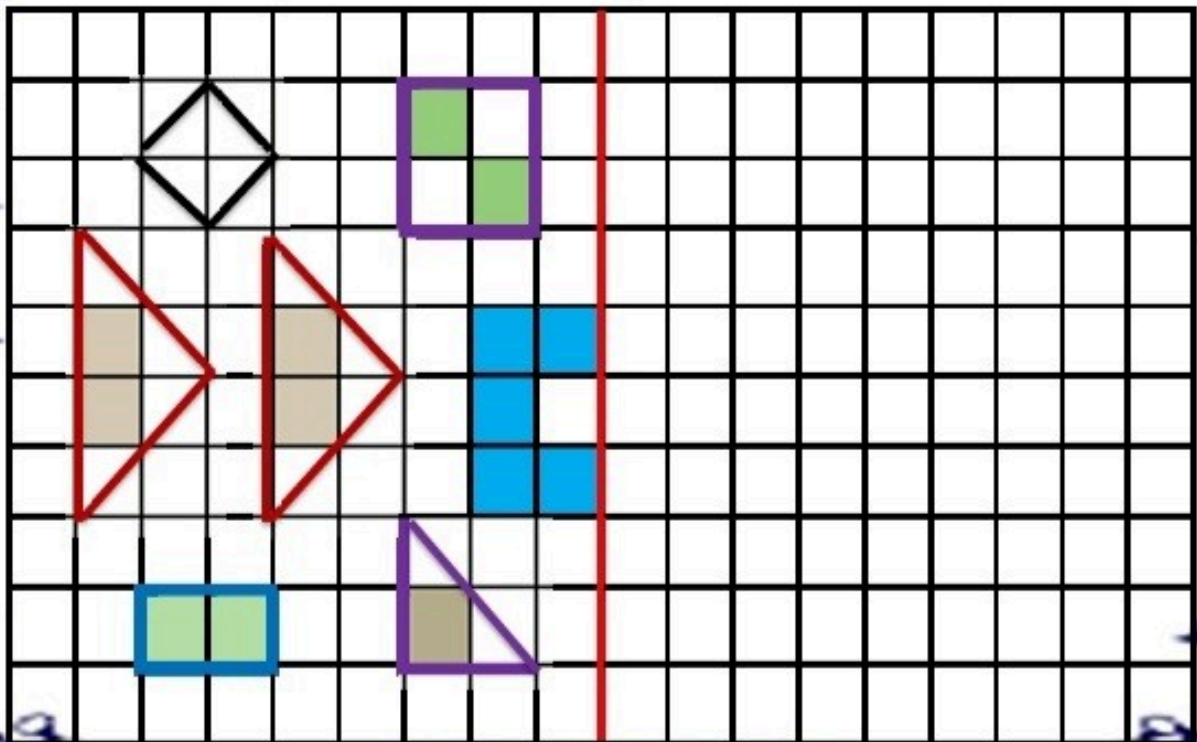
$$۲ + ۴ = \dots\dots$$



$$۵ + ۵ = \dots\dots$$



پسرم شکل را طوری کامل کن که دونیمه ی آن مثل هم باشد.



پسرم ، چند تا سیب بودند؟ چندتا روی زمین اُفتاده است ؟ چندتا روی درخت باقی مانده است ؟
برای آن یک تفریق بنویس .

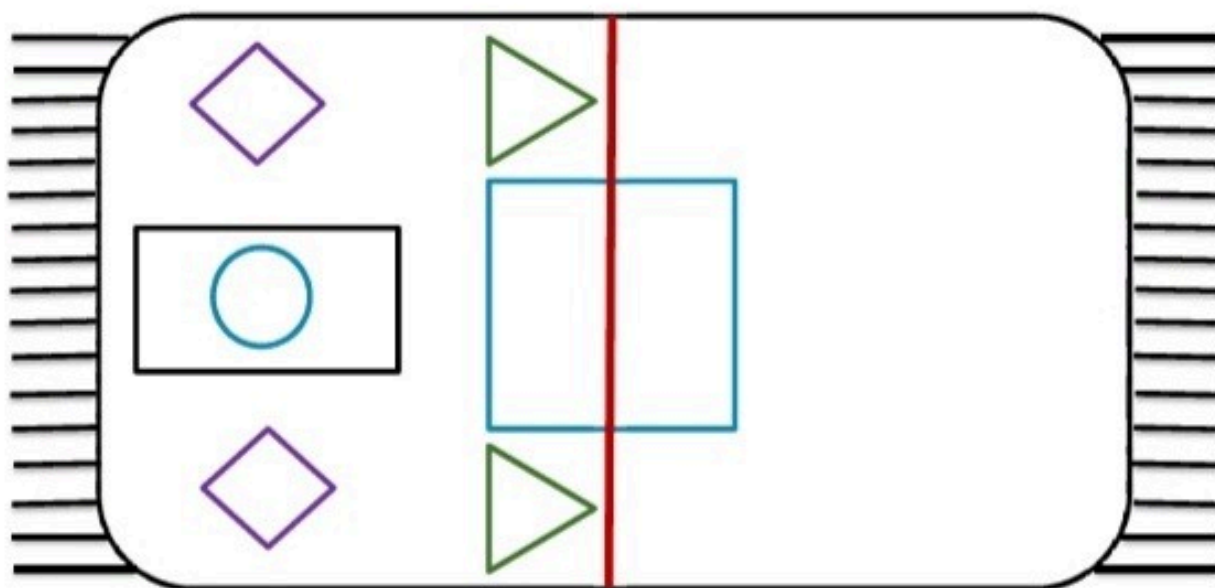


www.mamplus.com

..... - =



عزیزم با شابلون سمت راست فرش را کامل کن که دونیمه ی آن مثل هم باشد. سپس به طور زیبا رنگ بزن.




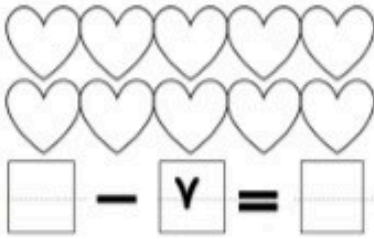
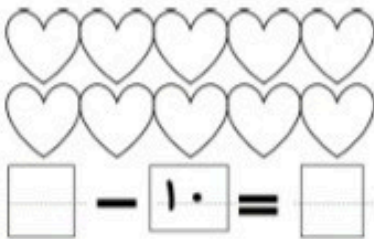
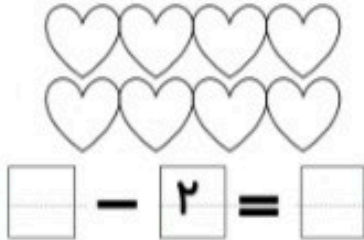



((عزیز دلم ، شاد و پیروز باشی))


خدا زیباست و زیبایی ها را دوست دارد.

نام فرزند دلیدم:

۴. به تعداد لازم، قلبها را سیاه کن و جای خالی را با اعداد درست پر کن.

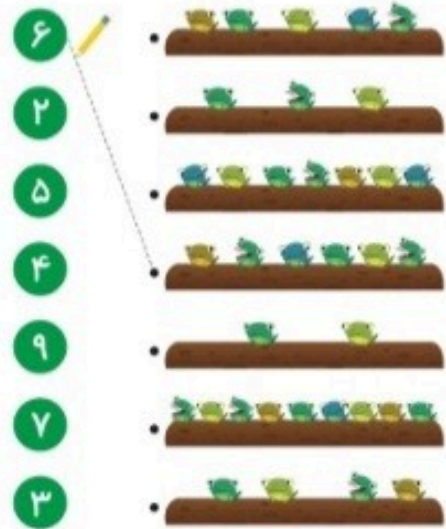


۱. تعداد عنکبوتها را بشمار و بنویس.

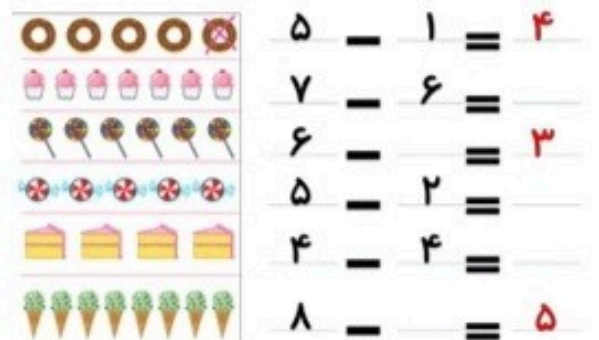


www.mamplus.com

۲. هر شکل را به تعداد قورباغه‌های آن وصل کن.









۳. به تعداد لازم، شکلها را خط بزن و جای خالی را با اعداد درست پر کن.






خدا زیباست و زیبایی ها را دوست دارد.











نام فرزند دلبندم:

۵. مانند نمونه تفریق کن.

 $6 - 1 = 5$	
	
	


 $\square - \square = \square$

 $\square - 5 = \square$

 $\square - \square = \square$

۶. اندازه هر شکل چند تا چینه است؟

۴. جمع ها را بدست بیار و با رنگ جواب، رنگ کن.

- جواب ۱: قرمز جواب ۲: زرد جواب ۳: سیاه
جواب ۴: آبی جواب ۵: قهوه‌ای جواب ۶: سبز



2+2, 3+1, 1+3, 2+0, 0+2, 1+1, 4+1, 1+3, 2+4, 0+3, 0+5, 2+3, 3+3, 4+2, 3+3, 4+2, 1+5, 4+2, 0+3, 1+4, 2+2, 1+3, 2+3, 3+2, 4+0, 0+1, 1+4, 1+0, 2+3, 0+4, 3+1, 0+5, 4+2, 4+1, 4+0, 0+4, 3+2, 4+2, 3+3, 4+0, 2+2, 3+1, 0+4, 5+0, 0+6, 2+3, 5+1

به نام خدا


آزمون ریاضی پایه اول

نام من:

۱ دختر خوب، با کمک خط کش خطی بکش که شکل ها را به دو نیمه ی مثل هم تقسیم کند.



۲ دخترم، با توجه به عدد هر دسته علامت کمتر - بیشتر را قرار بده.



www.mamplus.com

۳ خوب من، برای عبارت جمع یک نقاشی بکش و جواب را بنویس.


$$4 + 3 = \dots\dots\dots$$

۴ پاسخ تفریق را به دست بیاورید.



$$\dots\dots\dots - \dots\dots\dots = \dots\dots\dots$$

۵ نیمه ی سمت راست شکل را مثل نیمه ی سمت چپ آن رنگ کن.



"موفق باشید"

کاربرگ تمرینی جمع و علامت کمتر بیشتر

نام و نام خانوادگی:

$.... + 5 = 7$



$2 + 3 =$

$.... + 3 = 9$



$4 + 5 =$

$.... + 6 = 6$




$4 + 4 =$

$.... + 3 = 4$



$2 + 1 =$

$... + 5 = 8$



$3 + 3 =$

$2 + 6 =$



$... + 3 = 5$

$.... + 1 = 9$



$6 + 4 =$

$8 + 2 =$



$3 + 7 =$

$.... + 0 = 4$



$1 + 3 =$

$2 + 1 =$



$... + 0 = 3$

برای هر تفریق شکل بکش.

$8 - 3 =$

$5 - 4 =$

$9 - ... = 5$