

کاربرد و نکات تدریس

تم ۱۳ ریاضی اول دبستان

www.mamplus.com



نام و نام خانوادگی..... کلاس اول

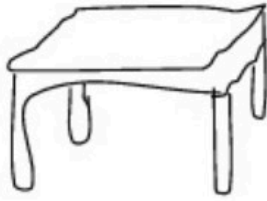
سازمان آموزش و پرورش استان اصفهان

به نام خدا

دبستان پسرانه ی شهید کاشانی پور بهمن ماه

اداره آموزش و پرورش کاشان آزمون مداد کاغذی ریاضی اول

۳- زیر میز یک توپ سرخ رنگ بکش .



۲- درخت پشت خانه را رنگ کن .



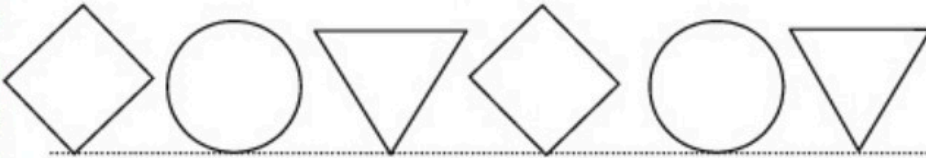
۱- گردی روی خط بسته را آبی و

گردی داخل خط را قهوه ای کن .




۴- الگو را ادامه بده و اسم الگوی تکرار شونده را بگو .


www.mamplus.com



۵- به اندازه ی عدد هر دسته شکل یک جور بکش . و عدد دسته هایی را که شکل دارند بنویس .




۶- با خط کش ادامه بده .



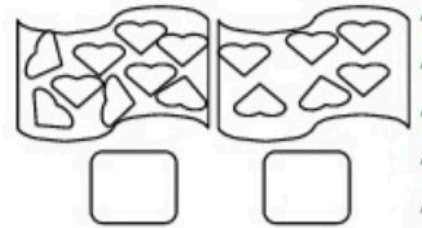
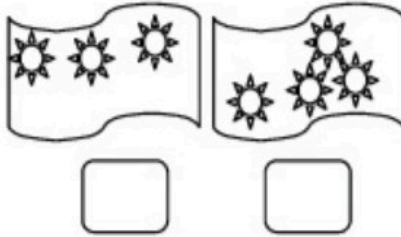

۶	۱	۳	۵	۲	۴
۴	۵			۶	۳
۲	۶			۳	۵
۵	۳			۱	۶
۱	۴			۵	۲
۳	۲	۵	۶	۴	۱

۷- جدول مقابل را کامل کن .

۸- شکل را طوری کامل کن که دو نیمه ی آن یک جور باشد .

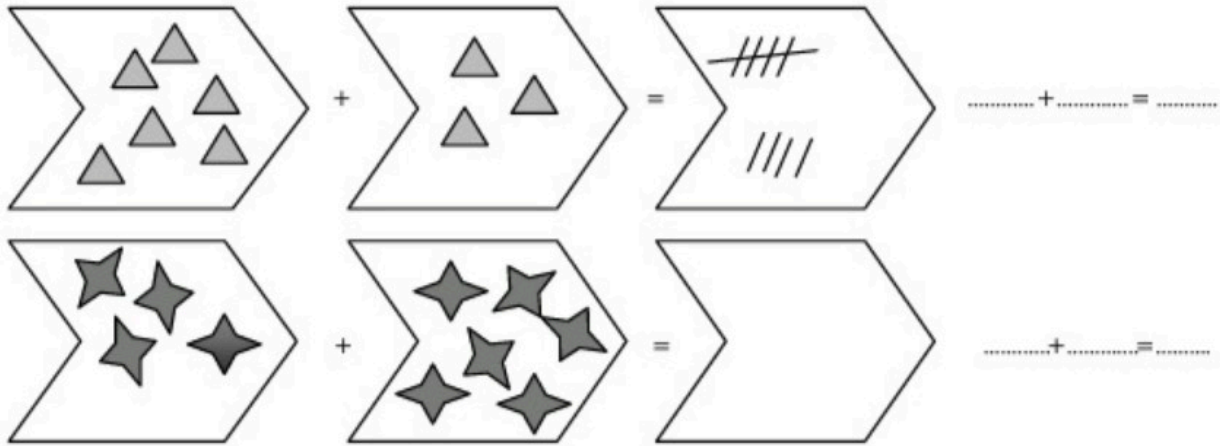


۹- عدد هر دسته را بنویس و بین آن ها علامت کمتر - بیشتر (<) یا مساوی (=) بگذار .



www.mamplus.com

۱۰- عدد مربوط به هر شکل را بنویس، با چوب خط حساب کن و جواب جمع را بنویس .



نیاز به تلاش بیشتر	قابل قبول	خوب	خیلی خوب	هدف های درس ریاضی اول دبستان
				آزمون را سریع و به موقع انجام داد .
				درک جهت خود و اشیای پیرامون (جهت ها را می شناسد) سوال های ۱ و ۲ و ۳
				شناخت اشکال هندسی، توانایی رسم آن - توانایی کار باخط کش سوال ۴
				درک مفاهیم مختلف عدد. توانایی بیان مجموعه کمتر از ۵ بدون شمارش سوال ۵
				کسب مهارت الگو یابی (تشخیص، ادامه و طراحی جدید) سوال ۶
				مهارت در حل مربع های شگفت انگیز سوال ۷
				درک مفهوم تقارن و توانایی تکمیل اشکال متقارن سوال ۸
				کسب مهارت مقایسه ی اعداد سوال ۹
				درک مفهوم جمع و حل مسائل مربوط به آن سوال ۱۰

پایه ی اول

به نام خدای خوب



نام زیبای من:
تاریخ:

www.mamplus.com

۱- برای شکل های زیر جمع بنویس.

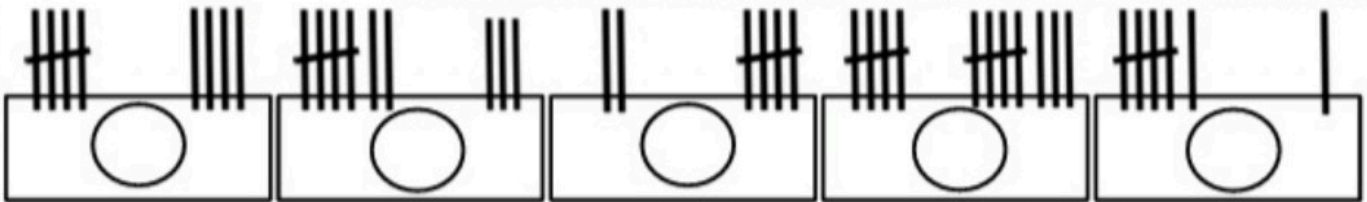
$۲ + ۷ =$				

۲- ابتدا مربع شگفت انگیز را کامل کن و سپس درجدول سمت چپ خانه ها را طوری کامل کن که دو نیمه مثل هم باشند.

۸	۷	۴	۵		۲	۳	۶	۱
۶		۱	۳	۷	۴	۸		۹
۳	۵		۸	۱	۶		۴	۲
۹	۶	۷	۴	۲	۵	۱	۸	۳
	۳	۵		۸		۴	۲	
۲	۴	۸	۷	۳	۱	۵	۹	۶
۴	۹		۱	۵	۳		۷	۸
۵		۳	۹	۶	۷	۲		۴
۷	۱	۶	۲		۸	۹	۳	۵

۳- دور عددهای بیشتر از ۶ خط بکش.

۴- برای چوب خط ها عدد بنویس و بین دو عدد علامت کمتری یا بیشتری (<) بگذار.



www.mamplus.com

۵- بین اعداد به طور مناسب علامت کمتری یا بیشتری (>) قرار بده.

۱ ○ ۴ ۲ ○ ۵ ۸ ○ ۱ ۴ ○ ۳ ۶ ○ ۳

۶- حاصل جمع های زیر را با کمک رنگ کردن چینه ها به دست آورید. (عدد اول، رنگ آبی - عدد دوم قرمز)



$$۵ + ۳ = \bigcirc$$



$$۲ + ۵ = \bigcirc$$



$$۴ + ۴ = \bigcirc$$





$$۶ + ۳ = \bigcirc$$

۷- از ۰ تا ۹ به ترتیب بنویس.




۸- الگوهای زیر را ادامه بده.



باز خورد آموزگار



خود سنجی



شماره دانش آموز:

بسمه تعالی

اداره کل آموزش پرورش استان همدان

درس : ریاضی تاریخ:

پایه : اول نام و نام خانوادگی:

مجتمع شهید بهشتی

نام

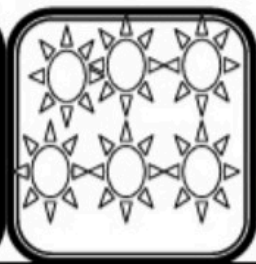
آموزگار:

۱- عدد مناسب هر شکل را بنویس.



www.mamplus.com

۲- در هر قسمت دسته ای را که شکل های بیشتر دارد رنگ کن.



۳- شکل های هر دودسته روی هم چند تا می شوند؟ جواب را با چوب خط نشان بده.



.....



.....

۴- اعداد قبل و بعد را بنویس.


۰ - - ۲ - - ۴ - - ۷

۵- با استفاده از خط کش خطی بکش که شکل را ب دو نیمه مثل هم کند. هر نیمه را رنگ بزن.

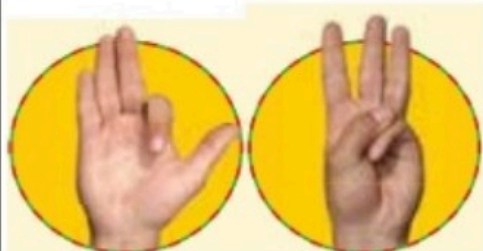


www.mamplus.com

۶- انگشتان یک دست را تا جایی که امکان دارد به دست دیگر منتقل کن و با چوب خط نشان بده.



—



—



۷- جدول سودوکو زیر را کامل کنید.

۵	۱	۴	۳		۶
۶	۳			۴	۵
۴	۶				
۱	۲	۵			
۲	۵			۳	۴
	۴	۶	۲	۵	۱



موفق باشید.

(رقیه آرامی)

نام و نام خانوادگی:


دبیر مربوطه:

۱- برای شکل روبه رو دو جمع بنویسید.



$$\text{---} + \text{---} = \text{---}$$

$$\text{---} + \text{---} = \text{---}$$



$$\text{---} + \text{---} = \text{---}$$

$$\text{---} + \text{---} = \text{---}$$

www.mamplus.com

۲- علامت < = > بگذارید.

$$1 + 5 \bigcirc 0 + 6$$

$$5 + 2 \bigcirc 3 + 3$$

$$3 + 2 \bigcirc 4 + 4$$

$$2 + 4 \bigcirc 3 + 4$$

۳- در جاهای خالی عددی بنویسید که جمع آنها برابر با عدد بالای ستون ها باشد.

۶	۸
۲ + ---	۳ + ---
۱ + ---	۶ + ---

۴- اعداد زیر را یکبار از کمتر به بیشتر و یکبار از بیشتر به کمتر مرتب کنید.

(۹ - ۶ - ۴ - ۲ - ۷ - ۵)

۵- با توجه به علامت در جاهای خالی عدد مناسب بنویسید.

$$6 > \text{---}$$

$$7 < \text{---}$$

$$8 < \text{---}$$

$$9 > \text{---}$$

۶- پروانه ۴ کتاب داشت. ۲ کتاب هم از مدرسه دادند. اکنون پروانه چند کتاب دارد؟ (با راه حل)



۷- عدد مابین ۶ و ۸ چه عددی است؟



عدد مابین ۷ و ۹ چه عددی است؟

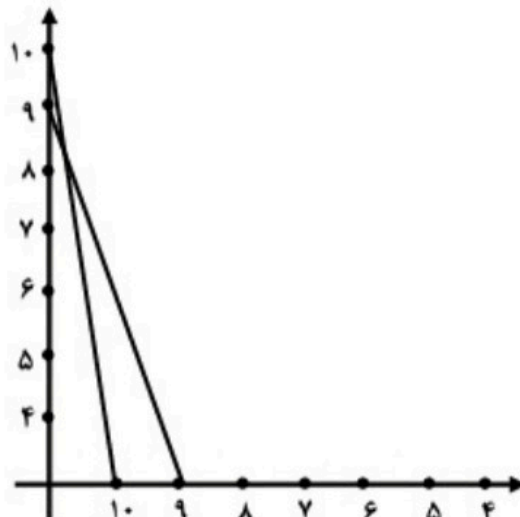
۸- قبل و بعد این اعداد را بنویسید.



www.mamplus.com

۹- ۴ تا از جمع های عدد ۷ را بنویسید.

۱۰- نقطه هایی را که اعداد مثل هم دارند با خط کش مانند نمونه به هم وصل کنید.



یک آینه

پیش دبستان و دبستان خیردستی نای

پایه اول

نام و نام خانوادگی:

۱ - عدد هر دسته را بنویس و علامت $>$ ، $=$ یا $<$ بگذار.

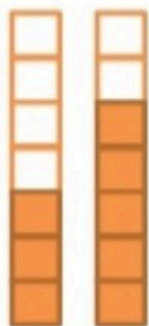


$$9 > 8$$




www.mamplus.com

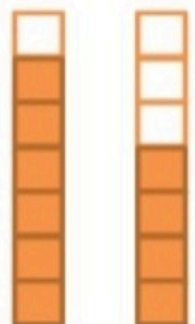
۲ - مانند نمونه انجام بده.



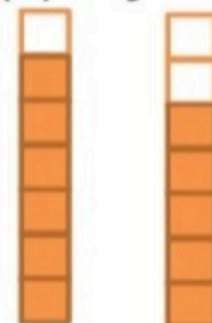
$$3 < 5$$



$$\square = 7$$




$$6 > \square$$



$$\square > 5$$



$$0 <$$



$$4 >$$









$$5 < 7$$



$$4 =$$

۳- داستان هر تصویر را بگو و عدد هر دسته را بنویس.

	+		=	
.....	
	+		=	
.....	

۴- عدد مربوط به هر خط را بنویس . خط ها روی هم چند تا می شود ؟ مانند نمونه با

www.mamplus.com

چوب خط نشان بده.

	+				+		
۴		۲	۶	=

	+				+		
.....		=	=

ارزشیابی معلم:

ریاضی :	خوب	خیلی خوب	در حال تلاش	نیاز به تلاش
بخوانیم و بنویسیم:	خوب	خیلی خوب	در حال تلاش	نیاز به تلاش