



کاربرگ و نکات

تدریس تم ۱۱

ریاضی اول ابتدایی

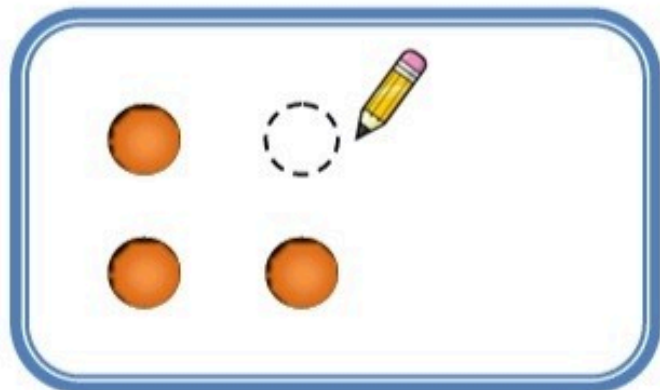

www.mamplus.com

۱۱

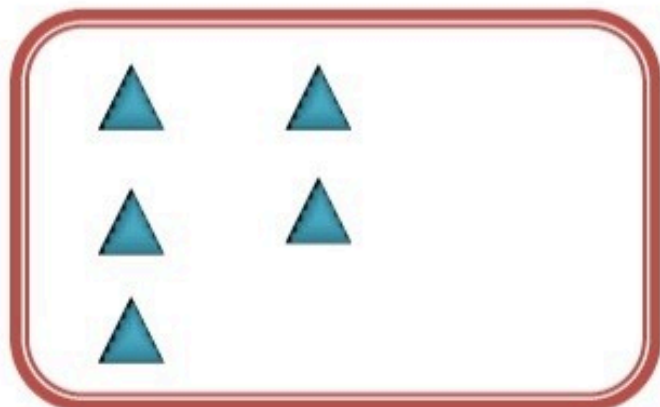



تم

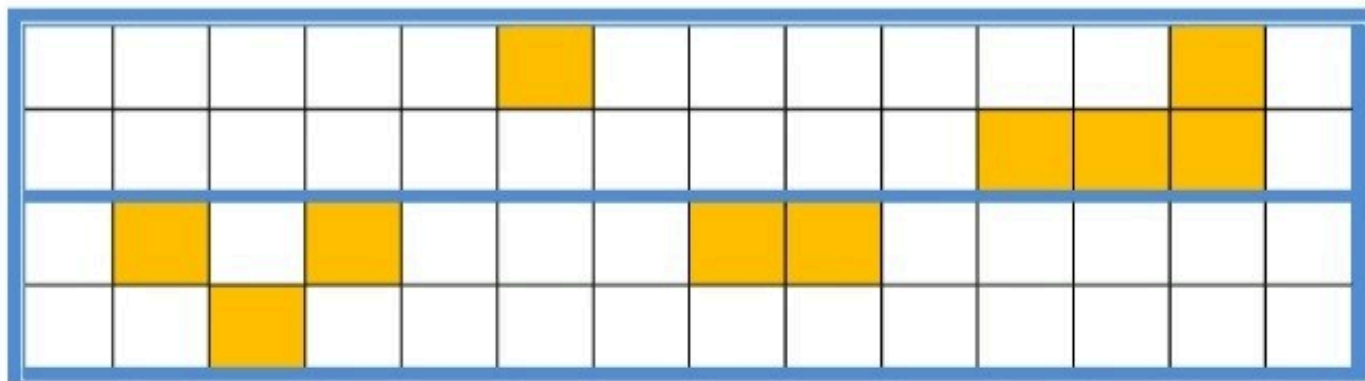
در هر قسمت، در سمت راست آن قدر شکل بکش که تعداد آن با دسته ی سمت چپ برابر شود.



www.mamplus.com



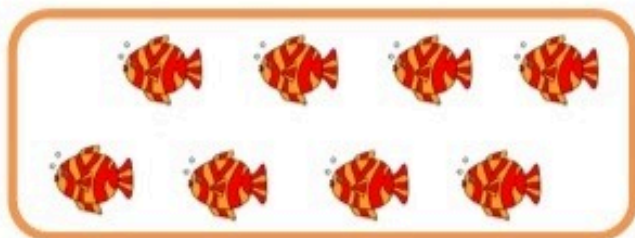
شکل را طوری کامل کن که دو نیمه مثل هم شود.



۱۱

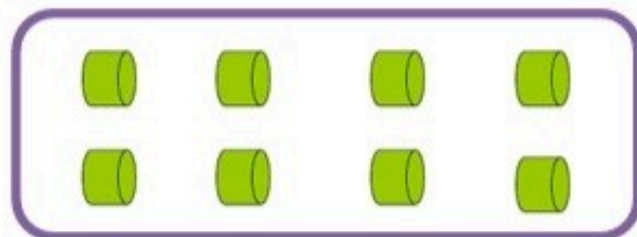
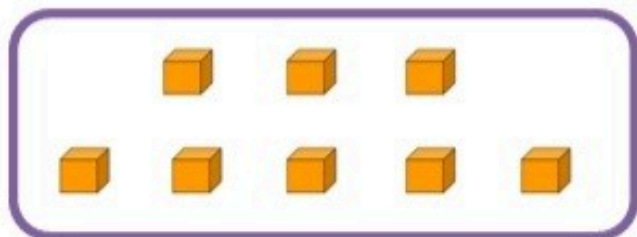
تم

تعداد هر دسته را نوشته و اگر تعداد شکل های هر دسته برابر است علامت (=) بگذار.



Two empty rectangular boxes for writing the counts of the objects above.

www.mamplus.com



Two empty rectangular boxes for writing the counts of the objects above.

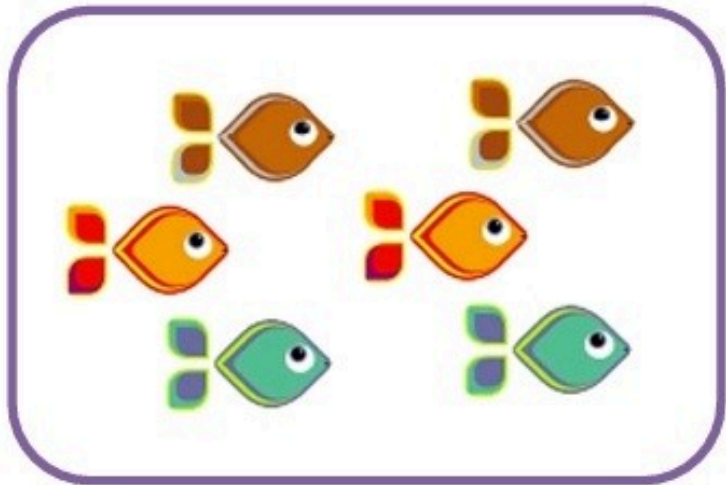
از عدد ۱ تا ۸ به ترتیب بنویس.

۱۱



تم

تعداد هر شکل را با عدد و چوب خط نشان بده.



www.mamplus.com

با توجه به نمونه و با استفاده از شابلون الگوی جدیدی رسم کن.



کاربرگ ریاضی تم ۱۱

به نام ایزد دانا


دبستان غیردولتی بوعلی

طراح: حکیمی

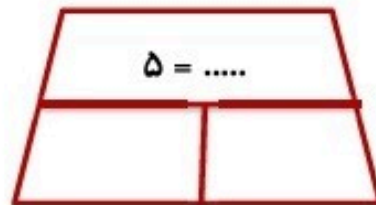
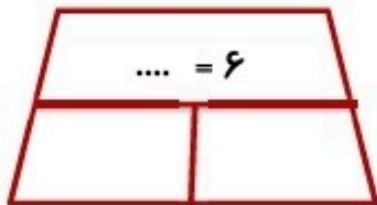
www.mamplus.com

نام زیباییت:

فرزندم، عدد هر دسته را بنویس.




در طرف دیگر علامت مساوی، عدد مناسب بنویس و هر عدد را با چوب خط نشان بده.



۴	۱		۶	۲	۳
۲	۳		۵	۴	
	۶	۴	۲	۱	۵
۵	۲	۱		۶	۴
۱	۵	۲		۳	۶
۶	۴		۱	۵	۲

جدول را کامل کن.

در هر قسمت درست راست آنقدر  بکش که تعداد آنها با دسته ی سمت چپ برابر باشد.



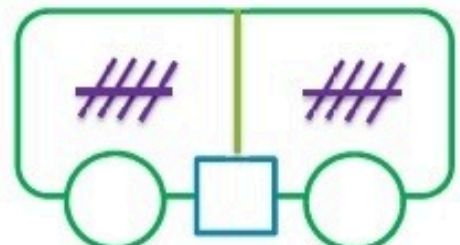
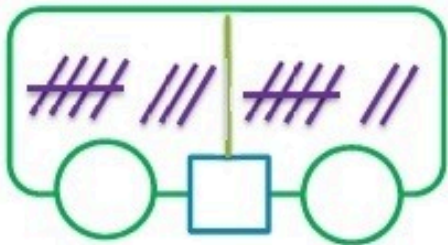
www.mamplus.com



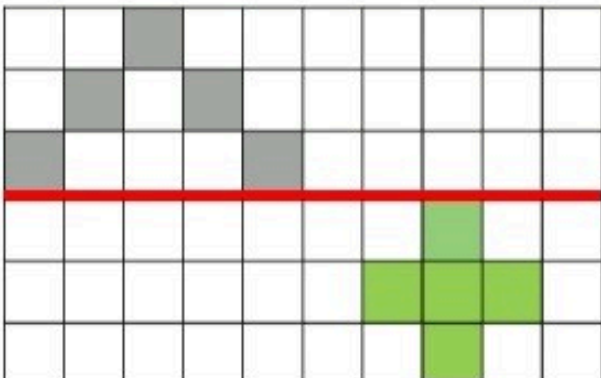
دسته هایی که تعداد آن ها با هم برابر است را رنگ بزن.



عدد هر چوب خط را بنویس و اگر با هم برابر هستند بین آن ها علامت (=) بگذار.



عزیزم نیمه ی هر شکل را بکش.



خلاق و مهربان همیشه این طور بون