




کاربرد و نکات تدریس

تم ۱۰ ریاضی اول دبستان

[www.mamplus.com](http://www.mamplus.com)




شکل های هر دو دسته روی هم چند تا می شوند؟ جواب را با چوب خط نشان بده.






www.mamplus.com

با چوب خط نشان بده اندازه ی هر شکل چند ماهی است.





به تعداد چوب خط های سمت چپ رنگ قرمز و به تعداد چوب خط های سمت راست رنگ زرد بنزن.

--	--	--	--	--	--	--	--



--	--	--	--	--	--	--	--



--	--	--	--	--	--	--	--



www.mamplus.com

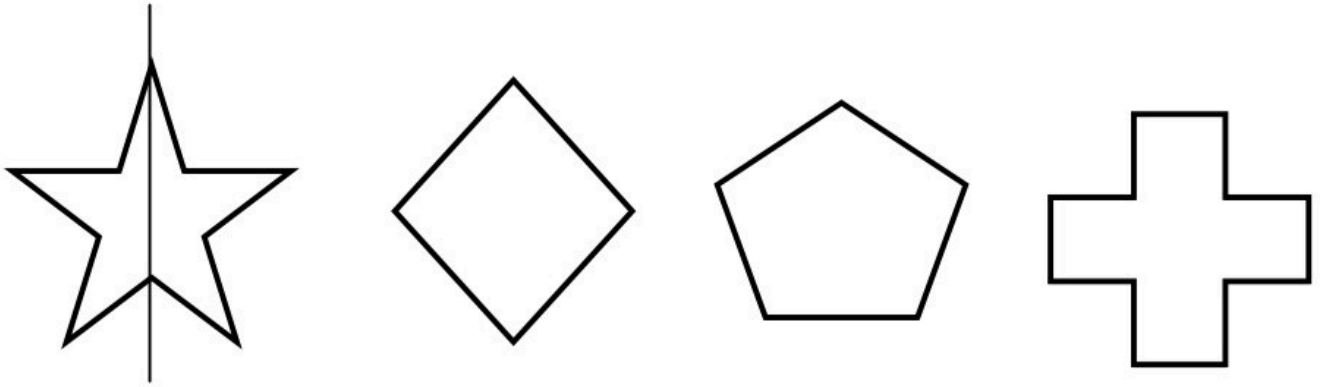
با عدد های زیر یک شکل بساز.

۷

۶



مانند نمونه و با استفاده از خط کش ، خطی بکش که شکل را به دو نیمه کرده سپس هر نیمه را یک رنگ بزن .



جدول های زیر را کامل کن .


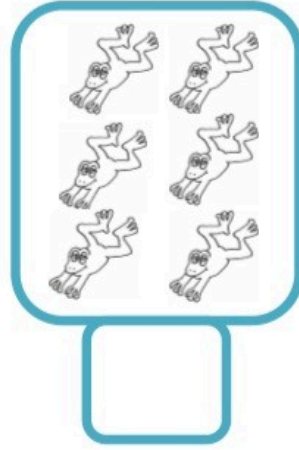
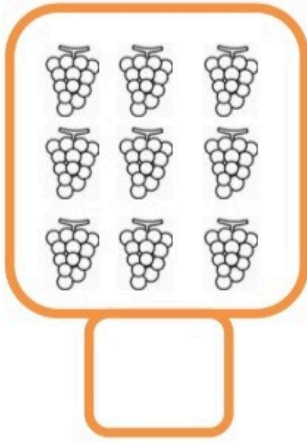
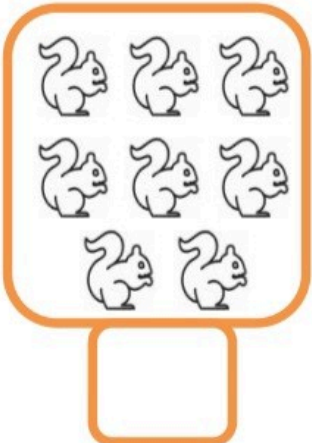
www.mamplus.com

۱	۲	۵		۶	۳
۴	۶		۵	۱	۲
۵	۱	۴		۲	۶
۶	۳		۱	۴	۵
۲	۵	۱		۳	۴
۳	۴		۲	۵	۱

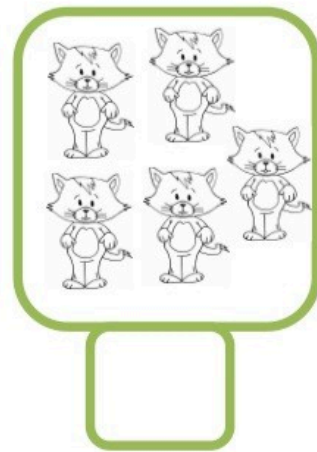
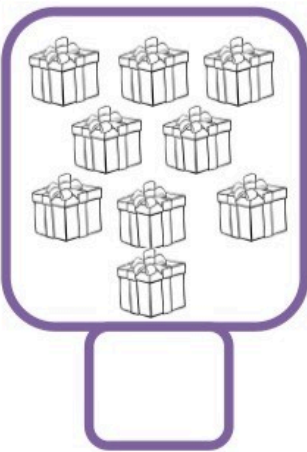
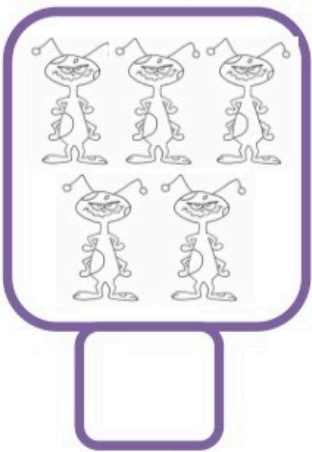
۴	۶			۱	۲
۱	۲	۵	۴	۶	۳
۲	۵			۳	۴
۳	۴	۶	۲	۵	۱
۵	۱	۴	۳	۲	۶
۶	۳			۴	۵



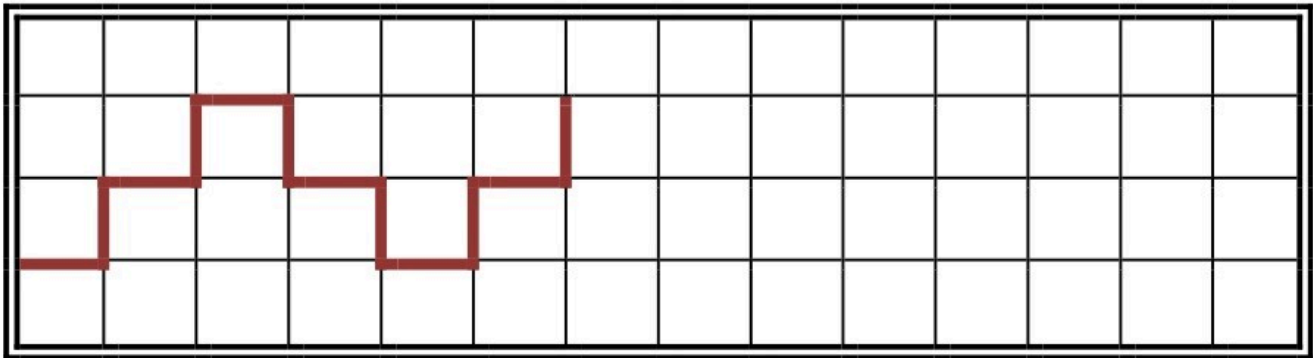
عدد مربوطه به هر دسته را زیر آن بنویس . در هر قسمت دسته ای را که شکل های بیشتری دارد رنگ کن .



www.mamplus.com



الگو را با خط کش ادامه بده .



پایه ی اول

به نام خدای خوب



نام زیبای من: .....  
تاریخ: .....

۱- انگشتان یک دست را تا جایی که امکان دارد به دست دیگر منتقل کن و بعد مانند نمونه با چوب خط نشان بده.

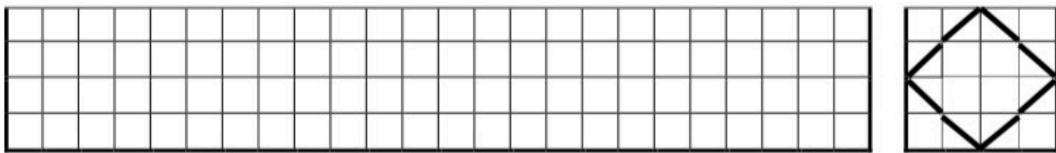
							<input type="text"/>	<input type="text"/>
							<input type="text"/>	<input type="text"/>
							<input type="text"/>	<input type="text"/>

www.mamplus.com

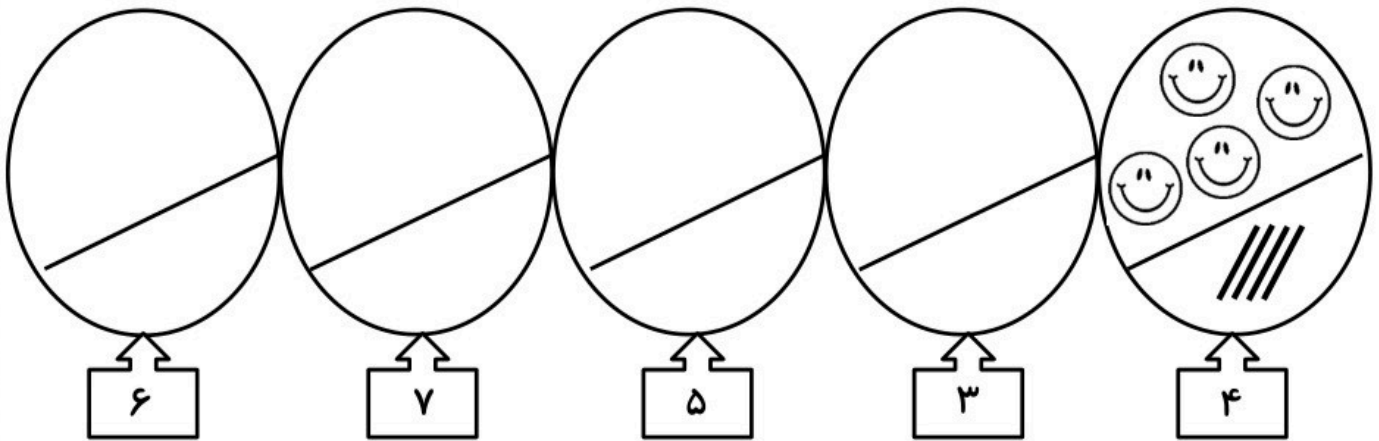
۲- مربع های شگفت انگیز را کامل کن.

۲	۴	۶	۱	۳	۵
۱		۵	۲		۴
۴	۲	۱	۳		۶
۶		۳	۴	۱	۲
۵		۲	۶		۳
۳	۶	۴	۵	۲	۱

۳- ابتدا الگوی سمت راست را توضیح بده و سپس الگو را در سمت چپ بکش و ادامه بده.

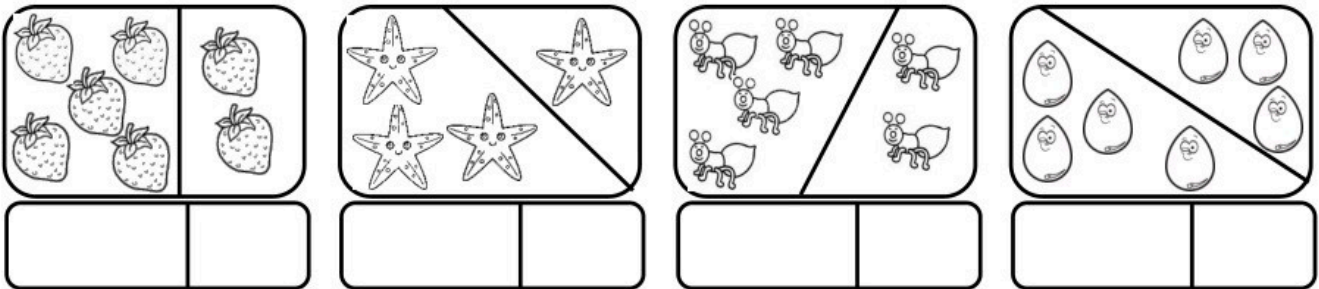


۴- بالای هر عدد مانند نمونه چوب خط و شکل دلخواه بکش و آن ها را رنگ بزن.




۵- در هر قسمت شکل ها روی هم چند تاست؟ با چوب خط و عدد نشان بده.

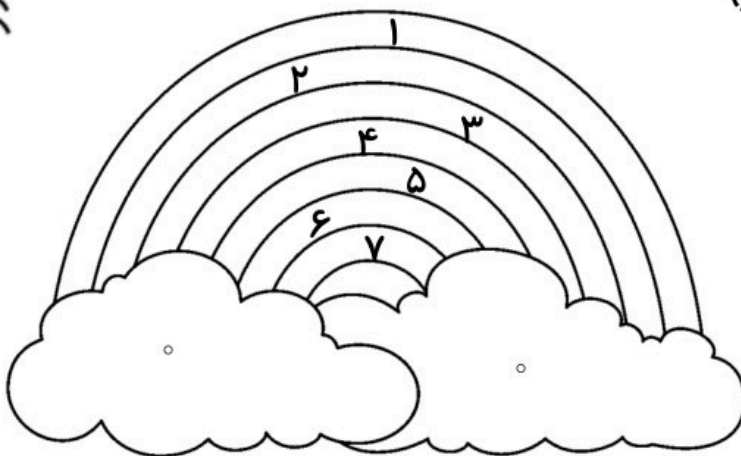
www.mamplus.com



۶- از ۱ تا ۷ به ترتیب بنویس.

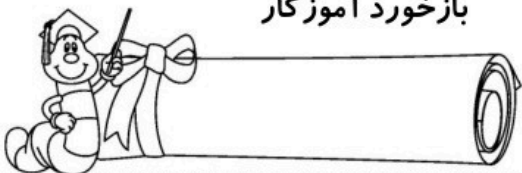


۷- با توجه به راهنما رنگ آمیزی کن.



- ۱- بنفش
- ۲- سرمه ای
- ۳- آبی
- ۴- سبز
- ۵- زرد
- ۶- قرمز
- ۷- نارنجی

باز خورد آموزگار



خود سنجی






نام و نام خانوادگی:

تم ۱۰ ریاضی کاردر منزل دبستان:

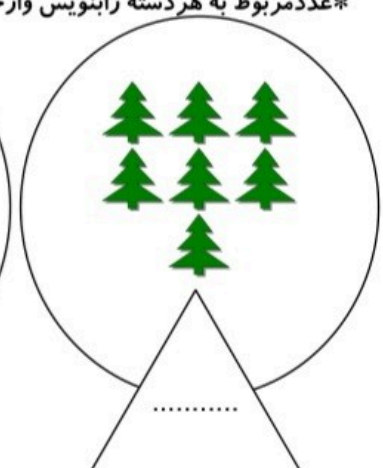
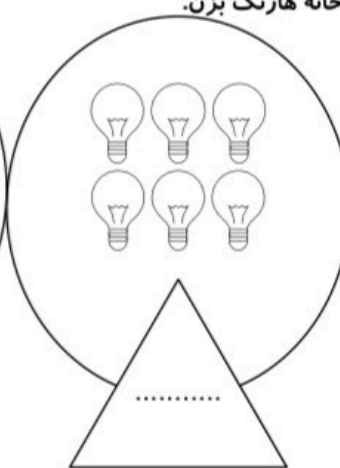
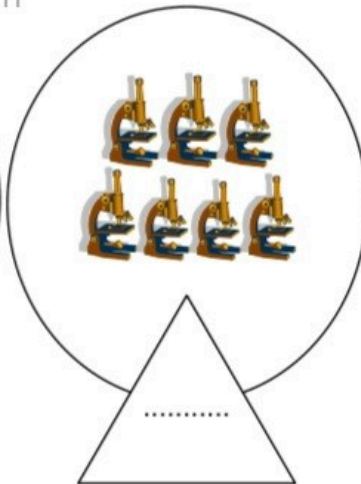
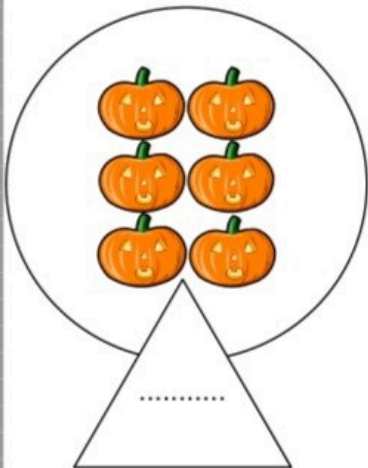
تاریخ:

\* تعداد شکل های سمت چپ و راست با هم چندتایی شوند؟ با چوب خط نشان بده و عدد آن را بنویس.


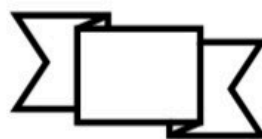
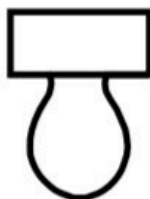



www.mamplus.com

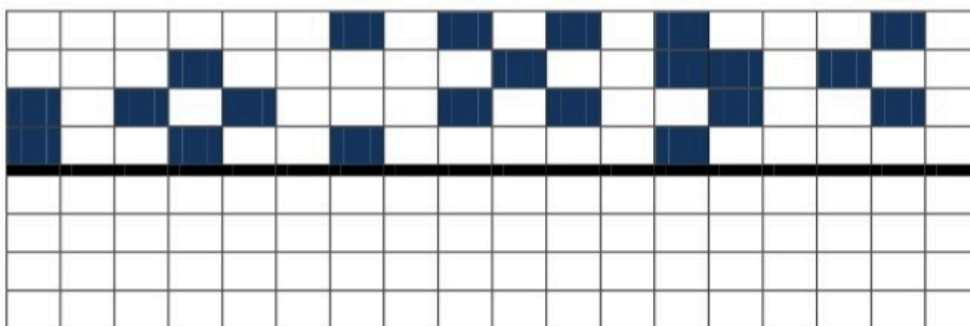
\* عدد مربوط به هر دسته را بنویس و از خانه هارنگ بزن.



\* کدام شکلها را می توانیم با خط کش از وسط خط بکشیم که دو نیمه ی مثل هم درست شود؟



\* نیمه دیگر جدول را طوری کامل کن که مثل هم باشند.





\*جدول های زیر را کامل کن.

۵	۶	۲	۳		۱
۳	۱	۴	۲	۶	۵
	۵	۶		۲	۳
۱	۲		۶		۴
۶	۳	۵	۴	۱	۲
۲		۱	۵		۶

۵	۴	۶	۱	۲	۳
۲		۳	۶		۵
	۳		۵		۲
۱		۵		۶	۴
۳	۶		۴	۵	
	۵		۲		۶

\*در هر قسمت عدد دسته ها را بنویس و دسته ای که صدای بیشتری دارد صداها را رنگ بزن.

www.mamplus.com

<p>ب ب ب</p> <p>ب ب ب</p> <p>○</p>	<p>آ آ آ</p> <p>آ آ</p> <p>○</p>	<p>د د</p> <p>د</p> <p>○</p>	<p>ه ه</p> <p>ه ه</p> <p>○</p>
<p>ق ق ق</p> <p>ق ق ق</p> <p>○</p>	<p>سی سی سی سی</p> <p>سی سی سی</p> <p>○</p>	<p>او او او</p> <p>او او</p> <p>○</p>	<p>و و و و</p> <p>○</p>

نظر آموزگار:

خسته نباشی عزیزم