



کاربرد و نکات تدریس

تم ۹ ریاضی اول دبستان

[www.mamplus.com](http://www.mamplus.com)

پایه ی اول

به نام خدای خوب



نام زیبای من: .....  
تاریخ: .....

۱- تعداد هر شکل چند تا است؟ ابتدا برای آن چوب خط بکش، سپس عدد آن را بنویس.

		۳		<input type="text"/>	<input type="text"/>
	<input type="text"/>	<input type="text"/>		<input type="text"/>	<input type="text"/>
	<input type="text"/>	<input type="text"/>		<input type="text"/>	<input type="text"/>

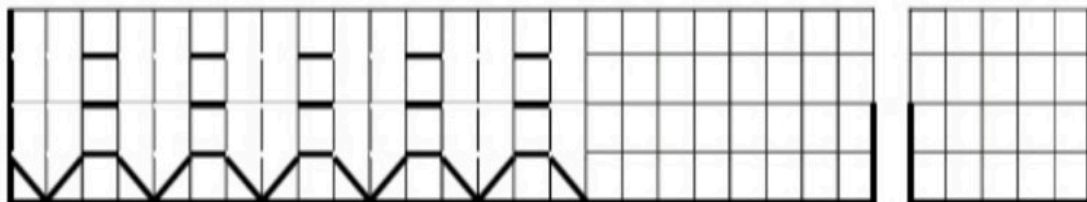
www.mamplus.com

۲- مربع های شگفت انگیز را کامل کن.

۵	۴	۲	
۲	۳		۴
۴			۵
	۵	۴	

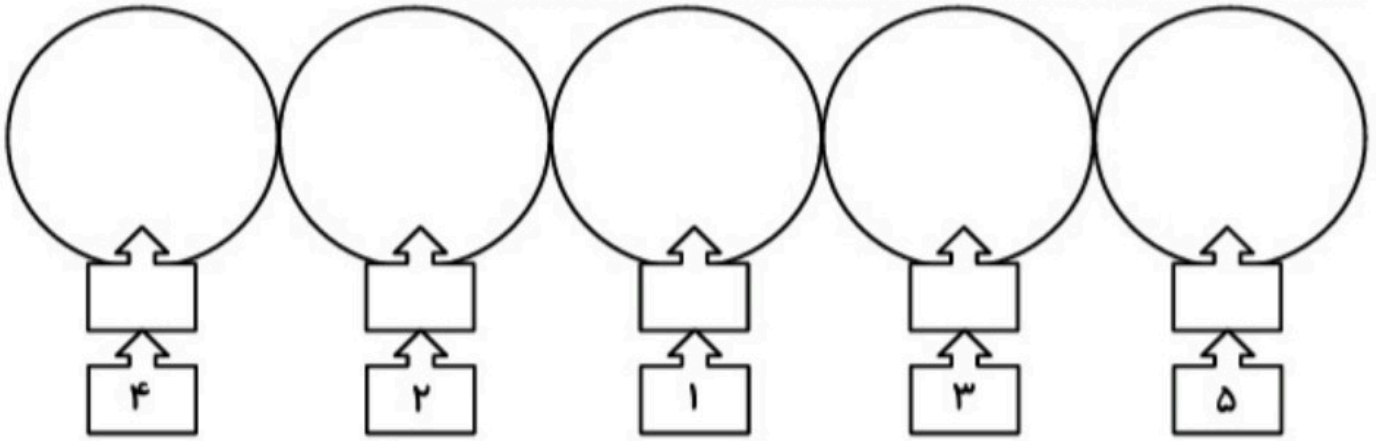
۲	۵		
	۴	۵	۲
۴	۳		۵
۵		۴	

۳- ابتدا الگوی زیر را توضیح بده و بعد ادامه بده. سپس الگویی را که پیدا کرده ای در سمت راست بکش.



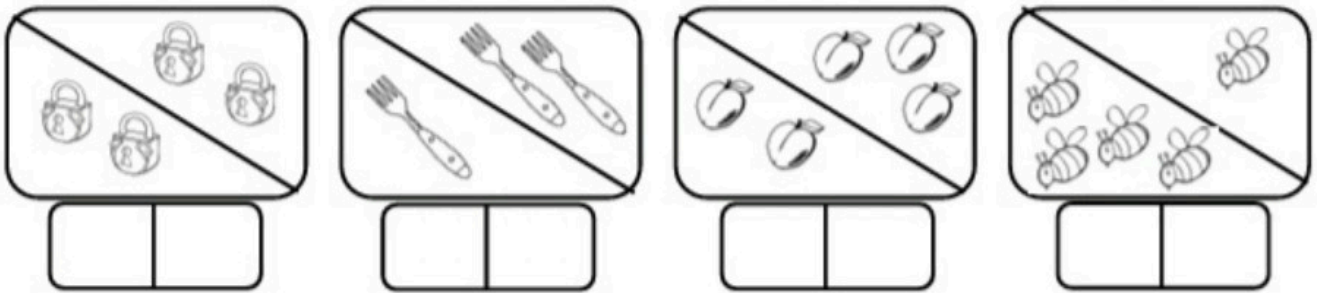


۴- برای هر عدد بالای آن چوب خط کشیده و در دایره شکل بکش و آن ها را رنگ بزن.

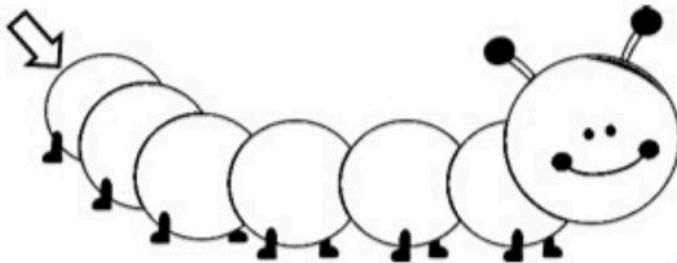


www.mamplus.com

۵- در هر قسمت شکل ها روی هم چند تا می شود؟ در سمت چپ چوب خط و در سمت راست عدد آن را بنویس.

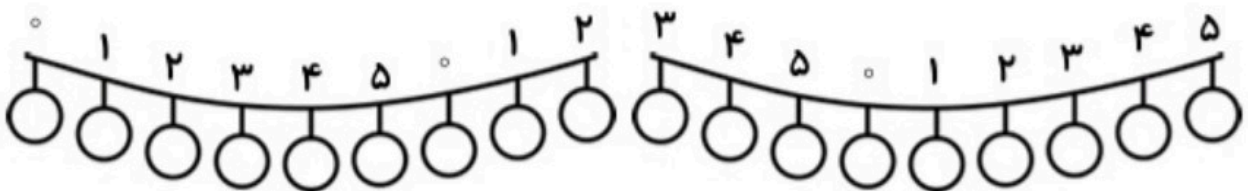


۶- از ۰ تا ۵ به ترتیب بنویس.

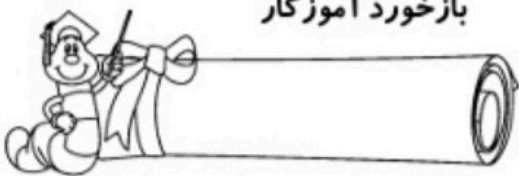


۷- با توجه به راهنما رنگ آمیزی کن.

۰- قرمز ۱- سبز ۲- زرد ۳- نارنجی ۴- بنفش ۵- آبی



بازخورد آموزگار



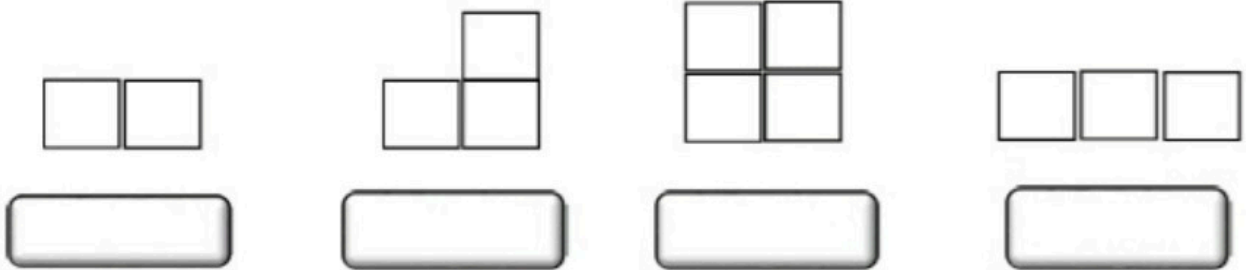
خودسنجی



بسم الله الرحمن الرحيم  
آزمون مدادی کاغذی ریاضی

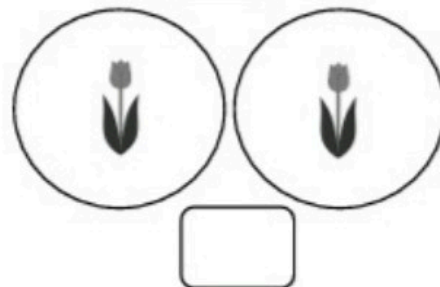
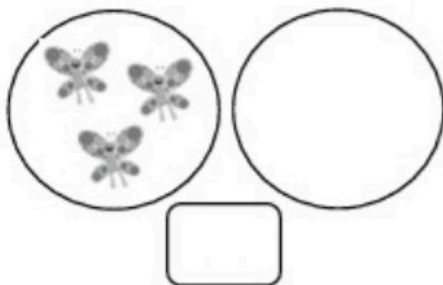
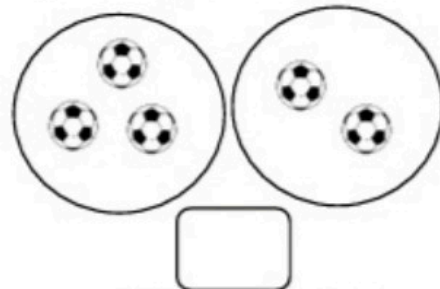
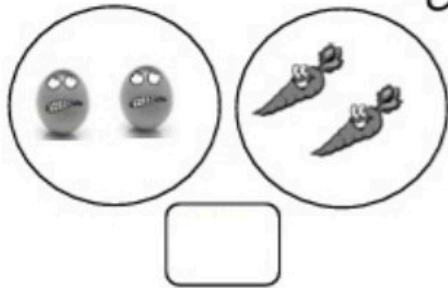
نام و نام خانوادگی:

هر کدام از شکل ها از چند تا  درست شده است؟ به این تعداد در جای خالی چوب خط بکش.




www.mamplus.com

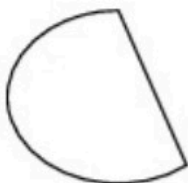
شکل های هر دو دسته روی هم چند تا می شوند؟ عدد را بنویس.



دور شکل های مثل هم خط بسته بکش.



یک گردی روی خط بسته، یک چهارگوش داخل خط بسته و یک سه گوش خارج خط بسته بکشید.



جدول زیر را با عدد های ۱ و ۲ و ۳ و ۴ کامل کن.

۳	۱		
	۴	۱	۳
۱	۲		۴
		۲	

www.mamplus.com

به تعداد عدد نوشته شده شکل بکش.



۲



۵



۳

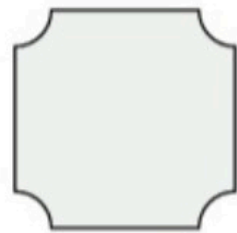



۴




۱






برای شکل های زیر، یک خط تقارن با خط کش بکش.





بشمار، چوب خط بکش، تعداد را بنویس.



www.mamplus.com

خیلی خوب  خوب  قابل قبول  نیاز به تلاش بیشتر

باز خورد:



«دبستان حضرت علی (ع) دماوند- کالدشت»


هدف: تمرین اعداد ۱ تا ۵

۱ ابتدا برای هر عدد چوب خط بکش سپس به دسته ی مناسب وصل کن.

۱	
۵	
۳	
۴	
۲	



www.mamplus.com



۲ مربع های شگفت انگیز را با عددهای مناسب پر کن.

۱	۲		
		۱	۲
۲	۱	۳	
		۲	

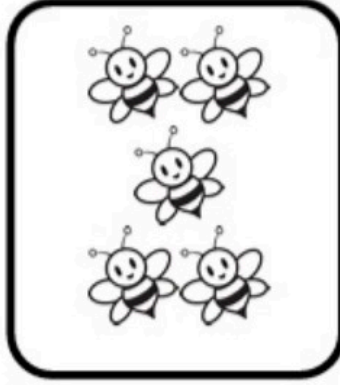

۱	۲		
		۲	۱
۲	۴		
		۴	۲

تاریخ: .....

ریاضی کلاس اول ( تم ۹ )

نام و نام خانوادگی: .....

هدف: آشنایی با نماد عدد ۵



عدد ۵ را پیدا کن

۱ ۵ ۳ ۱  
۵ ۱ ۵ ۷  
۴ ۵ ۸ ۵

۵ ستاره بچسبان




www.mamplus.com

عدد را بنویس.


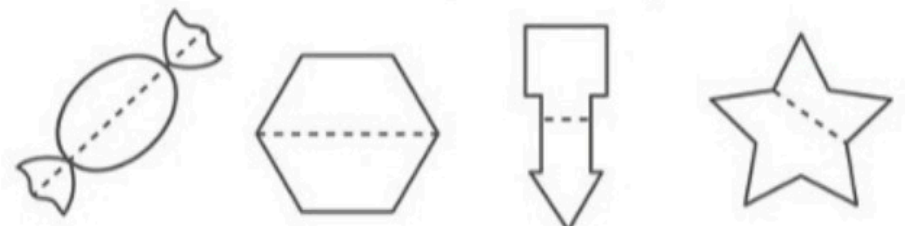

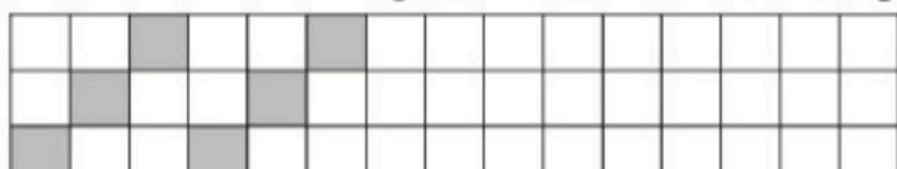



۵ خانه رنگ کن.

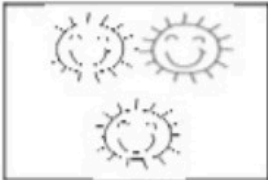






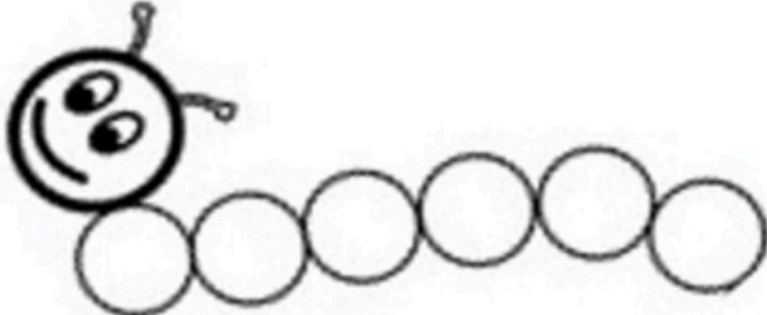




هدف: تقارن.

<p>۱ با خط کش دو نیمه مثل هم را به هم وصل کن.</p>  <p>www.mamplus.com</p>	<p>۱</p>
	<p>۲ شکل هایی که دو طرفشان مثل هم است را رنگ کن.</p>
	<p>۳ نیمه ی دیگر شکل های زیر را بکش.</p>
	<p>۴ الگو را ادامه بده. چه شکلی تکرار شده است؟ در سمت راست بکش.</p> 

هدف: مروری بر جمع و تفریق

 	<p>شکل های سمت چپ و راست با هم چندتا می شوند؟ چوب خط بکش</p>  	<p>→</p> <div style="border: 1px solid black; width: 100%; height: 100%;"></div> <p>→</p> <div style="border: 1px solid black; width: 100%; height: 100%;"></div>	<p>۱</p>
<p>اگر به تعداد شکل های سمت راست از شکل های سمت چپ برداریم چندتا باقی می ماند؟</p>		 	<p>۲</p>
<p>www.mamplus.com</p> 	<p>با عدد صفر یک شکل جدید بکش.</p>		<p>۴</p>
		<p>۵ اعداد صفر تا پنج را به ترتیب از چپ به راست بنویس.</p>	