

کاربرگ و نکات تدریس

تم 8 ریاضی اول دبستان

www.mamplus.com



پایه ی اول

به نام خدای خوب

دستان



تکلیف ریاضی

۸ تم

نام زیبای من:

تاریخ:

۱- در هر ردیف چند کیک داریم؟ چند کیک شمع دارد؟ چند کیک بدون شمع مانده است؟ با چوب خط نشان بده.




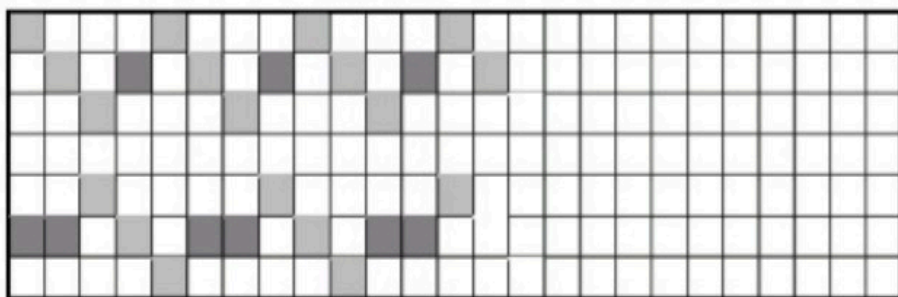
www.mamplus.com

۲- مربع های شگفت انگیز را کامل کن.


۱	۳	۲	
۲			۳
۳			۱
	۱	۳	

۲	۱		۳
	۳	۱	۲
۳			۱
۱		۳	

۳- ابتدا الگوی زیر را توضیح بده و بعد ادامه بده. سپس الگویی را که پیدا کرده ای در سمت راست بکش.




۴- شکل‌ها را رنگ بزن و عدد هر دسته را بنویس.

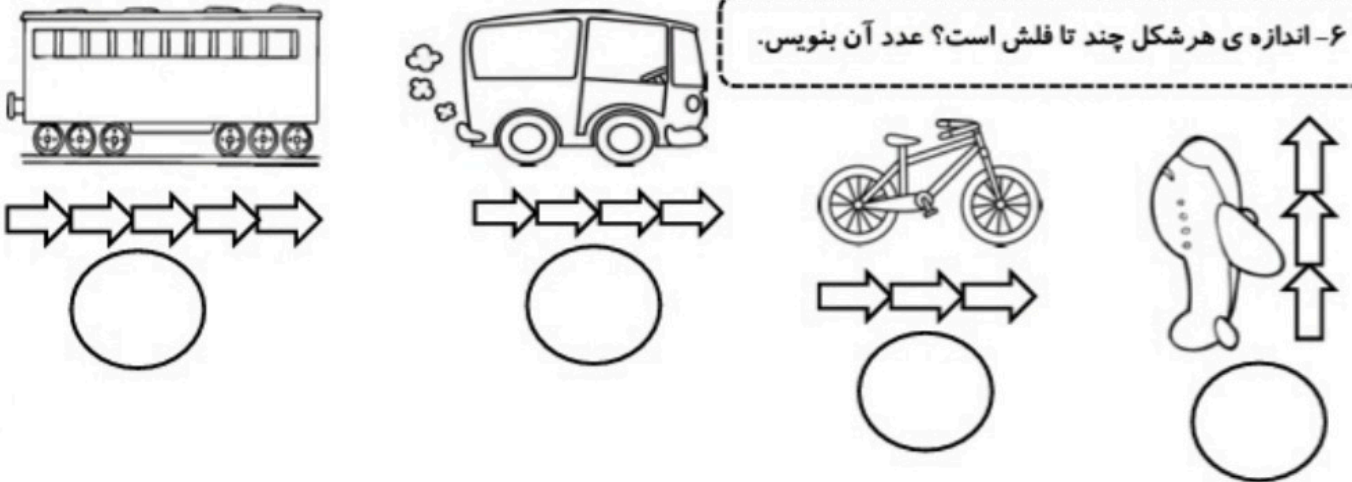


www.mamplus.com

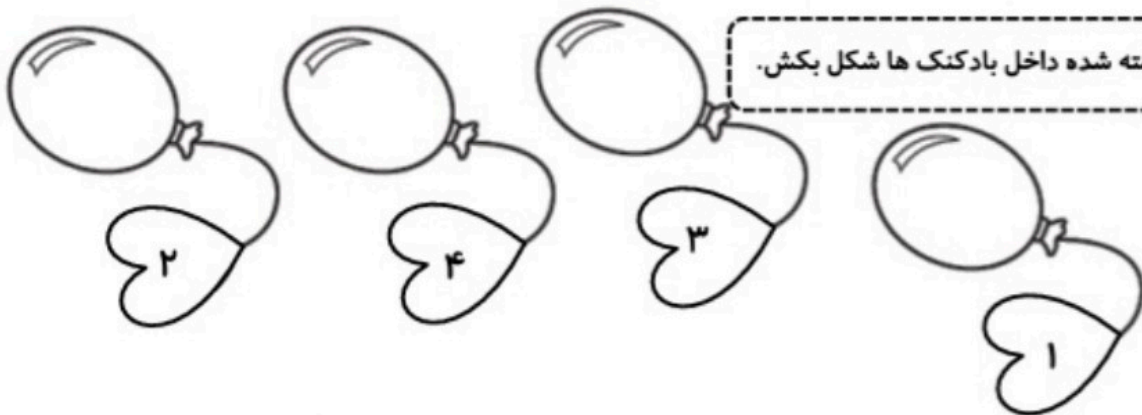
۵- دور عدد مناسب خط بکش.



۶- اندازه‌ی هر شکل چند تا فلش است؟ عدد آن بنویس.

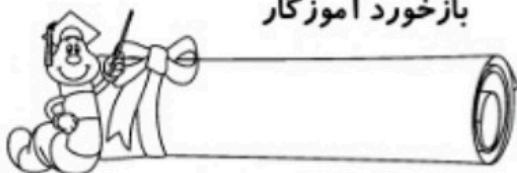


۷- برای عدد نوشته شده داخل بادکنک‌ها شکل بکش.




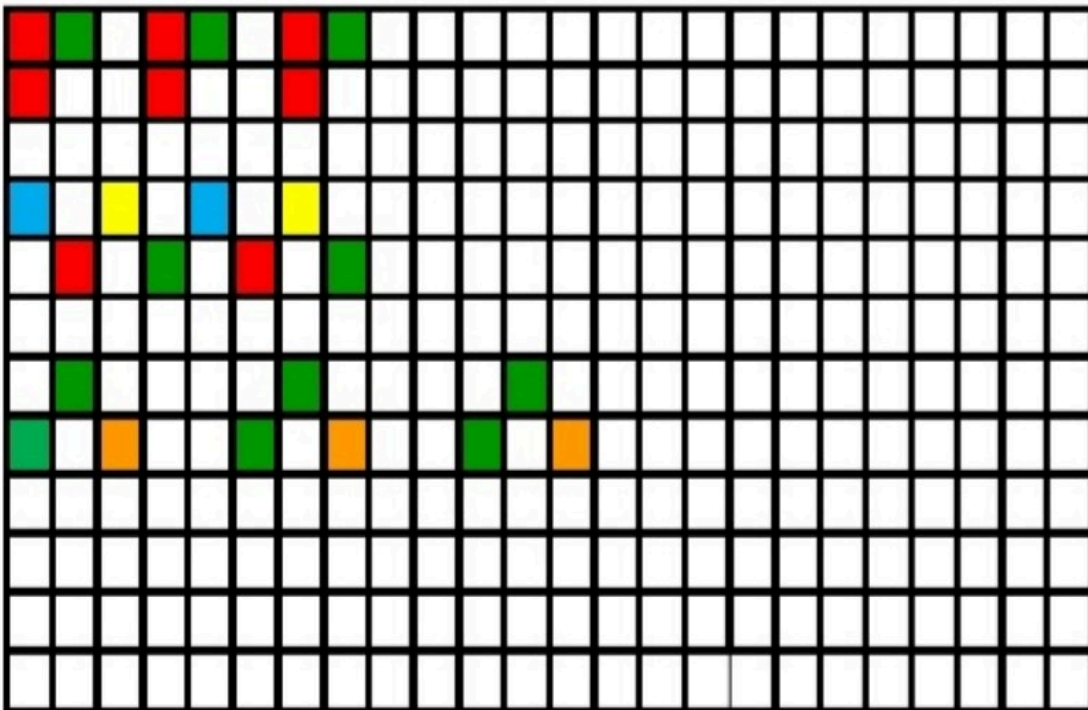

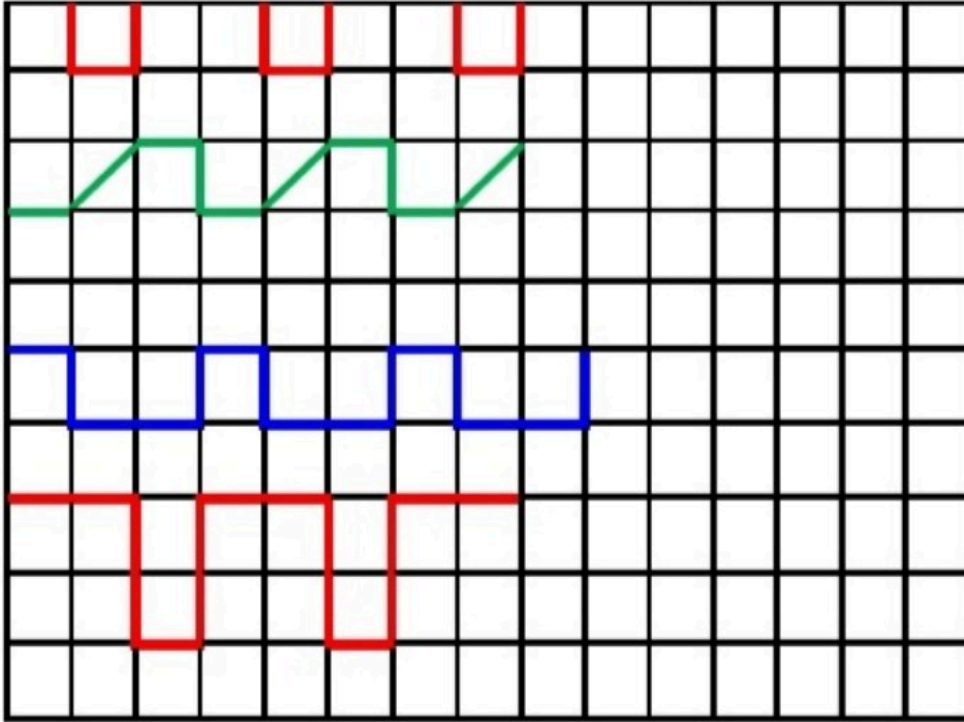
بازخورد آموزگار

خودسنجی



www.mamplus.com

الگوها را ادامه بده و در سمت راست تکرار کن . در پایین جدول دوم ، یک الگو بساز .



ضعیف

متوسط

خوب

عالی

۲	۱		۳
۳		۲	۱
۱	۲		۴
۴		۱	

		۳	۴
۴	۳	۲	
۳	۱		
۲	۴		۳

رهگذر کی ریاضی

نام دانش آموز

.....

در هر ردیف ابتدا گردی های آبی را بشمار و چوب خط های آن را در خانه ی سمت چپ و سپس گردی های قرمز را بشمار و چوب خط های آن را در خانه ی سمت راست بکش .

با استفاده از دو مداد رنگی و با توجه به چوب خط ها ، گردی ها را رنگ کن .

در نماز دورگوشی هر حالت را چندبار انجام می دهیم؟ زیر هر تصویر عدد آن بنویس .

قنوت	خواندن حمد و سوره	نیت
سلام	سجده	رکوع

مانند نمونه عددهای ۱، ۳ و ۴ را با کشیدن چوب کبریت نشان بده .




داستان بگو. چندتا پرندۀ بودند؟ چندتا پرواز کردند؟ چندتا هنوز نشسته هستند؟



داستان بگو. چندتا گربه بودند؟ چندتا رفتند؟ چندتا هنوز نشسته هستند؟



داستان بگو. چندتا پروانه بودند؟ چندتا پرواز کردند؟ چندتا هنوز پرواز نکرده اند؟



۳

www.mamplus.com

اندازه ی هر شکل چند گیره است؟ کنار آن بنویس.



در هر ردیف شکلی بکش که به اندازه ی آن چند گیره باشد و در جای خالی تعداد گیره ها را بنویس.



۶

هر شکل چه عددی را نشان می دهد.



نوشتن عدد ۴ را ادامه بده.



الگو را ادامه بده.

۱	۱						
۲	۲						
۳	۳						
۴	۴						

۵

هر شکل چه عددی را نشان می دهد.



نوشتن عدد ۳ را ادامه بده.



الگو را ادامه بده.

۴

تصویر




رنگ بزن




رنگ بزن



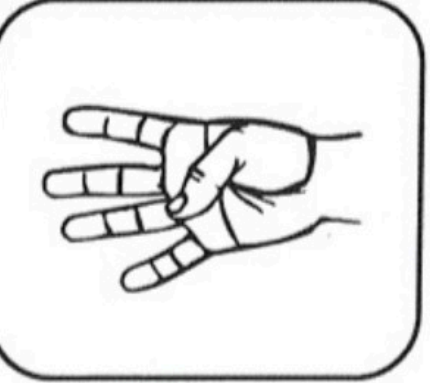
علامت بزن




با چوب خط نشان بده



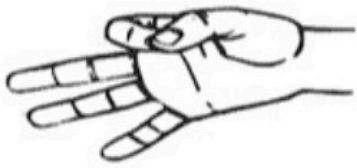
بگو و نشان بده




www.mamplus.com




بگو و نشان بده



علامت بزن



با چوب خط نشان بده



رنگ بزن

سه

رنگ بزن

