







کاربردگ تم ۶ ریاضی اول دبستان
همراه با نکات تدریس

www.mamplus.com

در هر قسمت با انگشتان یک دست نشان بده چند شکل وجود دارد . به تعداد شکل های مثل هم انگشتان دست را بپند. با چوب خط نشان بده چند تا مانده است .

www.mamplus.com



پایه ی اول

به نام خدای خوب

دستان

تکلیف ریاضی

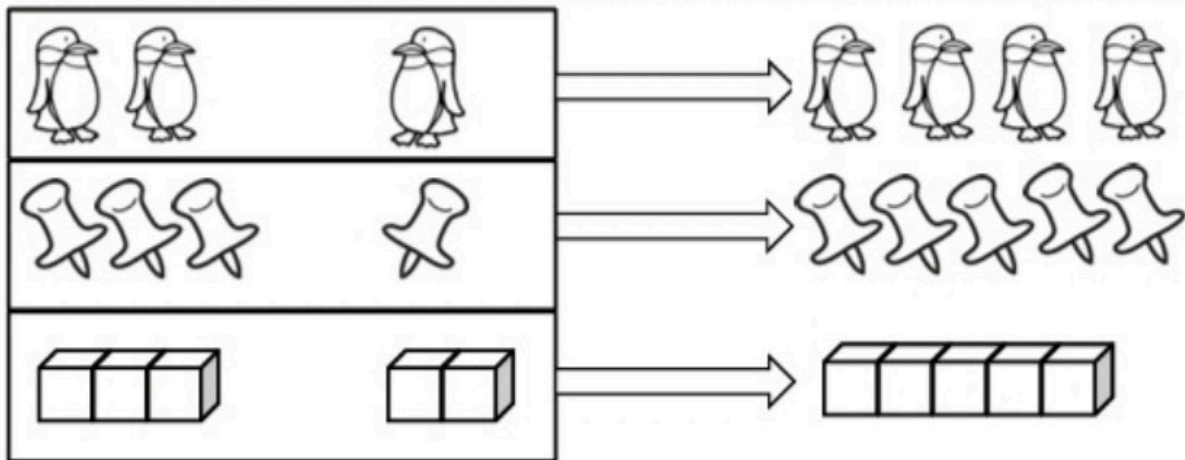
تم ۶

نام زیبای من:

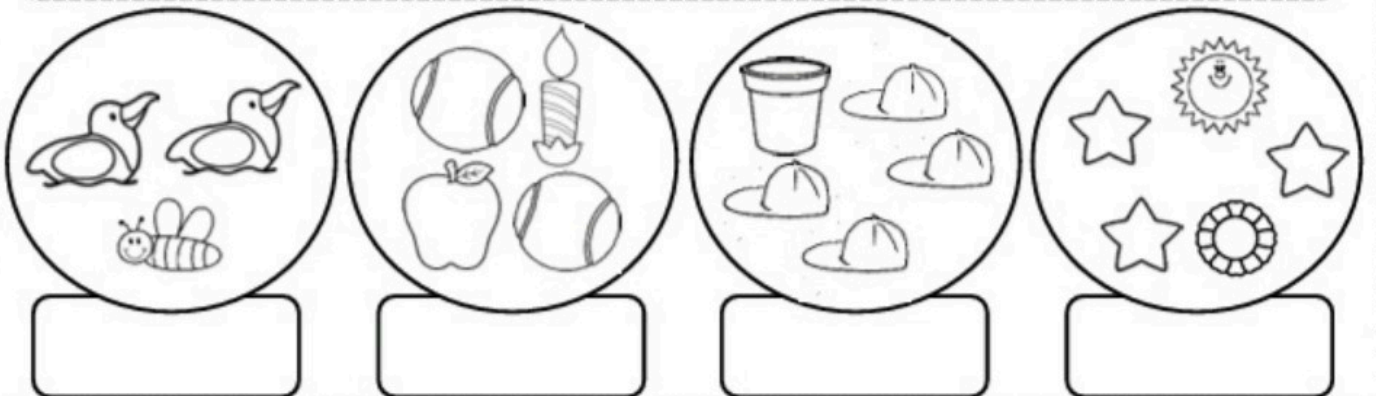
تاریخ:

www.mamplus.com

۱- شکل های سمت چپ را با دست چپ و شکل های سمت راست را با دست راست نشان بده. بعد انگشتان یک دست را به دست دیگر انتقال بده و به همان تعداد از شکل های خارج کادر رنگ بزن.




۲- تعداد شکل های هر دسته را با انگشت نشان بده. بعد به تعداد شکل های مثل هم از انگشتان خود ببند. چند تا می ماند؟ به تعداد باقی مانده چوب خط بکش.



۳- به تعداد گل ها از پروانه های سمت چپ رنگ بزن، بعد به تعداد پروانه های باقی مانده از پروانه های سمت راست رنگ کن.



به تصویر زیر دقت کن و برای آن یک داستان کوتاه بنویس .




.....

.....

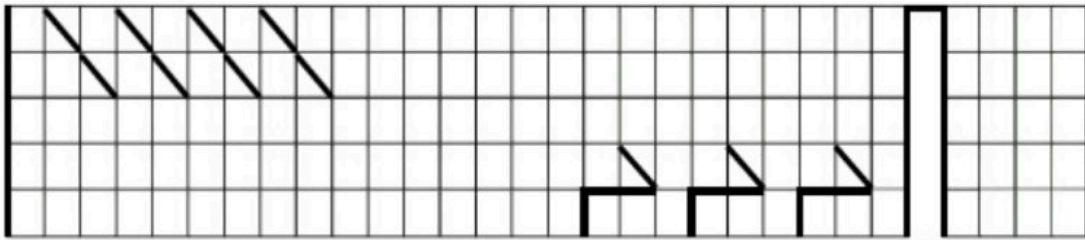
.....

www.mamplus.com

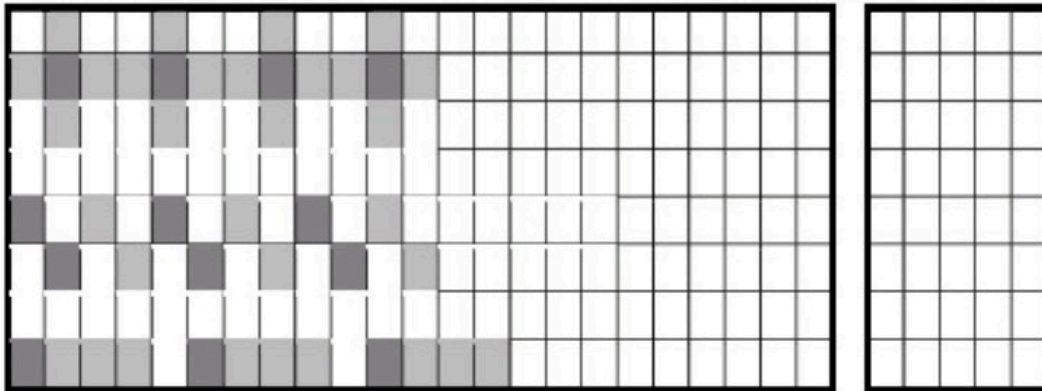
فرزند هنرمندم ، نیمه ی شکل زیر را با دقت کامل کن .



۴- در هر ردیف ابتدا الگو را پیداکن و ادامه بده سپس درست راست الگویی را که پیدا کرده ای بکش.



۵- در هر ردیف ابتدا الگوی شطرنجی را پیداکن و ادامه بده. سپس درست راست الگویی را که پیدا کرده ای بکش.

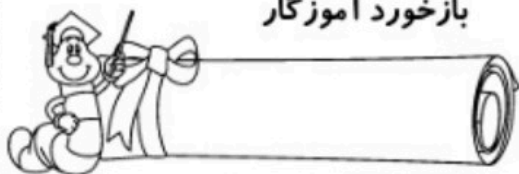


۶- لبه ی شابلون را روی خط وسط کادر بگذار و ۴ شکل شابلون را بالای کادر بکش. حالا بدون این که شابلون خود را برداری از همان خط وسط شابلون خود را برگردان و همان شکل ها را پایین کادر بکش.

www.mamplus.com



باز خورد آموزگار










خود سنجی




تعداد شکل های سمت چپ را با دست چپ و تعداد شکل های سمت راست را با دست راست نشان بده. این دو شکل روی هم چند تا هستند؟ به همان تعداد از پروانه ها رنگ کن.

www.mamplus.com



به تعداد چوب خط ها از شکل ها خط زده و به تعداد باقی مانده از دایره ها رنگ بزن.



www.mamplus.com

