



آزمون کلاس اول ابتدایی

فارسی


ریاضی

علوم

املا

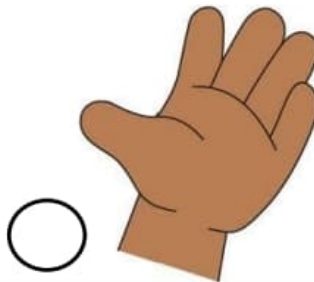
WWW.MAMPLUS.COM

۳- در مواقع خطر و زلزله کدام سازمان به کمک می آید؟



۴- مادر آزاده می خواهد برای آزاده یک پارچه ی نرم بخرد . او زبری و نرمی پارچه را با کدام عضو خود تشخیص

می دهد؟






۵- برای داشتن دندان و استخوان های سالم خوردن کدام یک لازم است؟



۶- کدام یک صدای هشدار دهنده دارد؟



۷- کدام جانور مهاجرت می کند؟



۵- جمله بنویس.

باران: -----

آزادی: -----

۶- مرتب کن.

دست - دارد - در - سامان - مداد -----

آزادی - دوست - ایرانی - را - دارد -----

۷- بخش و صدای هر کلمه را بنویس.

..... / / _ / / / _ /

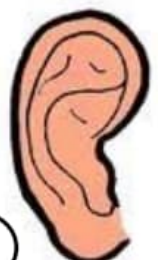
مدرسه / / /

..... / / /

بازی / /

علوم




۱- بوی سوختگی و آتش را با کدام عضو احساس می کنی؟



۲- صدای خبر دهنده را با کدام عضو احساس می کنی؟



۸- کدام جانور غذای خود را می بلعد؟




ریاضی

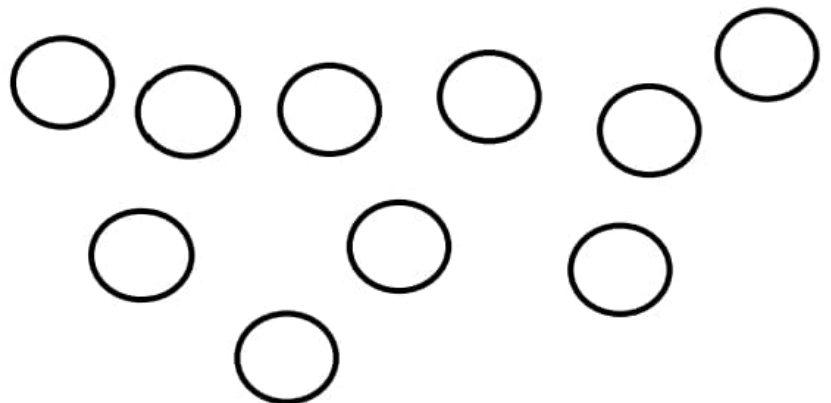
۱- سومین گل از سمت راست را رنگ کن.



۲- عدد مناسب هر شکل را بنویس.



۳- همان قدر که ستاره می بینی از گردی ها رنگ کن.

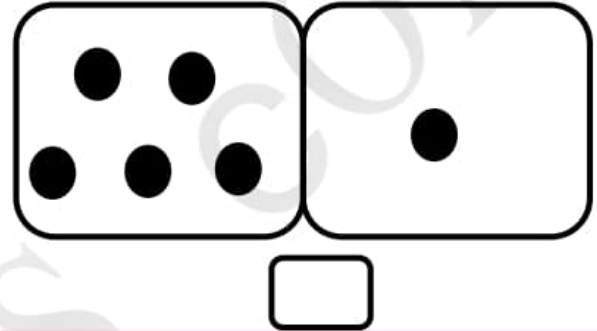
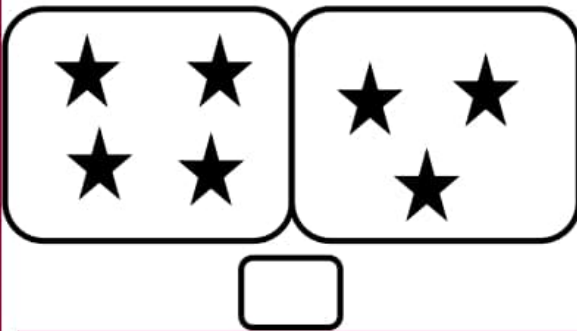


۴- در جای خالی عدد مناسب بنویس.

۰				۴			
---	--	--	--	---	--	--	--

۰		۲			۵		
---	--	---	--	--	---	--	--

۵- شکل های هر دو دسته روی هم چند تا می شود؟



۶- الگو را ادامه بده؟



۷- جدول را کامل کن.

	۴	۳	۲	۱
۴			۱	۲
		۱	۳	۴
۱	۲			۳

Handwriting practice lines consisting of ten sets of horizontal dashed lines for writing.

