




پیک آدینه
هفته دوم آبان

پایه چهارم ابتدایی

WWW.MAMPLUS.COM



۱ - کلمه ی سَمَوات - عِنْدَه هَنگام وقف چگونه می خوانیم ؟

۲ - کلمه ی مسجد در زبان عربی به چه معناست ؟

۳ - نام اولین سوره ای که بر پیامبر (ص) نازل شده است را بنویسید .

۴ - اولین مسجدی که پیامبر اسلام (ص) و یارانش ساختند چه نام دارد ؟ و در کجاست ؟

۵ - مهمترین مساجد مسلمانان را نام ببرید .

۶ - عبارت قرآنی زیر را بخوانید و معنی آن را بنویسید .

« خذوا زیتکم عند کل مسجد »



فارسی

۷ - کلمه های زیر را با حروف مناسب کامل کنید .

او.....ات تلخی

سس..... ال

قق.....؟

برخ.....ست

۸ - واژه های زیر را معنی کنید.

اثاث:

اساس:

خوار:

خار:

ثواب:

صواب:

۹ - برای کلمه های زیر یک هم خانواده بنویسید، و با آن یک جمله بسازید.

ارث:

هوشیار:

۱۰ - در پایان هر جمله کدام علامت « ؟ ! » قرار می گیرد؟

الف) علف های سست راست جاده خورده شده بود.

ب) چطور نشانی هایش را دادی.....

ج) چه پسر باهوش و دانایی

د) الاغ را به درخت بست



ریاضی

۱۱ - جاهای خالی را کامل کنید .

الف) در عدد $7\frac{2}{6}$ به ۷ و به $\frac{2}{6}$ می گویند .

۱۲ - کسرهای $\frac{3}{6}$ و $\frac{1}{6}$ را روی شکل نشان دهید و با هم مقایسه کنید .

$$\frac{1}{6} \quad \frac{3}{6}$$

۱۳ - جمله های درست را با ✓ و نادرست را با ✗ مشخص کنید.

الف) ربع ۴۸ بزرگتر از ثلث ۲۷

ب) ۶ تا $\frac{1}{9}$ برابر است با $\frac{2}{3}$



۱۴ - عددها را روی محور نشان دهید.

$\frac{1}{4}$ واحد مانده به عدد ۵

$\frac{3}{4}$ واحد بعد از عدد ۶

۱۵ - برای عدد مخلوط $3\frac{4}{8}$ شکل بکشید.

۱۶ - کسرها و عددهای مخلوطی را که هر محور نشان میدهد بنویسید.



علوم


۱۸ - برای انجام دادن کارهای مختلف به چه چیزهایی نیاز داریم؟

۱۹ - کاربرد انرژی آب جاری را نام ببرید؟

۲۰ - انرژی حرکتی چیست؟ دو نمونه مثال بزنید؟

۲۱ - جدول زیر را کامل کنید.

نام جسم یا وسیله	صورتی از انرژی که در آن وجود دارد
بخاری روشن	
جارو برقی روشن	
کوبیدن بر طبل	
بادبادک کاغذی	
آسیاب آبی	



۲۲ - نقشه چگونه تهیه می شود؟

۲۳ - به معنی هر رنگ یا هر نشانه که در پایین نقشه نوشته می شود می گویند؟

۲۴ - نقشه به ما چه کمکی می کند؟

۲۵ - جدول بودجه چند ستون دارد؟

یک جدول بودجه رسم کنید.