


آزمون ریاضے مہر ماہ

پایہ چہارم ابتدایے



WWW.MAMPLUS.COM

طراح: سنہ نجفے

۳۵۴۰۸۹۲۶۵

۱. با توجه به عدد مقابل ، به سوالات زیر پاسخ دهید .

الف) این عدد را به حروف بنویسید.

ب) ارزش مکانی رقم ۸ چیست؟

ج) مجموع رقم های طبقه ی میلیون چیست؟

د) اگر یک واحد به مرتبه ی دهگان هزار اضافه کنیم ، این عدد چه مقدار بیش تر می شود؟

۲. عدد زیر را به صورت گسترده بنویسید.

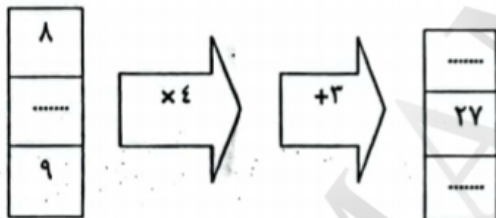
۸۰۶۶۵۴ →

۳. به دو عدد زیر توجه کنید:

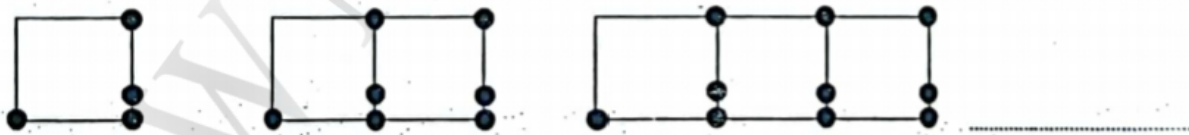
نهصد و شش هزار و ششصد و پنجاه و پنج - نهصد و شش هزار و پانصد و پنجاه و پنج

کوچک ترین عدد: بزرگ ترین عدد: اختلاف دو عدد:

۴. جاهای خالی را با عدد مناسب پر کنید



۵. در الگوی زیر ، شکل ششم از چند چوب کبریت ساخته شده است؟



۶. هر یک از عدد های داده شده به کدام عدد نزدیک ترند؟ علامت بزنید.

۶۵۹۰۰۰ ← ۶۵۹۹۴۵ → ۶۶۰۰۰۰

۷۸۰ ← ۷۸۴ → ۷۹۰

۷. در جای خالی عدد مناسب قرار دهید.

الف) محیط مثلث متساوی الاضلاعی به طول ۷ سانتی متر سانتی متر است.

ب) علیرضا سه شکلات دارد، محمد رضا از ۵ برابر شکلات های علیرضا، ۶ تا بیش تر دارد. تعداد شکلات های محمدرضا است.

ج) ۴ تا صد هزار تایی + ۵ تا ده هزار تایی + ۶ تا هزار تایی + ۹ تا یکی، می شود.

د) کوچک ترین عدد ۵ رقمی (بدون تکرار ارقام) با رقم های (۰ و ۲ و ۷ و ۳ و ۵) است.

۸. برای جمع $۲۸۰ + ۷۳۰$ یک مسئله بسازید و حاصل جمع را بدست آورید.

۹. حاصل جمع و تفریق های زیر را بدست آورید.

$$\begin{array}{r} ۸۹۶۰۰۰ \\ - ۳۲۱۲۴ \\ \hline \end{array} \qquad \begin{array}{r} ۷۴۵۲۳۲ \\ + ۳۸۲۰۵۸ \\ \hline \end{array}$$

۱۰. الگوی عددی رو به رو را ادامه دهید.

..... و و ۱۲ و ۹ و ۶ و ۳

..... و و ۸ و ۵ و ۳ و ۲