

کاربرگ و آزمون فصل ۵
به همراه خلاصه فصل
ریاضی دوم دبستان

www.mamplus.com





آفریدگار، مهربان همراه من است

کار برگ ۱

درس: ریاضی

عنوان درس: فصل ۵، اندازه گیری


پایه: دوم

مفهوم: اندازه گیری با وسایل مختلف / رسم شکل با توجه به اندازه ی داده شده / مجهول یابی / ساعت (زمان بعد)، (صفحه ی ۷۴ و ۷۵)

نام دانش آموز:

تاریخ: / /

۱- جاهای خالی را با عدد مناسب کامل کن.

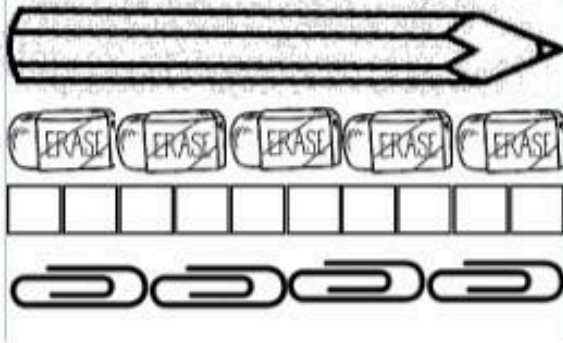


طول مداد بین مستطیل و مستطیل است.

یعنی از مستطیل پیش تر است ولی به مستطیل نمی رسد.

www.mamplus.com

۲- اندازه ی طول این مداد را که با وسایل مختلف اندازه گیری شده است؛ بنویس.



طول مداد پاک کن است.

طول مداد چینه است.

طول مداد گیره است.

۳- با توجه به عددهایی که در پایین داده شده، یک خط رسم کن.

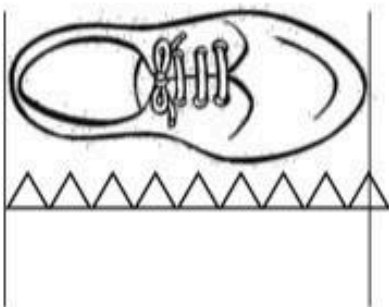


اندازه ی خط ۴ قسمت بزرگ و ۷ قسمت کوچک است.

۴- جاهای خالی را با عدد مناسب کامل کن.

طول کفش بین مثلث و مثلث است.

یعنی از مثلث پیش تر است ولی به مثلث نمی رسد.






۵- با توجه به زمان داده شده برای ساعت‌های زیر عقربه بکش.



۰۹ : ۱۵

۳۰ دقیقه بعد



..... :



۱۱ : ۱۰

۲۰ دقیقه بعد



..... :



آفریدگار مهربان همراه من است

کاربرگ ۲

درس: ریاضی

عنوان درس: فصل ۵، اندازه‌گیری

پایه: دوم

مفهوم: اندازه‌گیری وسایل با واحدهای مختلف، ساعت زمان بعد، (صفحه‌ی ۷۶)

نام دانش آموز:

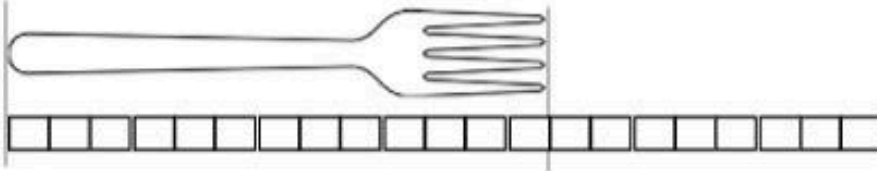
تاریخ:

www.mamplus.com


۱- اندازه‌ی هر شکل را با کامل کردن جاهای خالی مشخص کن.



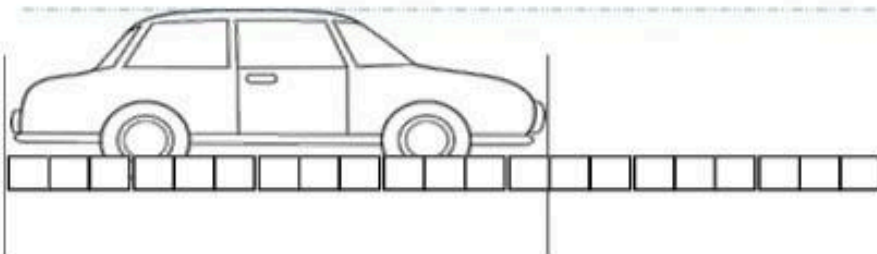
اندازه‌ی طول مداد و است.



اندازه‌ی طول چنگال و است.



اندازه‌ی طول میخ و است.



اندازه‌ی طول ماشین و است.



۲- زنگ مدرسه ساعت ۷:۳۰ دقیقه زده می‌شود. بعد از یک ربع معلم کار خود را شروع می‌کند. معلم چه ساعتی کار خود را شروع می‌کند؟

زمان خوردن زنگ مدرسه



..... :

یک ربع بعد

زمان شروع کار معلم



..... :

www.mamplus.com

۳- با توجه به زمان داده شده برای ساعت‌های زیر عقربه بکش.



۲۵ دقیقه بعد



نیم ساعت بعد





کار برگ ۳

درس: ریاضی

عنوان درس: فصل ۵، اندازه گیری


پایه: دوم

مفهوم: اندازه گیری نقطه های مشخص شده. تقسیم بندی واحدهای بزرگ به واحدهای کوچک تر. انتخاب واحد اندازه گیری دقیق تر (صفحه های ۷۷ و ۷۸ و ۷۹)

نام دانش آموز:

تاریخ: / /

۱- اندازه ی هر خط را مشخص کن.



اندازه ی طول خط ۱ قسمت بزرگ و قسمت کوچک است.

اندازه ی طول خط ۱ قسمت کوچک است.

اندازه ی طول خط ۲ قسمت بزرگ و قسمت کوچک است.

اندازه ی طول خط ۲ قسمت کوچک است.

www.mamplus.com

۲- در خط زیر هر قسمت بزرگ را به ۱۰ قسمت کوچک تقسیم کرده و خط های خواسته شده را روی آن رسم کن.



خط سبز ۱ قسمت بزرگ و ۷ قسمت کوچک است.

خط آبی ۳۴ قسمت کوچک است.

* چرا اندازه گیری با این نوار خیلی خوب و دقیق است؟

.....

۳- در کدام یک از نوارهای زیر اندازه گیری دقیق تر است؟ نوار شماره ی

چرا؟

.....



www.mamplus.com



نوار شماره ۱



نوار شماره ۲



آفریدگار، مهربان همراه من است

کار برگ ۴

پایه: دوم

عنوان درس: فصل ۵، اندازه‌گیری

درس: ریاضی

مفهوم: حل مسئله، جدول شگفت انگیز، ساعت، (صفحه‌ی ۸۰ و ۸۱)

تاریخ: / /

نام دانش آموز:

۱- در جای خالی عدد مناسب بنویس.

$$30 + \square = 52$$

$$64 - \square = 23$$

$$\square - 18 = 77$$

www.mamplus.com

۲- با کشیدن عقربه‌های هر ساعت مسئله را حل کن.

امروز صبح سحر ۱۵ دقیقه بعد از ساعت ۷ به سمت مدرسه حرکت کرد.



۳۰ دقیقه بعد به مدرسه رسید.



بعد از ۴۵ دقیقه زنگ تفریح به صدا در آمد.





۳- جدول شگفت انگیز زیر را کامل کن.

۵	۱		۳	۲	۶
۶	۳			۴	۵
۴		۳	۵	۱	
۱		۵	۴	۶	۳
۲	۵	۱	۶		۴
۳	۴		۲	۵	۱

www.mamplus.com



آفریدگار، مهربان همراه من است

کار برگ ۵

درس: ریاضی

عنوان درس: فصل ۵، اندازه گیری

پایه: دوم

مفهوم: اندازه گیری با خط کش - رسم خط با خط کش - اندازه گیری با خط کش - آشنایی با واحد متغیر در سانتی متر (صفحه‌ی ۸۲ و ۸۳ و ۸۴)

نام دانش آموز:

www.mamplus.com

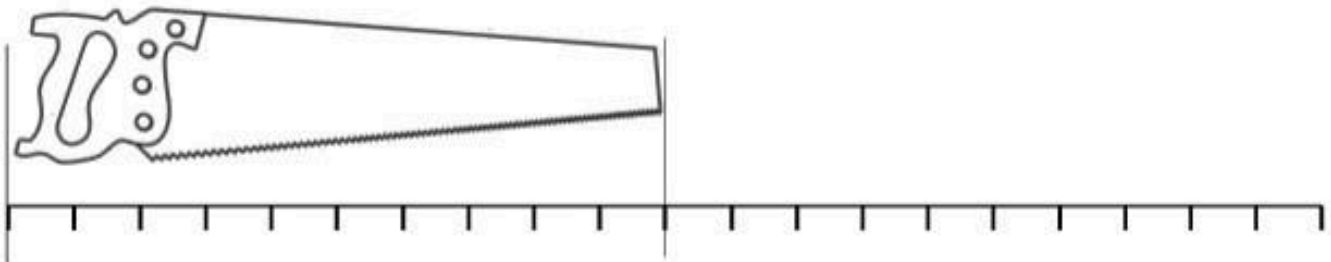
تاریخ: / /

۱- طول هر شکل چند سانتی متر است؟

طول قاشق سانتی متر است.



طول آره سانتی متر است.



۲- با مداد قرمز یک خط به طول ۱۳ سانتی متر و با مداد آبی یک خط به طول ۷ سانتی متر بکش. اندازه ی طول کدام خط بیش تر است؟

۳- طول خط های زیر را با خط کش اندازه بگیر و اندازه ی هر کدام را بنویس.






۴- کامل کن.

اندازه ی فلفل سبز بین و سانتی متر است.

اندازه ی فلفل سبز از سانتی متر بیش تر و از سانتی متر کمتر است.



اندازه ی ماژیک از سانتی متر بیش تر و از سانتی متر کمتر است.

