



کاربرگ و  
آزمون فصل  
دوم ریاضی  
سوم دبستان  
به همراه  
روش تدریس

[www.mamplus.com](http://www.mamplus.com)

۷. حاصل جمع و تفریق های زیر را بدست آورید.

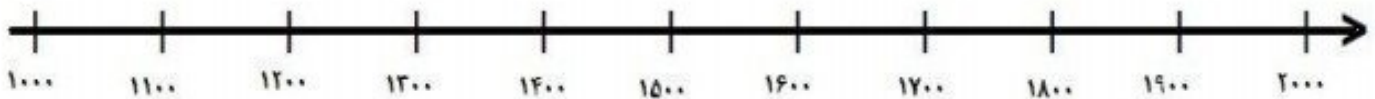
$$1000 + 1000 + 100 + 100 + 100 + 10 + 1 + 1 = \dots\dots\dots$$

$$3000 + 2000 + 100 + 300 + 50 = \dots\dots\dots$$

$$9000 - 2000 = \dots\dots\dots$$



۸. عدد های ۱۰۷۰، ۱۷۵۰، ۱۴۳۰، ۱۲۹۰ را به طور تقریبی بر روی محور نشان بده.



۹. در جای خالی علامت  $\langle = \rangle$  بگذار.

$$6000 - 3000 \quad \bigcirc \quad 2000 + 1000 + 800 + 700$$

$$5000 + 2000 + 400 + 900 \quad \bigcirc \quad 5400$$

۱۰. امید ورزشکار است. او هر روز فاصله ی خانه تا محل کار خور را پیاده می رود. فاصله خانه تا محل کارش ۲ کیلو متر است.

او در یک رفت و برگشت چند متر راه می رود؟

۱۱. در جای خالی عدد مناسب بنویسید.

۳۴۰۰ سانتی متر برابر است با .....متر و .....سانتی متر.

۴۰۰۰ متر یعنی ..... کیلو متر .

۳ کیلو گرم و ۷۰۰ گرم برابر است با .....گرم.

ارزیابی معلم:

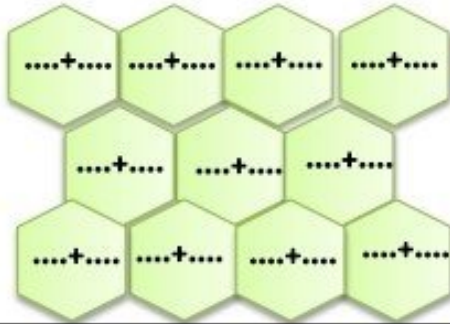






آزمون مداد کاغذی ریاضی فصل دو

نام و نام خانوادگی:

۱. جمع های عدد ۱۰ را بنویسید.



۲. با توجه به شکل در جای خالی عدد و کلمه مناسب بنویس.



هزارگان	صدگان	دهگان	یکان
.....	.....	.....	.....

به عدد .....

به حروف .....

www.mamplus.com

۳. الگوهای زیر را ادامه دهید.

۲۶۰۰-۲۸۰۰-۳۰۰۰-.....-.....-.....-.....

.....-.....-.....-.....-۶۰۰۰-۶۵۰۰-۷۰۰۰

۲۵۰۰-۳۵۰۰-۴۵۰۰-.....-.....-.....-.....

۴. اعداد داخل جدول را به عدد و حروف بنویس.

۵۰۰۱		۹۵۰۰
	دو هزار و سی و چهار	

۵. عدد های زیر را به صورت گسترده (باز شده) بنویس.  $۴۵۰۷ = \dots\dots\dots$

$۹۶۸۳ = \dots\dots\dots$

۶. زهرا یک خط کش به قیمت ۲۲۰ تومان و یک پاکن به قیمت ۴۲۵ تومان خرید. او یک اسکناس ۱۰۰۰ تومانی به فروشنده داد. فروشنده چند ریال به زهرا پس داد؟



آموزشگاه: باقر العلوم

نام و نام خانوادگی: .....

آزمون ریاضی کلاس سوم

تاریخ: ۹۵/۰۹/۰۶

فصل ۱ و ۲

آموزگار: رفیعی

۱- جاهای خالی را کامل کن.

الف - ۹ کیلومتر چند متر است ؟ .....

ب- ۴۲۰ سانتی متر برابر است با .....متر و .....سانتی متر.

ج- ۲۷۰۰ گرم یعنی ..... کیلوگرم و .....گرم.

د- ۵۰۰۰ ریال برابر است با .....تومان.

۲- اعداد زیر را با حروف و بارقم بنویس.

۳۵۷۶	۱۹۰۵	دوهزار و هشتصد و سی و یک	هفت هزار و سیزده
.....	.....	.....	.....

www.mamplus.com

۳- الگوهای شمارش چندتا چندتا را ادامه بده.

..... و ..... و ..... و ۲۸ و ۲۱ و ۱۴ و ۷

..... و ..... و ..... و ۱۶۰۰ و ۱۴۰۰ و ۱۲۰۰ و ۱۰۰۰

۴- عددهای زیر را به صورت گسترده بنویس.

۱۲۴۳ =

۳۰۶۰ =

۶۰۰۶ =

۵۹۸ =

۵- بزرگترین عدد چهاررقمی و کوچکترین عدد سه رقمی را بنویس و سپس اختلاف بین آنها را پیدا کن.


بزرگترین عدد چهاررقمی ←  کوچکترین عدد سه رقمی ←

اختلاف بین دو عدد ←

۶- یک دلار کشور شکرستان ۱۲۰۰ تومان است. ۳ تومان این کشور چند تومان می شود؟

۷- فاصله ی یک روستا تا شهر ۲۸ کیلومتر و فاصله ی آن شهر تا ارومیه ۱۳۰ کیلومتر است. فاصله ی این روستا تا ارومیه چند کیلومتر است؟

۸- خط تقارن شکل های زیر را رسم کن.



۹- جدول مربوط به زمان ها را کامل کن.

.....	.....	۱۹:۲۵	۱۶	زمان
۸:۱۵	۲	.....	.....	بعد از ظهر

www.mamplus.com

**موفق و سربلند باشی**

نیاز به تلاش بیشتر	قابل قبول	خوب	خیلی خوب	😊😊😊😊😊😊😊😊😊😊
				باتبدیل واحدهای مختلف آشنایی دارد
				اعداد را با حروف و بارقم می نویسد
				الگوهای شمارش چند تا چند تا را می نویسد
				بانحوه ی گسترده نویسی اعداد آشناست
				بزرگترین و کوچکترین اعداد سه و چهار رقمی را می داند
				بامفهوم ریال و تومان آشنایی دارد
				با استفاده از الگوسازی مسئله را حل می کند
				خط تقارن شکل های مختلف را رسم می کند
				بامفهوم زمان در بعد از ظهر آشنایی دارد
				نتیجه ی نهایی

محل امضا

.....

← نظر اولیای محترم :

## تمرین‌های ریاضی ویژه‌ی آمادگی برای آزمون ۳۰ آذر



صفحه‌های ۳۴ تا ۶۶

- ۱ - مریم دو اسکناس ۱۰۰۰ تومانی، یک اسکناس ۱۰۰۰ ریالی، ۵ سکه‌ی ۱۰ تومانی و ۲ سکه‌ی ۱ تومانی دارد. نازنین سه اسکناس ۱۰۰۰ تومانی، دو اسکناس ۱۰۰۰ ریالی، ۴ سکه‌ی ۱۰ تومانی و ۷ سکه‌ی ۱ تومانی دارد. مریم و نازنین روی هم چند ریال پول دارند؟

۵۳۹۹ (۴)

۵۳۹۹۰ (۳)

۸۹۹ (۲)

۸۰۹۹ (۱)

- ۲ - عددهای موجود در کدام گزینه، بر اساس یک الگوی مشخص نوشته نشده‌اند؟

۲۵۰۰ - ۳۰۰۰ - ۳۵۰۰ - ۴۰۰۰ - ۴۵۰۰ (۱)

۴۰۷۱ - ۴۰۸۱ - ۴۰۹۱ - ۴۱۰۱ (۲)

۱۱۵۰ - ۱۲۰۰ - ۱۲۵۰ - ۱۳۵۰ - ۱۴۰۰ (۳)

۳۰۰۴ - ۳۰۰۶ - ۳۰۰۸ - ۳۰۱۰ - ۳۰۱۲ (۴)

- ۳ - پدر محمّد ۱۲۰۰ گرم پرتقال، ۱ کیلو و ۳۵۰ گرم سیب و ۲ کیلو و ۴۰۰ گرم انار می‌خرد. او به صورت تقریبی چند کیلوگرم میوه خریده است؟

۵ (۴)

۴ (۳)

۵۰۰۰ (۲)

۴۹۵۰ (۱)

- ۴ - کوچک‌ترین عدد چهار رقمی را که یکان و صدگان آن عدد ۴ و مجموع رقم‌های آن ۱۰ باشد، کدام است؟

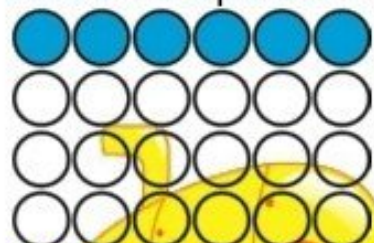
۲۴۱۴ (۴)

۱۴۱۴ (۳)

۲۴۰۴ (۲)

۱۴۰۴ (۱)

www.mamplus.com




$\frac{2}{6}$  (۲)

$\frac{3}{12}$  (۴)

- ۵ - شکل زیر کدام کسر را نشان نمی‌دهد؟

$\frac{6}{24}$  (۱)

$\frac{1}{4}$  (۳)



# پاسخ تمرین‌های ریاضی آمادگی برای آزمون ۳۰ آذر



## پاسخ‌های تشریحی ریاضی

۱ - گزینه‌ی ۳، - (صفحه‌های ۳۴ و ۳۵ کتاب درسی)

- ۵۰۰۰ تومان  $\rightarrow 2+3=5$  : مجموع اسکناس‌های ۱۰۰۰ تومانی مریم و  
 ۳۰۰ تومان  $\rightarrow 1+2=3$  : مجموع اسکناس‌های ۱۰۰۰ اریالی مریم و نازنین  
 ۹۰ تومان  $\rightarrow 5+4=9$  : مجموع سکه‌های ۱۰ تومانی مریم و نازنین  
 ۹ تومان  $\rightarrow 2+7=9$  : مجموع سکه‌های ۱ تومانی مریم و نازنین  
 ریال ۵۳۹۹۰ = تومان ۵۳۹۹ = ۵۰۰۰ + ۳۰۰ + ۹۰ + ۹ : پول مریم و نازنین روی هم

۲ - گزینه‌ی ۳، - (صفحه‌ی ۳۶ کتاب درسی)

$$\begin{array}{r} 130 \\ 1150 - 1200 - 1250 - 1350 - 1350 \\ \hline +50 \quad +50 \quad +50 \end{array}$$

۱ - با توجه به گزینه‌ی ۳، داریم:

- در گزینه‌ی ۱، عددها ۵۰۰ تا ۵۰۰ تا جلو می‌آیند.  
 در گزینه‌ی ۲، عددها ۱۰ تا ۱۰ تا جلو می‌آیند.  
 در گزینه‌ی ۴، عددها ۲ تا ۲ تا جلو می‌آیند.

۳ - گزینه‌ی ۴، - (صفحه‌های ۳۹ تا ۴۱ کتاب درسی)

- ۱ کیلو و ۳۵۰ گرم : می‌دانیم ۱ کیلو ۱۰۰۰ گرم است. بنابراین پدر محمد ۱۳۵۰ (۱۰۰۰ + ۳۵۰) گرم سیب و  
 ۲۴۰۰ (۲۰۰۰ + ۴۰۰ = ۲۴۰۰) گرم انار خریده است.  
 حالا حساب می‌کنیم در مجموع چند گرم میوه خریده است:  

$$\begin{array}{r} 1200 \\ + 1350 \\ + 2400 \\ \hline 4950 \end{array}$$

۴۹۵۰ گرم تقریباً ۵۰۰۰ گرم است و چون هر هزار گرم، ۱ کیلوگرم است. بنابراین ۵۰۰۰ گرم، ۵ کیلوگرم است.

۴ - گزینه‌ی ۳، - (صفحه‌ی ۴۱ کتاب درسی)



یکی	ده تایی	صد تایی	هزار تایی
۴		۴	

$$\square + 4 + \square + 4 = 10$$

به جای مربع‌ها، باید اعدادی قرار داد که کوچک‌ترین عدد

چهار رقمی با مجموع ارقام ۱۰ حاصل شود. بنابراین در  $\square + 4 + \square + 4 = 10$  هر یک از مربع‌ها باید عدد یک را قرار داد و عدد حاصل ۱۴۱۴ می‌باشد.

www.mamplus.com



## تمرین‌های ریاضی ویژه‌ی آمادگی برای آزمون ۳۰ آذر



۹- در کدام گزینه، مقایسه نادرست انجام شده است؟

$$\frac{8}{19} > \frac{3}{19} \quad (۴)$$

$$\frac{5}{15} < \frac{4}{15} \quad (۳)$$

$$\frac{9}{17} > \frac{8}{17} \quad (۲)$$

$$\frac{2}{3} > \frac{1}{3} \quad (۱)$$


۱۰- اگر به هر مربع یک کاشی گوئیم، در این صورت تعداد مربع‌های کدام گزینه با بقیه متفاوت است؟

(۲) سه دسته کاشی ۶ تایی

(۱) دو دسته کاشی ۹ تایی

(۴) شش دسته کاشی ۳ تایی

(۳) چهار دسته کاشی ۳ تایی





## بسمه تعالی

دستان:

کلاس:

نام و نام خانوادگی:

آزمون ریاضی سوم ابتدایی

(فصل ۲)

تاریخ:

مدت آزمون:

**سوال ۱:** در برنامه‌ی صبحگاهی یک مدرسه دانش‌آموزان در صف‌های ده نفری ایستاده‌اند. ۱۰ صف ۱۰ نفره درست شده است و در کنار آن‌ها نیز ۷ نفر ایستاده‌اند چند دانش‌آموز در صف ایستاده‌اند؟

**سوال ۲:** با این اشکال ابتدا جدول ارزش مکانی را کامل کنید سپس آن را با عدد و با حروف بنویسید.



www.mamplus.com



**سوال ۳:** بازشده‌ی هر عدد را بنویسید.

۷۱۱۰ -

۸۲۰۵ -

۴۰۲۵ -

**سوال ۴:** یک دلار کشور شکرستان به اندازه‌ی ۱۰۰۰ تومان ارزش دارد ۴ دلار این کشور ارزش بیشتری دارد یا ۲۵۲۸ تومان؟ چرا؟

**سوال ۵:** با توجه به محور عددهای داده شده را به صورت تقریبی نشان دهید؟



**بسمه تعالی**

دبستان:

کلاس:

نام و نام خانوادگی:

آزمون ریاضی سوم ابتدایی

(فصل ۲)

تاریخ:

مدت آزمون:

www.mamplus.com

سوال ۶: الف) یک کیلومتر چند تا ۱۰ متر است ؟ .....

ب) ۴۰۰۰ متر چند کیلومتر است ؟ .....

ج) ۲۲۵ ساعته متر ..... متر و ..... ساعته متر است .

د) ۲۷۰۰ گرم یعنی ..... کیلوگرم و ..... گرم است .

سوال ۷: واحد مناسب را بنویسید .

الف) جرم یک کتاب ۱۲۷ ..... است .

ب) جرم یک هندوانه ۶ ..... و ۳۵۰ ..... است .

ج) جرم یک خربزه به طور تقریبی ۵ ..... است .

سوال ۸: الف) ۷۰۰۰ ریال چند تومان است؟

ب) ۸۰۰ تومان چند ریال است؟

بسمه تعالی

پاسخنامه

آزمون ریاضی سوم ابتدایی

(فصل ۲)

[www.mamplus.com](http://www.mamplus.com)

سوال ۱:  $10 + 10 + 10 + 10 + 10 + 10 + 10 + 10 + 10 + 10 + 7 - 107$

سوال ۲: شکل سکه‌ها : به عدد : ۲۱۳۴ به حروف : دوهزار و صد و سی و چهار

شکل مکعب‌ها : به عدد : ۱۲۲۷ به حروف : هزار و سیصد و بیست و هفت

سوال ۳:

$7110 - 7000 + 100 + 10$                        $8205 - 8000 + 200 + 5$

$4025 - 4000 + 20 + 5$

سوال ۴: ۴ دلار کشور شکرستان  $1000 + 1000 + 100 + 1000 - 4000$

$4000 > 3528$

سوال ۵:

سوال ۶: الف) ۱۰ تا                      ب) ۴ کیلومتر                      ج) ۲ متر و ۲۵۰ سانتی متر                      د) ۲ کیلوگرم و ۷۰۰ گرم

سوال ۷: الف) گرم                      ب) کیلو و گرم                      ج) کیلوگرم

سوال ۸: الف) ۷۰۰ تومان                      ب) ۸۰۰۰ ریال

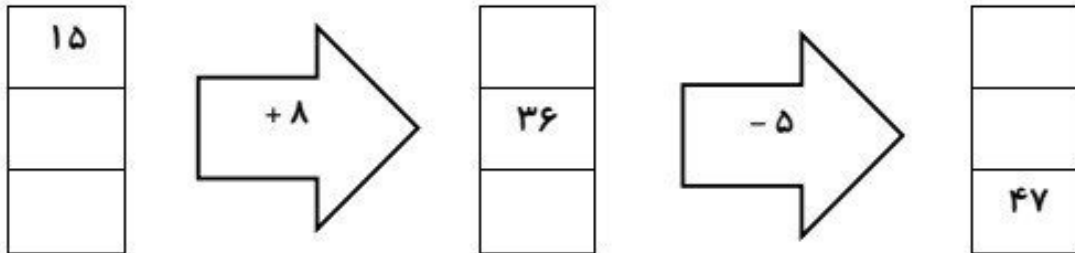
نام و نام خانوادگی:  
پایه: سوم



مورخه: / /  
کلاس:  
ریاضی

دبستان غیر دولتی فرهنگ

۱- در جای خالی عدد مناسب بنویسید.



www.mamplus.com

۲- الگوهای زیر را ادامه دهید.

..... - ..... - ..... - ۲۳۰۰ - ۲۲۰۰ - ۲۱۰۰

..... - ..... - ..... - ۳۱ - ۲۷ - ۲۵

..... - ..... - ..... - ۱۹۸ - ۱۹۴ - ۱۹۰

۳- ساعت سه و ربع بهد از ظهر یعنی ..... ساعت ۱۶:۳۰ یعنی ساعت ..... بهد از ظهر

۴- هر کدام را به واحد اندازه گیری مناسب وصل کنید.

بلندی ساختمان	ضخامت یک دفتر	فاصله تهران تا قم	طول مداد
کیلومتر	متر	میلی متر	سانتی متر

۵- اگر جرم یک هندوانه از ۴ کیلوگرم، ۳۵۰ گرم کمتر باشد، جرم آن چند گرم است؟

۶- سعید به مغازه رفت. او ۷ سکه ۱۰۰ ریالی و ۲ اسکناس هزار ریالی و ۲ سکه ۵۰ ریالی به فروشنده داد. او چند ریال خرید کرده است؟

۷- جاهای خالی را پر کنید.

۷ کیلوگرم ..... گرم است. ۵ کیلوگرم و ۳۰ گرم ..... گرم است.

۴۰۰۸ متر یعنی ..... کیلومتر و ..... متر

۸- جمع ها را انجام دهید.

$$۴۰۰ + ۱۰۰۰ + ۵۰ + ۲۰ + ۸ =$$

$$۸۰۰ + ۱۰ + ۱۰۰ + ۹ =$$

۹- یک دلار در کشور شورستان ۹۰۰ تومان ارزش دارد. ۴ دلار این کشور چند تومان ارزش دارد؟

www.mamplus.com

۱۰- عدد ۲۷۰۹ چند رقم دارد؟ .....

رقم صدگان چند است؟ .....

کدام عدد در بالاترین ارزش مکانی قرار دارد؟ .....

به حروف بنویسید: .....

۱۱- عدد داخل بیضی به کدام یک از اعداد زیر نزدیک تر است؟

۷۰۰۰	۷۶۹۰	۸۰۰۰	۲۰۰۰	۲۰۱۷	۳۰۰۰
------	------	------	------	------	------

۱۲- تمام اعداد سه رقمی را که یکان ۵ و ۰ و ۹، دهگان ۸ و ۳ و صدگان ۷ دارند را بنویسید.

بازخورد آموزگار:

بازخورد اولیا:

نام و نام خانوادگی:

تاریخ ... / ... / ...

ریاضی فصل دوم

دبستان:

مدت: ۵۰ دقیقه

۱- الگوهای عددی زیر را ادامه دهید

..... و ..... و ۵۰۰۰ و ۳۰۰۰

..... و ..... و ۹۹۵ و ۹۹۳ و ۹۹۱

..... و ..... و ۹۹۰ و ۹۸۵ و ۹۸۰

۲- به چند حالت می توان جمع دو عدد را نوشت که حاصل آن ها ۱۰ باشد؟

۳- جدول زیر را کامل کن

ردیف	عدد	حروف
۱	۳۲۰۵	
۲		پنج هزار و پنج

www.mamplus.com

۴- علی در سال ۱۳۸۹ به دنیا آمده است

الف) این عدد چند رقمی است

ب) با رسم شکل نشان بده

۵- با هزار تومن چه چیزهایی می توانیم بخریم؟

۶- یک عدد چهار رقمی بنویسد که رقم یکان آن ۵، رقم دهگان آن ۷، رقم صدگان ۰ و هزارگان آن بزرگ ترین عدد یک رقمی باشد.

۷- باز شده ی عدد زیر را بنویس

$$۱۰۲۵ =$$

۸- حاصل جمع های زیر را بدست آورید؟

$$۵۰۰۰ + ۲۰۰ + ۵ =$$

$$۸۰۰۰ + ۱۰ + ۳ =$$

۹- ۷۰۰ تومان چند ریال است؟

۸۰۰۰ ریال چند تومان است؟

۱۰- در کنار هر اندازه واحد مناسب آن را بنویسید

ب) قدر علی ۳۶..... است

الف) جرم یک کتاب ۲۷..... است

د) جرم یکی از دانش آموزان ۴۰..... است


ج) طول کلاس ما ۸..... است

۱۱- عدد داخل مربع به کدام عدد نزدیک تر است آن را رنگ بزنید

۴۰۰۰	←	۴۰۷۲	→	۵۰۰۰
۶۰۰۰	←	۶۰۷۰	→	۷۰۰۰
۷۰۰۰	←	۷۸۹۱	→	۸۰۰۰
۵۰۰۰	←	۵۴۲۰	→	۶۰۰۰

www.mamplus.com

موضوع	ارزشیابی	قبلی فوب	فوب	قابل قبول	نیاز به تلاش بیشتر
نوشتن به عدد و هروف اعداد چهار رقمی					
تبدیل تومان به ریال					
مقایسه اعداد چهار رقمی					
درک واحد های اندازه گیری					
رسم شکل برای اعداد چهار رقمی					

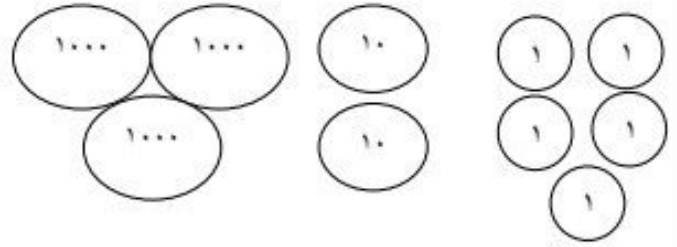
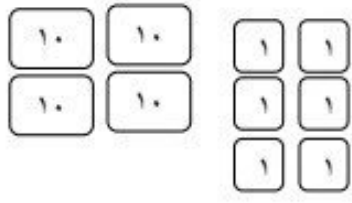


به نام خدا  
 دبستان دخترانه غیر دولتی الغریر  
 سال تحصیلی  
**دوره ی فصل دوم**



نام و نام خانوادگی: .....  
 کلاس شماره ۱۶

۱. عددی را که هر شکل نشان می دهد با رقم و حروف بنویسید .

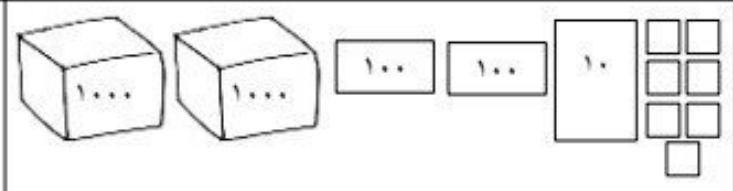
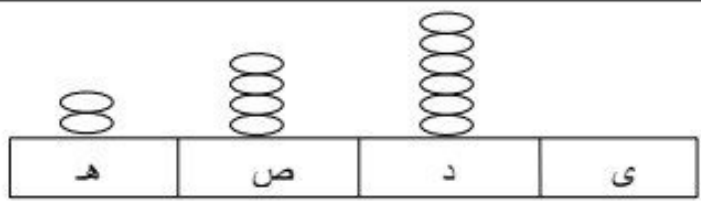


..... حروف: ۱۰۰

..... رقم: ۱۰

..... حروف: ۱۰۰۰

..... رقم: ۱



..... حروف: ی د ص ه

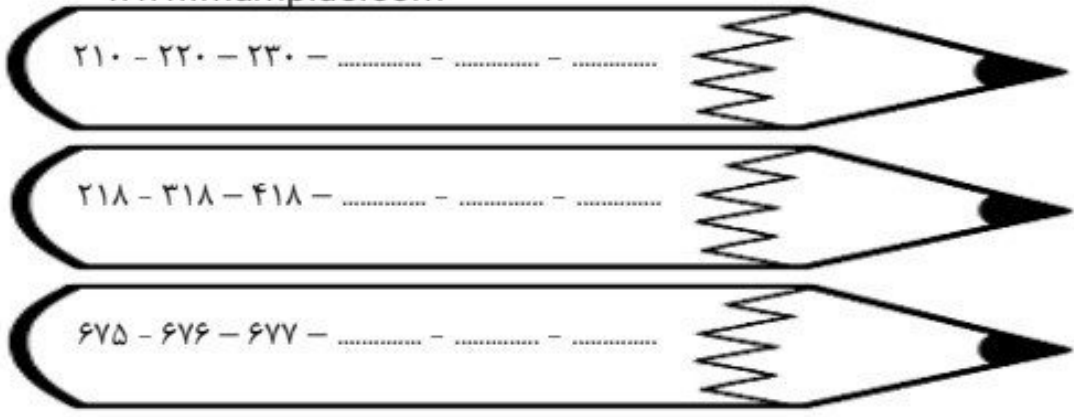
..... رقم: ۱۰۰۰

..... حروف: ۱۰۰

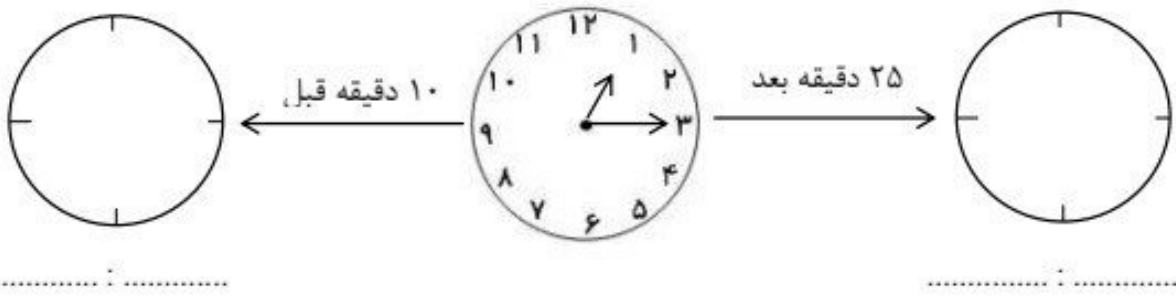
..... رقم: ۱۰

۲. الگوهای عددی زیر را ادامه دهید .

www.mamplus.com

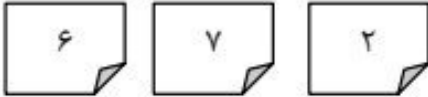


۳. زمانی که ساعت وسط نشان می دهد را بنویسید . سپس عقربه های دو ساعت دیگر را رسم کنید و زمانی که نشان می دهد را مشخص کنید.





۴. بارقم های نوشته شده روی این سه کارت، هر قدر می توانید، عددهای سه رقمی درست کنید و بنویسید .



۵. یک عدد سه رقمی بنویسید که یکان و دهگان آن ۴ باشد و از ۷۰۰ بیشتر باشد.  
آیا عدد دیگری هم با این مشخصات می توان نوشت ؟ (یک مثال بزنید).

۶. هما ۱۰۸ ریال داشت . با ۹۰ ریال آن یک آب نبات خرید . چند ریال برایش باقی مانده است ؟



۷. عرفان ۹۸ صفحه از یک کتاب را خوانده است . اگر ۱۸ صفحه ی دیگر بخواند کتاب تمام می شود .  
این کتاب چند صفحه دارد ؟



www.mamplus.com

۸. سحر ۸۷۴ ریال داشت. اگر ۲ سکه ی صد ریالی و یک ۵۰ ریالی را در صندوق صدقات بیندازد، چند ریال برایش باقی می ماند؟ ( با رسم شکل نشان دهید.)



۹. با حروف یا عدد بنویسید.

	۹۱۰		۷۰۹
پانصد و شش		صد و نوزده	

۱۰. حاصل جمع و تفریق های زیر را بنویسید .

$70 + 90 =$

$13 - 7 =$

$40 + 50 =$

$80 - 30 =$

$200 + 300 =$

$800 - 500 =$

۱۱. با سه رقم ۸ و ۵ و ۰ همه ی عددهای سه رقمی غیر تکراری را که می توانید، بنویسید .



\_\_\_\_\_

۱۲. چند عدد سه رقمی می توان نوشت که یکان آن ها ۵ و ۳ و ۷، دهگان آن ها ۶ و صدگان آن ۲ یا ۴ باشد ؟  
( عددها را بنویسید )

۱۳. امیرحسین ۵۰۰۰ تومان پول داشت . ۱۴۰۰ تومان آن را شامپو ، ۲۴۰۰ تومان دستمال کاغذی و ۴۰۰ تومان را هم آدامس خرید . او چند تومان خرج کرده است ؟ چند تومان برایش باقی مانده است ؟



www.mamplus.com

۱۴. ۳ کیلو و ۲۲۰ گرم یعنی .....

(د) ۲۲۰۳ گرم

(ج) ۲۳۲۰ گرم

(ب) ۳۲۲۰ گرم

(الف) ۳۲۰۰ گرم

۱۵. فرناز و گلناز روی هم هشت سیب دارند.

اگر فرناز دو سیب بیش تر از گلناز داشته باش، گلناز چند سیب دارد؟



(ب) ۵

(الف) ۳

(د) ۷

(ج) ۶

نام و نام خانوادگی : .....

برنام خداوند علم پدید آورنده  
مجمع آموزشی علم و زندگی

پایه : سوم

تاریخ :

## ریاضی



۱- عددی چهار رقمی هستم که یکانم کوچک ترین عدد یک رقمی است . و دهگانم بزرگ ترین عدد یک رقمی و صدگانم

دو تا بیش تر از یکان و هزارگانم ۴ تا کم تر از دهگان است . من چه عددی هستم ؟

۲ - در یک شهرستان ( ۴۴۲۱ ) دانش آموز ابتدایی و ( ۷۰۶۵ ) دانش آموز متوسطه درس می خوانند. با حذف رقم های

یکان ، دهگان و صدگان بنویسید این شهرستان به طور تقریبی چند دانش آموز دارد؟

[www.mamplus.com](http://www.mamplus.com)

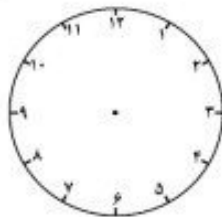
۳- دو چرخه سواری برای آمادگی و شرکت در مسابقات با خود قرار گذاشت ، روز اول ۳۰ دقیقه تمرین کند و هر روز که

می گذرد ۱۰ دقیقه به زمان تمرین اضافه کند . او در روز هفتم چند ساعت و چند دقیقه تمرین می کند ؟

۴- یک ساعت و ۲۵ دقیقه قبل از ساعت شکل شماره ۱ چه ساعتی است ؟ روی شکل شماره ۲ نشان دهید ؟



شکل (۱)



شکل (۲)