



آزمون و کاربرد ورودی اول - دوم دبستان

همراه با سر فصل های دروس اول

[www.mamplus.com](http://www.mamplus.com)

نام:	«به نام دانای هستی بخش» اداره کل آموزش و پرورش استان مازندران	سال تحصیلی:
نام خانوادگی:	اداره آموزش و پرورش ساری ناحیه دو	تاریخ:
پایه: دوم ابتدایی	نام آموزگار: نرگس اکبرنژاد	نوبت: سطح <input type="checkbox"/> کلاسی <input type="checkbox"/> اول <input type="checkbox"/> دوم <input type="checkbox"/>
نام درس:	زمان: ۶۰ دقیقه	

ردیف	ریاضی
۱	تعداد مربع های خاکستری چند تا بیشتر از تعداد مربع های سفید است ؟ الف ( ۸ ) ب ( ۶ ) پ ( ۹ ) ت ( ۷ )
۲	این سه پلیکان روی هم چند ماهی گرفته اند ؟ ۱-۳ تا ماهی گرفته ۲-۴ تا ماهی گرفته ۳-از شماره یک بیشتر و از شماره ۲ کمتر ماهی گرفته.
۳	کدام عدد مربوط به شکل مقابل است ؟ الف ( ۴۴ ) ب ( ۲۱ ) پ ( ۲۳ ) ت ( ۴۰ )
۴	کدام عدد کوچک تر از عدد های دیگر است ؟ الف ( ۷۸ ) ب ( ۸۷ ) پ ( ۹۷ ) ت ( ۷۹ )
۵	در جای خالی چه شکلی قرار میگیرد ؟ الف ( ب ) ب ( ب ) پ ( ب ) ت ( ب )
۶	با توجه به شکل کدام جدول ارزش مکانی درست است ؟ الف ( ب ) ب ( ب ) پ ( ب ) ت ( ب )
۷	در ..... کدام علامت را باید قرار داد ؟ الف ( + ) ب ( < ) پ ( > ) ت ( = )
۸	هر مرغ در هر روز یک تخم می گذارد . دو مرغ در ۶ روز چند تخم می گذارند ؟ روی محور نشان بده و جواب مورد نظر را انتخاب کن . الف ( ۱۰ ) ب ( ۶ ) پ ( ۱۲ ) ت ( ۹ )

۹	حمید ۲ بسته ی ده تایی و ۲ یکی مداد دارد. برادرش هم ۳ بسته ی ده تایی مداد دارد. آن ها روی هم چند مداد دارند؟ الف ( ۷ ) ب ( ۵ ) پ ( ۵۲ ) ت ( ۲۵ )
	<b>علوم</b>
۱	کدام یک از حیوانات زیر حس بویایی قوی دارد؟ الف (گوسفند ب ) مار ( پ ) مرغ ( ت ) سگ
۲	کدام خوراکی زیر مفید است؟ الف ( میوه ب ) پفک ( پ ) نوشابه ( ت ) پیتزا
۳	هویج و شلغم گیاهانی هستند که ..... آن ها خوراکی است؟ الف ( ساقه ب ) برگ ( پ ) گل ( ت ) ریشه
۴	چه سنگی برای خوردن مناسب است؟ الف ( عقیق ب ) فیروزه ( پ ) نمک ( ت ) کبود
۵	دو آهن ربا وقتی هم نام باشند از هم ..... می شوند. الف ( نزدیک ب ) دور ( پ ) تغییری نمی کند ( ت ) هیچ کدام
۶	کدام یک جذب آهن ربا می شود؟ الف ( کاغذ ب ) مداد ( پ ) کلید ( ت ) پلاستیک
۷	کدام جانور برای ما مشکلاتی به وجود می آورد؟ الف ( زنبور ب ) گاو ( پ ) ملخ ( ت ) گوسفند
۸	قورباغه چگونه شکار می کند؟ الف ( پریدن ب ) دست ( پ ) زبان ( ت ) خفه کردن شکارش
۹	حرکت کردن کدام حیوان با بقیه فرق می کند؟ الف ( شتر ب ) گوسفند ( پ ) مار ( ت ) اسب
۱۰	فایده های هر جانور را به تصویر مناسب آن وصل کن. www.mamplus.com
	     





www.mamplus.com

آزاده ..... را در آسمان به مادرش نشان داد .  
من ..... آبی را بسیار دوست دارم .  
مادرم سبزی را ..... و در ..... می ریزد .  
دیروز آسمان ..... بود ، باران ..... می بارید .  
امید در بوستان ..... بازی می کند .  
زنبور در ..... است .  
گبوتر ..... بام بود .  
اردک در آب شنا .....  
آن کودک با ..... ننگ می ریزد .  
امروز آسمان ..... بود ، باران ..... می بارید .  
بابا از ..... نان می آورد .  
ما کودکان ..... کردن را دوست داریم .  
آن ورزش کار ..... است .



جمع و تفریق ها را روی محور نشان بده و جواب را بنویس.



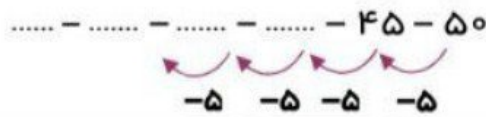
$8 + 6 = \dots\dots$



$16 - 9 = \dots\dots$

در جاهای خالی عدد مناسب بنویس.

$9 - 12 = \dots\dots$



مسئله را به کمک چوب خط حل کن.

نیما در یخچال ۶ تخم مرغ داشت. مادرش ۵ تخم مرغ از بازار خرید. پدر نیما هم ۴ تخم مرغ خرید. حالا نیما چند تخم مرغ دارد؟



[www.mamplus.com](http://www.mamplus.com)

برای هر شکل جمع و تفریق مناسب بنویس.



$\dots\dots + \dots\dots + \dots\dots = \dots\dots$


$\dots\dots - \dots\dots = \dots\dots$

جدول زیر را با کلمات داده شده کامل کن.

خوردنی	برقی	پوشیدنی	نوشیدنی

اطو - دوغ - پالتو - یخچال - شلوار -  
 نوشابه - جوراب - تلویزیون - لوستر -  
 ساندویچ - دستکش - کامپیوتر -  
 شربت - چلوکباب - پرتقال - دیلستر -  
 دامن - پسته - ساعت مچی - انار

پنج کلمه با (أ) استثنا بنویس.



جدول زیر را کامل کن. [www.mamplus.com](http://www.mamplus.com)


راهی	شنبه	رو	مرتبہ	چرخہ	روزہ	بارہ	کارہ	↩
								دو

در جدول کلماتی بنویس که با حرف مشخص شده شروع شود.

ط	ظ	و	ل	ک	ز	ه	ء	خ	ف

مهربان پسر، املائی زیر را نقطه گذاری کن.

من امسال نه کلاس دوم آمده ام. نارسال در کلاس اول دسسان رکرنا درس خوانده ام.  
 ار حدای مهربان می خواهم که در درس هانم کمک و ناورم ناسد نا توانم داسن آموری  
 نمونه برای سربلندی خودم و خانواده ام ناسم. آمن



خورد سبزی ↩



به نام خدا

ارزشیابی



تهیه کننده :

فاطمه دانا

مدت زمان:

نام و نام خانوادگی: -----

فرزند خوشگلم نام تصاویر زیر را بنویس .



-----

-----

-----

-----

در جاهای خالی کلمه ی مناسب بنویس.

شب ها در آسمان ..... دیده می شود .

حلزون خیلی آرام ..... می کند .

نام پیامبر ما ..... است .

[www.mamplus.com](http://www.mamplus.com)

عزیزم برای تصویر زیر یک جمله زیبا بنویس.



.....

.....

.....

.....

**مرتب کن.**

دوست - دارد - خدا - خوب - انسان های

-----

می خواند - نماز - علی اکبر - مسجد - در

-----

**مخالف کلمات زیر را بنویس.**

شب



پایین



کوتاه



خواب



**کلمات مربوط را به هم وصل کن و ترکیب را بنویس.**

فصل ----- = رشته

آش ----- = ریاضی

کتاب ----- = زمستان

[www.mamplus.com](http://www.mamplus.com)

**جمله بساز.**

----- معلم:

----- ناظم:



ردیف	انتظارات	خ خ	خ	ق ق	ن ن
1	نوشتن نام تصاویر				
2	کامل کردن جمله				
3	نوشتن جمله برای تصویر				
4	مرتب کردن جمله				
5	نوشتن مخالف کلمات				
6	وصل کردن کلمات مرتبط به هم				
7	جمله سازی کردن				

بازخورد توصیفی آموزگار: -----

دبستان فدک ۱

آزمون ورودی ریاضی دوم دبستان

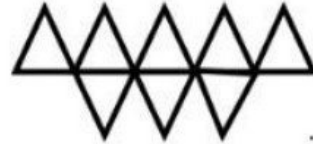

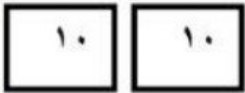
نام و نام خانوادگی: .....

۱- برای تعداد انگشتان، یک جمع بنویس و جواب بده



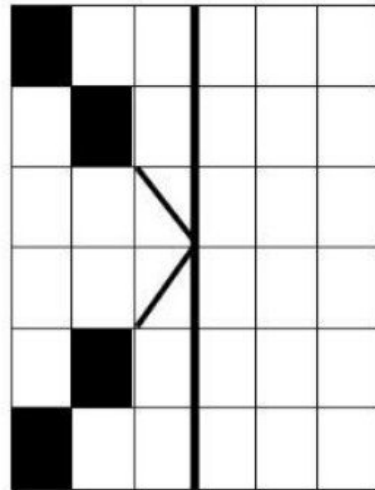
..... + ..... + ..... = .....

۲- تعداد مربوط به هر شکل را با عدد و حروف بنویس.



۳- جدول سودوکو و تقارن را انجام بده.

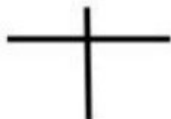
۱	۲	۴	۵	۳	
۳			۴	۲	۱
۲	۴	۵	۱		۳
	۱		۲	۴	۵
۴	۶	۱		۵	
۵		۲	۶	۱	۴




۴- کامل کن . ۸ ده تایی و ۵ یکی می شود ..... با حروف.....

۱۳ می شود ..... ده تایی و ..... یکی

۱ ده تایی و ۰ یکی می شود.....






۵- اندازه ی درخت از .....چینه بیش تر و از .....چینه کمتر است

یعنی اندازه ی درخت بین ..... و .....چینه است.

پنج چینه ی پایینی را رنگ قرمز بزن.



۶- زمان ساعت بین ..... و ..... می باشد.

یعنی ساعت از ..... گذشته ولی هنوز به ..... نرسیده است.

۷- قبل و بعد اعداد را بنویس. .... - ..... - ۳۹ - .....

۸- جمع کن.  $25 + 10 + 5 + 20 = \dots\dots\dots$

۹- با عدد و حروف بنویس. شصت و چهار..... پنجاه.....

۳۲ ..... ۴۹ .....  
www.mamplus.com

۱۰- الگوی عددی را ادامه بده. .... - ..... - ..... - ..... - ..... - ۲۵ - ۲۰ - ۱۵

۱۱- علی ۷ شکلات داشت. مادرش ۵ شکلات دیگر به او داد. علی ۴ تا از شکلات هایش را

به دوستش داد. حالا علی چند شکلات دارد؟ (جواب را با محور اعداد نشان بده و عبارت ریاضی آن را بنویس)

حالا علی ..... شکلات دارد.

بازخورد آموزگار: شناخت اعداد ..... جمع و تفریق ..... حل مسئله ..... سودو کو ..... قرینه یابی .....

اندازه گیری ..... خواندن ساعت ..... الگوی عددی .....






نام و نام خانوادگی :

به نام خدا  
آزمون ورودی ریاضی  
دبستان دهخدا

پایه دوم

مهرماه

ردیف	سوالات
۱	از عدد ۲۰ تا عدد ۳۵ بنویس . ۲۰-
۲	جاهای خالی را کامل کن . ۴۶ - ۴۷ -      -      - ۵۰ -      -      - ۵۳ -      - ۵۵ -      -
۳	به صورت حروفی بنویس . ..... ۳۷      ..... ۴۴ ..... ۶۹      ..... ۷۰
۴	به صورت عددی بنویس . شانزده : ..... بیست و هشت : ..... شصت و چهار : ..... هشتاد و هشت : .....
۵	نام هر شکل را بنویس .    .....      .....      .....
۶	جمع و تفریق های زیر را انجام بده . $7 + 5 = \dots\dots\dots$ $8 - 5 = \dots\dots\dots$ $3 + 4 + 6 = \dots\dots\dots$ $15 - 6 = \dots\dots\dots$ $8 + 9 = \dots\dots\dots$ $12 - 4 = \dots\dots\dots$

با توجه به شکل جدول را کامل کن .

ده تایی	یکی

۷



زمانی که هر یک از ساعت ها نشان می دهد .



ساعت ..... است.



ساعت ..... است.

۸

بازخورد آموزگار :

www.mamplus.com

\* با آرزوی موفقیت برای شما دانش آموزان گلم \*

« محسن گودرزوند چگینی »

نام :

درس : ریاضی

طراح : زهرا جعفری

نام خانوادگی :

کلاس :

تاریخ :

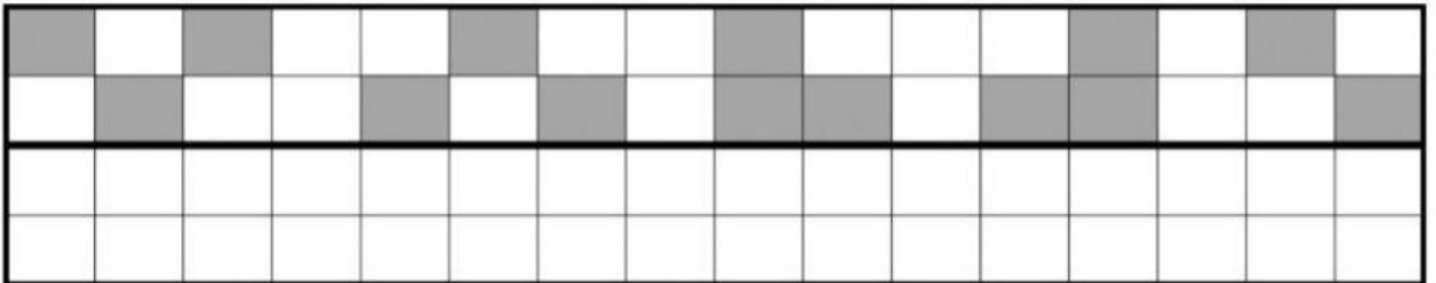
گل قشنگم ، جدول های شگفت انگیز را کامل کن .

۳	۱	۶	۷	۴	۲	۹	۸	
۸	۴	۵	۳	۶	۹	۲		۱
۹	۷	۲	۵	۱	۸		۴	۳
۷	۳	۴	۶	۹		۱	۲	۸
	۸	۹	۴		۱	۳	۵	۷
۲	۵			۷	۳	۴	۹	۶
۵	۶		۹	۳	۴		۱	۲
۱		۳	۲	۸	۷	۵		۴
	۲	۷	۱	۵	۶	۸	۳	

۶	۷	۴	۵	۹		۲	۱	۳
۲	۸	۳	۷		۱	۹	۶	۵
۹	۱	۵		۶	۲	۷	۸	۴
۸	۴		۶	۳	۷	۱	۵	۹
۳		۶	۴	۱	۵	۸	۲	۷
	۵	۱	۲	۸	۹	۴	۳	۶
۱	۳	۸	۹	۷	۶	۵	۴	
۴	۲	۹	۸	۵	۳	۶		۱
۵	۶	۷	۱	۲	۴		۹	۸

www.mamplus.com

عزیزم ، شکل را طوری کامل کن که دو نیمه ی آن مثل هم باشد .



گلم ، حاصل جمع را به کمک چوب خط پیدا کن و جواب را بنویس .



..... + ..... = .....

۲ + ۴ = .....

۳ + ۵ = .....



..... + ..... = .....

۶ + ۲ = .....

۴ + ۴ = .....



عزیزم ، شکل را طوری کامل کن که دو

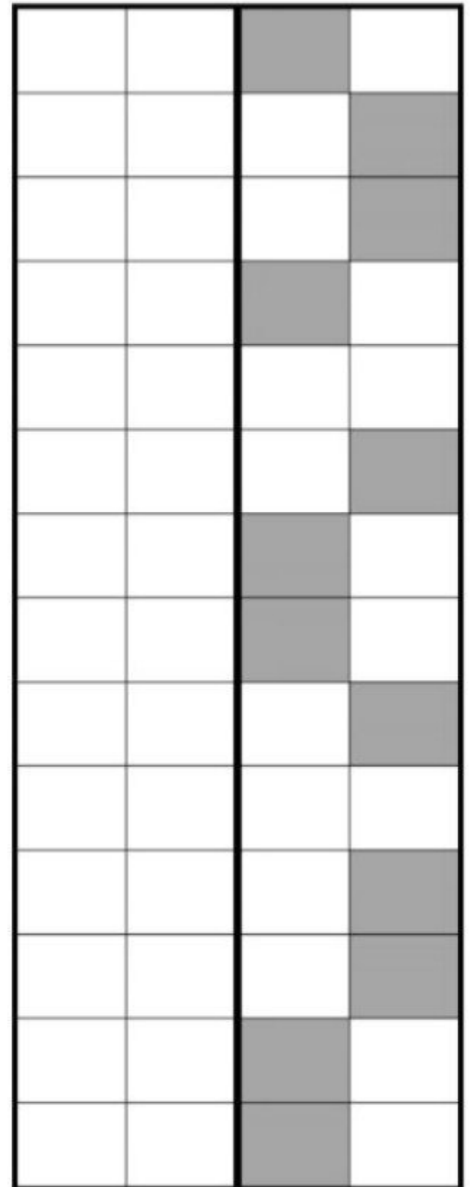
نیمه ی آن مثل هم باشد .

گل قشنگم ، جدول ها را با نوشتن عدد مناسب کامل کن.

( می توانی از چوب خط یا نی برای به دست آوردن پاسخ استفاده کنی )

۶	

۷	



عزیزم ، از ۱ تا ۱۰ دوبار به ترتیب بنویس .

---



---

www.mamplus.com

فرزند باهوشم ، علامت < = > را در جاهای مناسب قرار بده .

۶ □ ۸

□

۹ □ ۶

۳ □ ۵

۵ □ ۴

۲ □ ۸

۶ □ ۶

۴ □ ۷

۹ □ ۹

۶ □ ۳

۸ □ ۸


۷ □ ۶

۷ □ ۶

۷ □ ۹

۱ □ ۲

۹ □ ۸



نام و نام خانوادگی :

بسمه تعالی

پایه اول

فارسی

ق	ک	و	س	ن
ف	ا	ی	خ	و
و	د	ف	ف	ز
ر	و	ش	ن	ا
ی	ن	م	ف	د

۱) کلمه های زیر را در جدول پیدا کن و داخل بسته بگذار .

کادو نوزاد روشن فوری

۲) پسر عزیزم کلمات زیر را مرتب کن .

خورشید - است - گرمای - زیاد

برای - خواندن - مسجد - مجید - نماز - به - می رود

www.mamplus.com

۳) بخوان و خوش خط بنویس.

جمشید مرد جوانی است.

او یک کشاورز درست کار و با ایمانی است .

او در کرج زندگی می کند .

در آن کادو یک خوراکی خوش مزه و دو خودکار بود .

من آن خوراکی را خوردم و از پدرم سپاس گزاری کردم .

۴) دسته بندی کنید .

ورزش - نوک - پرواز - گاو - بیرون - دود - خوش - کبوتر - خورشید - دو - جوراب - جارو

شکل و صدای ( او )	شکل ( و ) صدای ( و او )	شکل ( و ) و
_____	_____	_____
_____	_____	_____
_____	_____	_____
_____	_____	_____

نام و نام خانوادگی :

بسمه تعالی

پایه اول

۵) با سه کلمه ی زیر جدول شگفت انگیز را کامل کن .

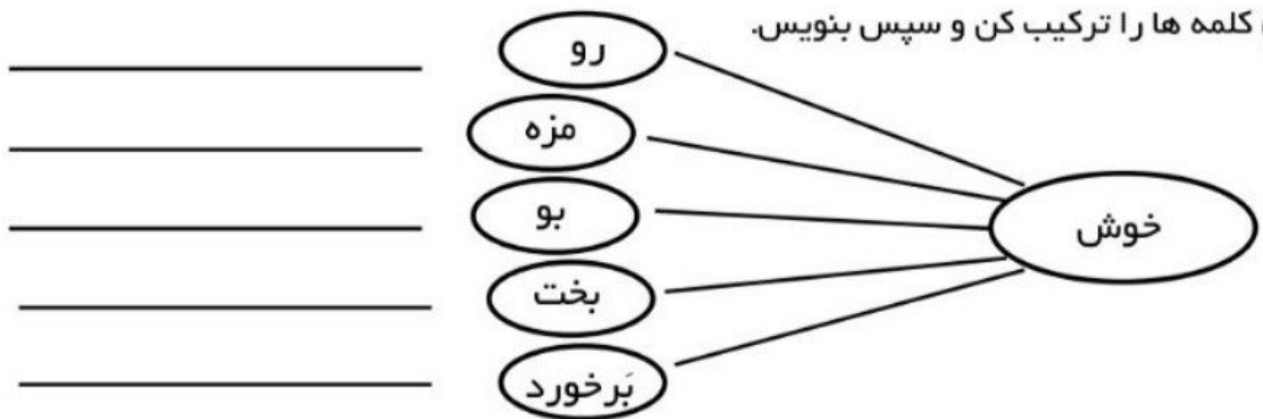
خورشید - روشن - خود

خورشید		روشن
	روشن	
	خود	

جوجه - تاج - جوراب

جوجه		
		جوراب
	تاج	

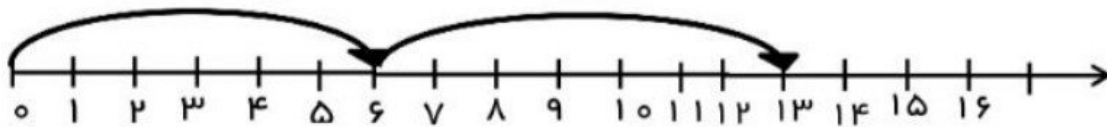
۶) کلمه ها را ترکیب کن و سپس بنویس.



www.mamplus.com

ریاضی

۱) با توجه به محور در جاهای خالی عدد مناسب بنویس.



..... + ..... =



..... + ..... =



نام و نام خانوادگی :

بسمه تعالی

پایه اول

۲) دو ر جمع و تفریق هایی که حاصل آن مثل عدد بالای ستون است خط بکش.

۷
$۴ + ۳$
$۶ + ۲$
$۹ - ۲$
$۸ - ۳$


۵
$۲ + ۲$
$۵ - ۰$
$۶ + ۱$
$۹ - ۴$

۹
$۴ + ۵$
$۸ + ۲$
$۶ + ۳$
$۱۰ - ۲$

۸
$۵ + ۴$
$۱ + ۷$
$۹ - ۲$
$۴ + ۴$



۳) با توجه به شکل در جای خالی عد مناسب بنویس.  
بلندی مداد بین ..... تا ..... است.



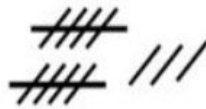
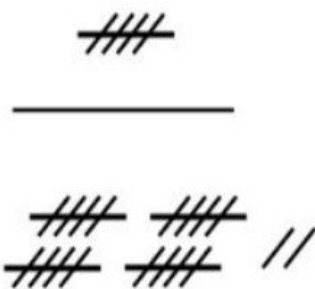
۲۷



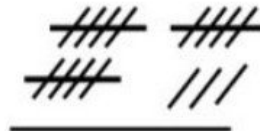
۴۰

۴) برای عددهای زیر دسته های ۱۰ تایی بکش.

www.mamplus.com



۵) جاهای خالی را با عدد مناسب کامل کن.



۶) عدد ها ادامه دهید .

۱۱ .....

۷) بین دو عدد علامت مناسب قرار بده.

۱۴    ۱۴

۱۰    ۱۱

۷    ۵

۱۲    ۱۵

۱۶    ۱۸

نام دانش آموز :

به نام خدا

پایه دوم

آزمون ورودی بنویسیم  
دبستان دهخدا لوشان

مهرماه

ردیف	سوالات												
۱	با هریک از صداهای نوشته شده ، یک کلمه بساز . د = ..... ج = ..... س = ..... ق = .....												
۲	هر کلمه را در جای خودش بنویس. باران - وطن - خانه - صبحانه - صابون - خواهر - بزرگ - وسط <table border="1" data-bbox="140 860 1382 1205"><thead><tr><th>و</th><th>ص</th><th>خ</th><th>ب</th></tr></thead><tbody><tr><td></td><td></td><td></td><td></td></tr><tr><td></td><td></td><td></td><td></td></tr></tbody></table> <p>www.mamplus.com</p>	و	ص	خ	ب								
و	ص	خ	ب										
۳	کلمه بساز . پر ..... رود .....												
۴	جمله بساز . پارک : ..... مدرسه : .....												
۵	در جاهای خالی کلمه مناسب بنویس . آردک در آب شنا ..... ( می کنم - می کند )												

آموزگار ..... می گوید . ( داستان - کیف )  
آزاده از مدرسه زود ..... ( می آید - می آیم )

کلمه های زیر چند بخش دارند .

<input type="radio"/>	آزاد	<input type="radio"/>	زد	<input type="radio"/>	بازی
<input type="radio"/>	ورزش	<input type="radio"/>	کبوتر	<input type="radio"/>	تند

۶

دو دوتا به هم وصل کن و بنویس .

..... = شور	آش	۷
..... = تمیز	آب	
..... = رشته	ماشین	
..... = شیرین	عسل	

مرتب کن .

کتاب - من - دارم - دو - فارسی

.....

بچه ها - آموزگار خود - تشکر - از - کردند

.....

www.mamplus.com

۸

باز خورد آموزگار :

.....

.....

\* موفق باشید \*

« محسن گودرزوند چگینی »

به نام خدا

آزمون آغازین فارسی «پایه ی دوم ابتدایی»

دبستان



ردیف

نام و نام خانوادگی:

نام هر تصویر را بنویس.



۱

جدول زیر را کامل کن.

مرغابی				
				-

۲

در جاهای خالی کلمه ی مناسب بنویس.

۱- اُردک در آب شنا ..... ( می کنم - می کند )

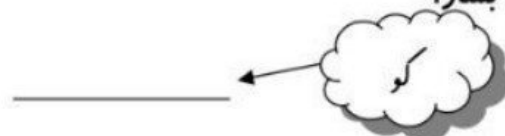
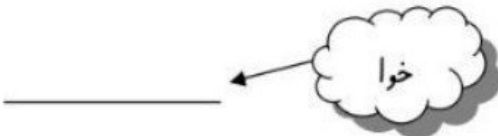
۲- آموزگار..... می گوید. ( داستان - کیف )

www.mamplus.com

۳

کلمه بساز.

۴



صدای اوّل نام هر تصویر را بنویس.



۵

با هر یک از صداهای نوشته شده یک کلمه بساز.

۶





جمله بساز.

خورشید : .....



۷

مرتب کن و جمله بساز.

۱- شهر مکه - است - خانه ی خدا - در : .....

۸

هر کلمه را در جای خودش بنویس.

ط	ء ء ع ع ع	خ خ

قطار - معلم - یخ - وطن - عزیز - خروس

۹

www.mamplus.com

در جاهای خالی کلمه ی مناسب بنویس.

ما از دیدن جنگل ها ..... می بریم.

امروز آسمان ..... است.

۱



بچه های عزیزم،

موفق و سربلند باشید.

آمالی

آزمون پنویسیم پایه دوم دبستان عدالت مهر

نام -----


\* با کلمات داده شده جمله بساز ...

..... مهد کودک

..... آمپول

..... خانه ی خاله

\* نام هر تصویر را بنویس ...



خوا	خا

www.mamplus.com

\* دسته بندی کن ...

خانواده - تخت خواب - خواهر - خانه

خاک - خواهش -

\* دور کلماتی که آخر آن ها صدای (ه ه ه) دارد ، خط بکش ...

کوه چاده میوه همه کلاه سایه ستاره ماه



\*دسته بندی کن ...

چوراپ - شلوار - شربت - دامن - آب میوه - دوغ - کلاه


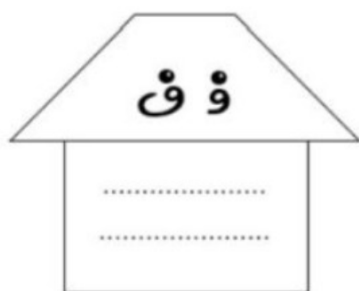
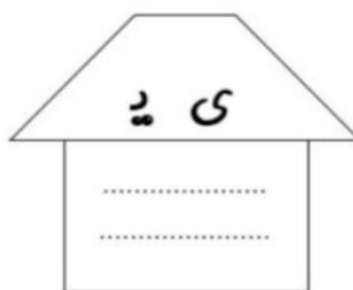
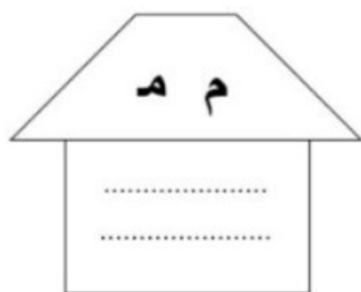
				پوشیدنی
				نوشیدنی

www.mamplus.com

\* هر جا لازم است با مداد رنگی تشدید بگذار ...


بچه گروه آموزگار تشکر مجله کاغذ کتابخانه

\* برای هر یک از نشانه های زیر ۲ کلمه بنویس



ریاضی

۱- دختر گلم انگشت های یک دستت ، با ۴ تا از انگشت های دست دیگری را باز کن.  
\* چه عددی را ساخته ای؟



www.mamplus.com

۲- دایره ها را با دسته بندی کردن بشمارید.  
\* چند تا شد؟ .....

۳- عددها را از کمتر به بیشتر مرتب کنید.



۴- مقایسه کنید.



۵- چهار عدد بیش تر از ۸۶ بنویسید.



۶- جاهای خالی را کامل کنید.

..... ۳ یکی و ۵ ده تایی می شود:

..... :۴۹

..... شصت:

..... هشتاد و سه:

..... ۸۰ یعنی ده تایی

..... ۸ یکی و ۹ ده تایی می شود:



۷- با کمک چوب خط حاصل هر جمع را بنویسید.

$$5 + 2 + 3 + 9 = \dots\dots\dots$$

$$12 + 2 + 4 = \dots\dots\dots$$

۸- امروز ۱۶ مهر ماه است. تا تولد برادرم یک هفته مانده است. تولد برادرم چه روزی است؟

۹- در بوستان یاس ۱۲ درخت بید بود. امسال قبل از عید ۳ درخت بید دیگر در این بوستان کاشتند. پس از مدتی ۴ تا از درخت های بید خشک شدند. حالا بوستان یاس چند درخت بید دارد؟ (با استفاده از محور)

۱۰- در مربع عدد مناسب بنویسید.

$$5 + 2 + \square = 10$$

$$8 + 1 + \square = 10$$

$$\square + \square + \square = 10$$

$$10 = \square + \square + \square$$

### فارسی

۱- با حرف آخر این کلمه ها، کلمه ی جدید بسازید و این کار را ادامه دهید.

کاشان	←		←		←		←		←	
مرد	←		←		←		←		←	
سرما	←		←		←		←		←	
صندلی	←		←		←		←		←	

۲- کلمه های زیر را با دقت بخوانید و هر کلمه را در جای مخصوص خود در جدول قرار دهید.

پرنده - ساعت - دوچرخه ای - خاک - چوپان - خانواده - دست - ناراحت

چهار بخشی ها	سه بخشی ها	دو بخشی ها	یک بخشی ها
..... دوچرخه ای	..... ..... .....	..... .....	خاک .....

www.mamplus.com

۳- این جمله ها را با کلمه های مناسب کامل کنید.

- نام معلم سال گذشته من ..... است.
- من محبت های او را هرگز ..... نمی کنم و از ..... می خواهم که معلم همیشه سلامت باشد.
- من از او سپاس گزاری ..... که چیزهای زیادی به من ..... .
- حالا من کلاس ..... هستم و می توانم ..... بخوانم.

۴- از اینکه به کلاس دوم آمده ای، چه احساسی دارید؟ بنویسید.

.....  
.....

۵- جمله های زیر را کامل کنید.

- من نماز می خوانم .
- ..... نماز می خوانی.
- ..... نماز می خوانیم.
- ..... نماز می خوانی.
- آن ها نماز ..... .
- او نماز ..... .

۶- پاسخ درست هر کدام از جمله های زیر را با رنگ کردن  مشخص کنید.

\* آخر کدام یک از این واژه ها صدای ( - ۹ ) می شنوید.

- الف) راه
- ب) کوه
- ج) جاده
- د) سیاه