

آزمون کلی

علوم اول ابتدایی

WWW

MAMPLUS

.COM




۱ - کدام جانور گوشت خوار است ؟



۲ - اندام حس بینایی کدام است ؟



۳ - کدام صدا هشدار دهنده است ؟



۴ - کدام وسیله ساده است ؟



۵ - کدام از سنگ ها درست نشده است ؟



۶ - در کدام یک آهن ربا به کار نرفته است ؟



۷ دور کلمه مناسب خط بکش

آهن ربا ..... را جذب می کند . ( میخ - چوب )  
در آفتاب مقوای ..... زود تر گرم می شود . ( روشن - تیره )  
۸ - سه سوالات پاسخ بده

نام یک بیماری که از راه هوا منتقل می شود را بنویس .....  
بزرگ ترین بنای خاکی جهان چه نام دارد ؟ .....  
یک مورد از استفاده های گرما را بنویس .....  
نام یک وسیله که روی آب می ماند را بنویس .....  
یک سنگ که در جواهر سازی کار برد دارد را نام ببر .....  
با چه خاکی کوزه ی سفالی می سازند ؟ .....

۹ کدام خاک آب را زودتر از خود عبور می دهد؟

ماسه       خاک باغچه       گل رس

۷- سایه در کدام ساعت روز کوتاه ترین اندازه را دارد؟

۱۰ صبح       ۱۲ ظهر       ۵ بعد از ظهر

۱۰- دو مورد از حالت های مختلف آب را بکش

--	--

بچه های عزیز خسته نباشید

به نام خدا

آزمون علوم

نام زیبایت را بنویس:

\*\*\*\*\*

به سایه ی تصویر نگاه کن و خورشید را بکش!



کدام تصویر گرمای بیشتری دارد؟



نام قسمت های گیاه را رنگ کن.



بدنه



ریشه



ساقه



گل



برگ

کدام جسم در آب فرو می رود؟



مداد



گیره فلزی



کشتی






بادکنک


کدام یک از اجسام زیر جذب آهن ربا نمی شود؟



کدام حیوان گوشت خوار است؟




کدام جانوران برای انسان مشکل ساز هستند؟



کدام وسایل زیر هوا را آلوده می کنند؟



کدام تصویر به هوا احتیاج دارد؟



باز خورد:

نام - نام خانوادگی

دبستان پسرانه صنایع دفاع

آموزگار: توکلی

آزمون : علوم

کلاس : اول

۱- چند نوع مزه داریم برای هر مزه یک مثال بنویس؟.....

.....

۲- عضو حس لامسه ( ) ، بینایی ( ) ، بویایی ( ) ، چشایی ( ) و شنوایی ( )

۳- هر یک از جانوران زیر چگونه حرکت می کنند؟

مار (.....) آهو (.....) ماهی (.....) عقاب (.....) قورباغه (.....)

۴- سه مورد استفاده از گیاهان را نام ببرید

.....

۵- دو وسیله را که نور تولید می کنند نام ببرید .

.....

۶- کمد آسان تر جابه جا می شود یا کیف مدرسه چرا؟

۷- اگر دو آهن ربا مثل هم داشته باشیم چگونه می فهمیم کدام قویتر است؟

.....

۸- چه چیزهایی هوارا آلوده می کند؟

.....

۹- در گذشته مردم برای مسافرت در خشکی از کدام وسیله استفاده می کردند؟

الف \_ ماشین  ب- اسب  ج - قایق

۱۰- وسیله ی ساده مانند ..... و وسیله ی پیش رفته مانند..... است.

۱۱- اگر یک سنجاق داخل بطری آب باشد چگونه می توان آن را در آورد؟

با کمک آهن ربا-  آب بطری را خالی کرد

۱۲- چه چیزی باعث حرکت ابرها و آب می شود؟

الف \_ باد  ب- نور خورشید  ج - آب و ابر خودشان حرکت می کنند

۱۳-- کدام وسیله ها هم نور تولید می کنند و هم گرما؟

الف بخاری  ب- لامپ  ج- آتش

۱۴-- ساقه ی کدام گیاهان خوراکی است ؟

الف - هویج  ب- پیاز  ج - کاهو

۱۵-- کدام جانوران مهاجرت می کنند ؟

الف - ببر  ب- لک لک  ج- گوسفند

۱۶-- کدام وسیله هوا را آلوده نمی کند ؟

الف - اتوبوس  ب - دوچرخه  ج- هواپیما

۱۷- کدام مواد غذایی بو دارد ولی مزه ندارد ؟

الف -هندوانه  ب- شیرینی  ج- خیار

۱۶- آهن ربا وسایلی را که جنس آنها از آهن است را.....

۱۷- حرکت در جاده های کوهستانی آسان تر است یا در آسفالت؟ چرا؟

۱۸- به جانورانی که انسان نمی تواند کنار آنها زندگی کند جانوران ..... می گویند.

۱۹- ریشه ی خوراکی مانند..... و ریشه غیر خوراکی مثل ..... است.

۲۰- آدمک یخی در کجا دیرتر آب می شود؟ چرا؟

۲۱- داشتن ..... حرکت وسایل نقلیه را ..... می کند.

۲۲- رانندگان هنگام حرکت در مسیرهای کوهستانی و برف گیر چه کارهایی باید انجام دهند؟

۲۳- دو استفاده از سنگ را بنویسید..

۲۴- سنگ ها از نظر ..... و ..... و ..... باهم فرق دارند

۲۵- آجر از خاکی به نام خاک ..... درست می شود .