



آزمون و کاربردگ ورودی
دوم_ سوم دبستان

www.mamplus.com



ریاضی



۱- با استفاده از کارت‌های رو به رو عدد ۲ رقمی بساز. (اجازه‌ی تکرار رقم نداری)

۲- از عدد ۱۰ تا عدد ۱۰۰، ده تا ده تا بنویس.

۳- با رقم‌های * و ۴ برای یکان و رقم‌های ۷ و ۵ برای دهگان عدد ۲ رقمی بنویس.

۴- عددهای خواسته شده را به رقم و به حروف بنویس.

الف) ۶ یکی و ۹ ده تایی

ب) ۳ یکی و ۷ ده تایی

ج) * یکی و ۶ ده تایی

۵- پنجمین عدد بعد از عدد ۷۸ چه عددی است؟



۱۱- جمع و منهای زیر را به روش فرایندی انجام بده .

$$\begin{array}{r} ۳۴ \\ + ۲۵ \\ \hline \end{array}$$

$$\begin{array}{r} ۲۷ \\ + ۴۱ \\ \hline \end{array}$$

$$\begin{array}{r} ۵۳ \\ + ۱۶ \\ \hline \end{array}$$

$$\begin{array}{r} ۷۹ \\ - ۳۵ \\ \hline \end{array}$$

$$\begin{array}{r} ۹۸ \\ - ۴۴ \\ \hline \end{array}$$

$$\begin{array}{r} ۸۸ \\ - ۲۶ \\ \hline \end{array}$$

۱۲- عددهای زیر را تقریبی بنویس .

۳۲ →

۴۷ →

۵۵ →

۸۴ →

۱۳- زهرا ۲۴ صدف از ساحل دریا جمع کرد و به برادرش علی که ۴۹ صدف جمع کرده بود داد . حالا برادر زهرا چند صدف دارد ؟



www.mamplus.com



۱- تمام حروف بی نقطه‌ی الفبا را بنویس .

۲- برای حروف ۴ شکلی زیر در جدول کلمه بنویس .



ع	ع	ع	ع

www.mamplus.com

ه	ه	ه	ه

۳- نام سه نفر از دوستانت را بنویس و درباره‌ی هر یک جمله‌ای بنویس .

.....

.....

.....

۴- هم معنی کلمه‌های زیر را بنویس .

..... : پند

..... : باز

..... : فراوان

..... : خوش بیان

..... : بی‌زیان

۵- هر دو کلمه را با معنی متفاوت پیدا کن و با هر کدام جمله بساز .

شیر	ده	گل	تند
-----	----	----	-----

.....

.....

.....

.....

.....

.....

.....

.....

.....

.....



www.mamplus.com

۶- کلمه‌ی آخر هر جمله را بنویس و در پایان جمله نقطه بگذار.

من هر شب قبل از خواب مسواک

امروز پدر به مسافرت

بچه‌ها به کتابخانه رفتند تا کتاب

ما امسال در کلاس دوم درس

نجار از چوب میز و کمد

۷- ۱۰ خط دیکته از درس‌های کتاب‌خانه‌ی کلاس ما و مسجد محله‌ی ما بنویس.

.....

.....

.....

.....

.....

.....

.....

.....

.....

.....

.....

.....

.....

.....

.....

.....

.....

.....

.....

.....

.....

.....



۱- ما انسان‌ها چند حس داریم؟ مهم‌ترین آن‌ها کدام حس است و چرا؟

۲- بهترین راه برای اینکه دیده‌ها و شنیده‌هایمان را فراموش نکنیم چه کاری است؟

۳- چه کارهایی باعث آلودگی آب می‌شود؟ چگونه از این اتفاق جلوگیری کنیم؟

۴- چه کارهایی باعث آلودگی هوا می‌شود؟ چگونه از این اتفاق جلوگیری کنیم؟

۵- انسان از آب چه استفاده‌هایی می‌کند؟

۶- چرا کاشتن درخت باعث پاکیزه شدن هوا می‌شود؟

پیک تبستانه شماره ۲



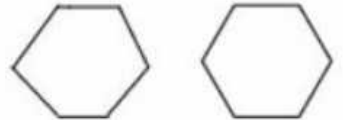
۱- جدول زیر را کامل کن .

www.mamplus.com

شکل	نام شکل	تعداد ضلع	تعداد گوشه
	مستطیل		
	متوازی الاضلاع		
	دایره		
	بیضی		

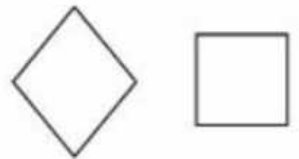
۲- تفاوت و شباهت هر دو شکل زیر را با هم بنویس .

تفاوت :



شباهت :

تفاوت :



شباهت :

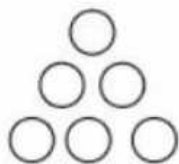
۳- اگر کشیدن شکل‌ها را به ترتیب زیر ادامه دهیم ، شکل پنجم چند دایره خواهد داشت .



(شکل ۱)



(شکل ۲)



(شکل ۳)

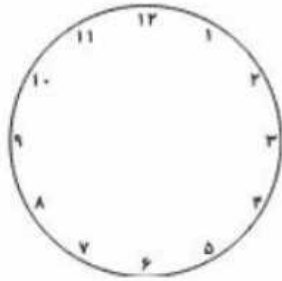
(شکل ۴)

(شکل ۵)

بیک تابستانه شماره ۲

www.mamplus.com

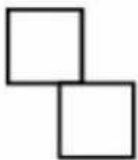
۴- به وسیله‌ی رنگ کردن روی ساعت‌های زیر نیم ساعت و یک ربع را نشان دهید .



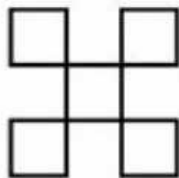
۵- اکنون ساعت ۱۴ است . سه ساعت و نیم بعد ساعت چند است ؟

۶- اگر شما ساعت هشت و ربع به مدرسه بیاید و بعد از ۸ ساعت و نیم به خانه برگردید چه ساعتی مدرسه تمام می شود ؟

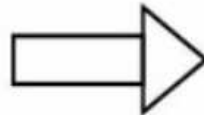
۷- برای شکل زیر با توجه به عدد نوشته شده خط تقارن رسم کن .



۲



۴



۱



۸

۸- ساعت‌های زیر را به ۲ صورت بنویس .



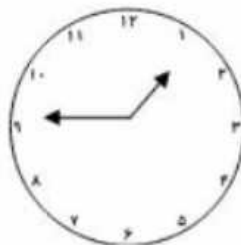
.....

.....



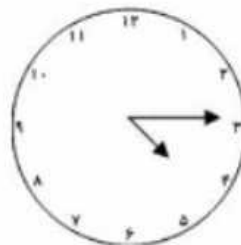
.....

.....



.....

.....



.....

.....



.....

.....

۹- اگر زهرا ۴ سکه‌ی صد ریالی به بانک بدهد چند سکه‌ی ۱۰ ریالی می‌گیرد ؟ چند سکه‌ی یک ریالی می‌گیرد ؟

بیک تابستانه شماره ۲



۱- با استفاده از کلمه‌های زیر جمله‌ها را کامل کن .

« همکلاس - هم‌گروه - هم‌فکر - همکار - همسایه - هم‌سفر »

- * رضا و محمد در یک کلاس درس می‌خوانند و هستند .
- * ستاره با خواهرش بودند و با هم به شیراز رفتند .
- * من و سامان در زنگ ریاضی بودیم و توانستیم یک الگو بسازیم .
- * آقای فضلی و آقای سروش در یک بانک کار می‌کنند و با هم هستند .
- * دیروز مهرداد در حیاط پسر را دید و از او یک کتاب داستان امانت گرفت .

۲- کامل کن .

- خانه‌ای یعنی یک خانه پرنده‌ای یعنی
- گردویی یعنی کوهی یعنی
- یک لحظه یعنی یک ستاره یعنی
- یک نگاه یعنی یک کلاه یعنی

۳- در جدول زیر کلمه‌هایی را بنویس که نشانه‌ی مورد نظر در آن باشد .

www.mamplus.com

ظ	ذ	ض	ز



۱- مراحل تصفیه آب را توضیح دهید .

۲- چرا باید در مصرف آب صرفه‌جویی کنیم . ۲ مثال از صرفه‌جویی آب بزنید .

۳- روز و شب چگونه به وجود می‌آید ؟

۴- چند ساعت طول می‌کشد تا زمین یک دور کامل به دور خودش بچرخد ؟

۵- دمای محل سایه و محل آفتاب چه فرقی با یکدیگر دارد؟

۶- برای اندازه‌گیری دمای هوا از چه چیزی استفاده می‌کنیم ؟ طرز کار آن را شرح دهید .



۱- بهارک ۱۷ سکه‌ی یک ریالی، ۲۴ سکه‌ی ده ریالی و ۳ سکه‌ی صد ریالی دارد. پول بهارک را حساب کنید. (با رسم شکل)

۲- جمع و تفریق‌های زیر را به صورت ذهنی انجام بده.

$$\begin{array}{r} 107 \\ - 9 \\ \hline \end{array} \quad \begin{array}{r} 105 \\ - 8 \\ \hline \end{array} \quad \begin{array}{r} 103 \\ - 9 \\ \hline \end{array} \quad \begin{array}{r} 96 \\ + 8 \\ \hline \end{array} \quad \begin{array}{r} 97 \\ + 9 \\ \hline \end{array} \quad \begin{array}{r} 94 \\ + 9 \\ \hline \end{array}$$

۳- حامد ۲۰۶ امتیاز داشت و به ۳ سوال پاسخ درست داد. اگر هر سوال ۵۹ امتیاز داشته باشد، حامد اکنون چند امتیاز دارد؟

۴- در جای خالی علامت $< = >$ بگذار.

$379 + 146 \quad \bigcirc \quad 145 + 380$

$423 \quad \bigcirc \quad 282 + 195$

$607 - 299 \quad \bigcirc \quad 804 - 428$

$780 - 99 \quad \bigcirc \quad 653$

۵- اگر سکه‌های ۱۰۰ ریالی و ۵۰ ریالی داشته باشید به چند روش می‌توانید ۲۰۰ ریال درست کنید، مثلاً: $100 + 100 = 200$

۶- در جای خالی عدد مناسب بنویس .

۳۷۹ سانتی متر برابر است با متر و سانتی متر

۷ متر و ۷ سانتی متر برابر است با سانتی متر

۴۹۳ میلی متر برابر است با سانتی متر و میلی متر

۲۱ سانتی متر و ۶ میلی متر برابر است با میلی متر

۷- سارا طول کتاب داستان خود را اندازه گیری کرده است . کتاب از عدد ۱۷ به اندازه ی ۳ قسمت کوچک رد شده بود . طول کتاب سارا چه قدر بوده است ؟

۸- ۲ ساعت و ربع قبل از ساعت هشت و نیم چه ساعتی است ؟

۲۵ دقیقه بعد از ساعت ۱۰ : ۵ چه ساعتی است ؟

۳ ساعت قبل از ساعت ۹ : ۴۵ چه ساعتی است ؟

۹- در جای خالی عدد مناسب بنویس .

$$۳۷۴ + \square = ۸۰۵$$

$$\square - ۵۸۷ = ۴۷۹$$

۱۰- در یک مزرعه ۸ بز و خروس روی هم ۲۴ پا دارند . چند بز و چند خروس هستند ؟



پیک تابستانه شماره ۳



۱- آخر هر جمله را بنویس تا جمله کامل شود .

- * مردم در مسجد نماز جماعت * من همیشه با دقت به صحبت‌های دیگران گوش
- * من از این که با سواد شده‌ام خوشحال * فردا همراه خانواده‌ام به مسافرت
- * خواهرم خیلی با حوصله نقاشی * امام جماعت از همه برای کار خوبشان تشکر

۲- ۳ کلمه از درس کوشا و نوشا و ۳ کلمه از درس چوپان درست کار بنویس که فقط و فقط یک نقطه داشته باشد .

.....
.....

۳- جدول را کامل کن .

www.mamplus.com

- (۱) کسی که حوصله دارد .
- (۲) چیزی که ارزش ندارد .
- (۳) دو نفر که با هم کار می‌کنند .
- (۴) کسی که حجاب دارد .
- (۵) چیزی که اسمیت دارد .
- (۶) کسی که دقت دارد .
- (۷) آن که زبان ندارد .

۴- هم معنی کلمه‌های زیر را بنویس .

- شاد کمک نگاه‌داری
- احتیاج دنباله

پیک تابستانه شماره ۳

۵- با استفاده از کلمه‌های داده شده جمله‌ها را کامل کن .

www.mamplus.com

حتماً - معمولاً - کاملاً - اتفاقاً - لطفاً - فعلاً

- * او در بیمارستان است چون بیمار است .
* ما آخر هفته به پارک می‌رویم .
- * روی میزت را مرتب کن !
* من برای رفتن به مدرسه آماده‌ام .
- * دیروز دوستم را در خیابان دیدم .
* فردا مداد پریا را بر می‌گردانم .

۶- جمله‌های در هم ریخته را مرتب کن .

* نظم - وظیفه‌ی - رعایت - ما - ترتیب - و - همه‌ی - است .

* برای - شدن - تمرین - و - نیاز - سخن گو - تلاش - به - داریم .

* است - از - صفات - امانت‌دار - خوب - انسان - بودن .

۷- دایره‌های کنار کلمه‌های مخالف هم را رنگ کن .

- | | | | | |
|------|---------|------|-------|--------|
| چپ | پاکیزه | خارج | مناسب | بی‌مزه |
| وارد | نامناسب | کثیف | راست | بامزه |

۸- تمام کلمه‌هایی که در درس‌های چوپان درست کار ، کوشا و نوشا و دوستان ما تشدید دارند بنویس .

۹- ضرب المثل آخر درس چوپان درستکار را بنویس .

۱۰- از درس های دوستان ما ، کوشا و نوشا و چوپان درست کار ۸ خط دیکته بنویس .



۱- چگونه فصل های یک سال به وجود می آید ؟

۲- چرا فصل زمستان سرد و فصل تابستان گرم است ؟

۳- کار بادنما چیست ؟

۴- باد چگونه تشکیل می شود و به باد شدید چه می گویند ؟

۵- چگونه می توانیم با کاشتن گیاه از حرکت شن های بیابان جلوگیری کنیم ؟

۶- سایه چگونه تشکیل می شود ؟

۷- صدای ما انسان ها چگونه تولید می شود ؟

نام و نام خانوادگی :

بسمه تعالی

پایه دوم

فارسی

۱) هم معنی هر کلمه را بنویس.

خوش حال : مواظبت : پاکیزه :
 آهسته : مریض : تلاش :

۲) مخالف هر کلمه را بنویس.

روز ≠ پایین ≠ کوچک ≠ دروغ گو ≠
 کم ≠ سیاه ≠ کثیف ≠ بلند ≠

۳) قبل از هر کلمه یک اسم مناسب بنویس . مثال : منظم ← دانش آموز منظم

سحر خیز ← کوشا ← پر تلاش ←
 زحمت کش ← سخت کوش ← مهربان ←

۴) کلمه های در هم ریخته را مرتب کن و جمله را با خط زیبا بنویس.

آرامی - بر زمین - به - زینب - دانه ها - پاشید - را

بلند - هنگام - غروب - اذان - گل دسته ها - صدای - شد - از

۵) اسم هر وسیله را به هنرمند مربوط به آن وصل کن .

بوم

دار

دوربین

قیچی



قالی باف



عکاس



نقاش



خیاط

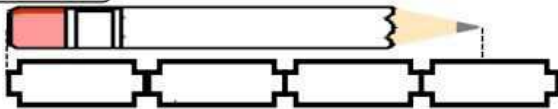
نام و نام خانوادگی :

بسمه تعالی

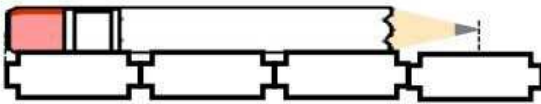
پایه دوم

ریاضی

۱) طول مداد زیر را با واحدهای مختلف اندازه گرفته ایم . جاهای خالی را پر کن .



الف) طول مداد بین و است .



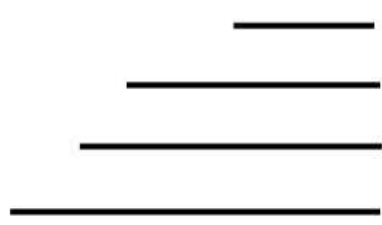
ب) طول مداد از کم تر است.

www.mamplus.com

۲) در یک پارکینگ ۹ تا دوچرخه و سه چرخه پارک شده است . اگر این وسیله ها روی هم ۲۲ تا چرخ داشته باشند ، چند تا دوچرخه و چند تا سه چرخه در این پارکینگ وجود دارد ؟

۳) + = را طوری بین رقم های روبرو قرار بده که رابطه درست باشد. ۸ ○ ۳۵ ○ ۴۳

۴) طول هر یک از خط های زیر را با خط کش اندازه بگیر و بنویس.



..... سانتی متر
..... سانتی متر
..... سانتی متر
..... سانتی متر

۵) یک سانتی متر چند میلی متر است ؟ دو سانتی متر چند میلی متر است ؟

۶) طول یک خط ۲۸ میلی متر است .

الف) آن را رسم کنید .

ب) طول این خط سانتی متر و میلی متر است .

۷) در خط کش، هر ۱ سانتی متر به چند قسمت کوچک تقسیم شده است ؟

- اندازه ی مدادت سانتی متر و قسمت کوچک است .

- آیا می دانی که به هر یک از قسمت های کوچک چه می گویند ؟

۸) اندازه ی دقیق وسایل زیر را بنویس.

- دارازای کتاب کار و تمرین :

- طول مداد قرمز:

۹) در هر مورد چه عددی است ؟

+ ۲۱ = ۵۰

+ ۲۰ = ۴۳

نام و نام خانوادگی :

بسمه تعالی

پایه دوم

علوم

۱) امروزه در بعضی از کشورها از و برای پختن غذا و تولید برق استفاده می‌شود.

- (۱) نور- ویژگی خورشید
(۲) گرما، نور خورشید
(۳) گرما- انرژی بخار
(۴) بخار آب و نور لامپ

۲) یکی از مهم‌ترین انرژی‌های جایگزین نفت و گاز است.

- (۱) باد
(۲) نور و گرمای خورشید
(۳) گرمای آب جوش
(۴) هوای طوفانی

www.mamplus.com

۳) کدام دسته از وسایل به سوخت نیاز ندارند؟

- (۱) قایق بادبانی- دوچرخه- اتومبیل
(۲) دوچرخه- قایق پارویی- هواپیمای جت
(۳) دوچرخه- قایق پارویی- قطار
(۴) دوچرخه- قایق پارویی- بادبادک

۴) داشتن خانه‌هایی با نور زیاد خورشید در مصرف صرفه‌جویی می‌نماید.

- (۱) انرژی گرمایی
(۲) انرژی برق
(۳) سوخت
(۴) گاز

۵) با تمام شدن سوخت‌ها..... برای ما اتفاق می‌افتد.

- (۱) گرفتاری‌های زیاد
(۲) مشکلات زیادی
(۳) دردسرهای زیادی
(۴) هر سه گزینه صحیح است.

۶) اگر سوخت‌ها تمام شوند؛

- (۱) گرم کردن خانه‌ها دشوار می‌شود.
(۲) رفت و آمد با اتومبیل دشوار می‌شود.
(۳) امکانات زندگی راحت، از دست می‌رود
(۴) هر سه گزینه صحیح است.

۷) اگر دوباره به عقب برگردیم و از چوب درختان به عنوان سوخت استفاده کنیم،.....

- (۱) هوا آلوده‌تر می‌شود.
(۲) جنگل‌ها به سرعت نابود می‌شوند.
(۳) قیمت چوب کم می‌شود.
(۴) چوب با ارزش نمی‌شود.

۸) در پمپ بنزین چه سوخت‌هایی وجود دارد؟

- (۱) نفت
(۲) گاز و بنزین
(۳) گازوئیل
(۴) گاز- گازوئیل- بنزین

۹) انرژی از انرژی‌های تمام شدنی هستند.

- (۱) باد
(۲) آب
(۳) خورشید
(۴) نفت و گاز

"به نام خدا"

نام و نام خانوادگی:

آزمون مداد کاغذی درس: فارسی

پایه: دوم دبستان

تاریخ:

سال تحصیلی:

مدت آزمون: ۶۰ دقیقه

۱- عزیزم! با کلمات زیر جمله بسازید.

خوش اخلاق :

پاکیزه ای :

۲- هم معنی کلمات زیر را بنویسید.

آرام : کثیف : مواظبت : بیمار : برنا :

۳- مخالف کلمه های زیر را بنویسید.

همیشه ≠ خواب ≠ سالم ≠ زیاد ≠ پیر ≠

www.mamplus.com

۴- گلم! جمله ها را کامل کنید.

به کسی که سواد دارد، می گویند.

به کسی که هدف ندارد، می گویند.

درخت ها ، یعنی ، عمه می گویند.

به جایی که در آن پارچه می فروشند، می گویند.

آن کتاب یعنی کتابی که است.

نام و نام خانوادگی:

پایه: دوم دبستان

آزمون مداد کاغذی درس: فارسی

۵. دخترم! صدای آخر هر کلمه را زیر آن بنویس.

مصطفی	دارو	ساری	خانه	نگاه	عیسی
.....

۶- دور کلماتی که درست نوشته شده اند، خط بکشید و سپس صحیح کلمات نادرست را بالای کلمه بنویسید.

یحیی، مثلن، دوست خوب، لطفاً، کبرا، حتا، خشحال، خوش مزه، صاحبه گوسفندها، حتمن

۷- جمله های زیر را با کلمه داخل کمانک پرسشی کنید و علامت مناسب در آخر جمله بگذارید و بنویسید.

..... میکروب ها موجودات خطرناکی هستند.(آیا)

..... نوشا از آموختن خسته شد.(چرا)

www.mamplus.com

۸. دلبندم! کلمه های زیر را مرتب کنید و جمله ای درست بنویسید.

دو برادر - گرفتند - یاد - بگیرند - تازه ای - تصمیم - چیزهای .

.....

شاداب - کسی - این - را - پرورش - گل های - چه - می دهد؟

.....

باز خورد معلم برای من:

موفق باشید

به نام پروردگار مهربان
نام و نام خانوادگی :

آزمون مدادکاغذی نگارش نوبت دوم

پایه ی دوم
مورخ:

1_ جاهای خالی را با کلمات مناسب پرکن عزیزم.

قورباغه از مورچه است.	وضوخانه یعنی
بیننده + ان می شود.....	آهنگ ساز یعنی.....
شکلات ها یعنی	رفسنجانی یعنی
به کسی که سواد دارد..... می گویند.	آزمایشگاه یعنی
دختر خاله از بستگان	بی حوصله یعنی
نابینا یعنی	کتاب فروشی یعنی.....

2_ جمله ی زیر را مرتب کن عزیزم.

www.mamplus.com

فردوسی ، کشید ، زحمت ، تا ، شاهنامه ، سی سال ، کتاب ، نوشت ، را

3_ جمله های زیر را با توجه به کلمه ی داخل کمانک تغییر بده بنویس گلم.
ما با دوستانمان به گردش علمی رفتیم . (هفته ی آینده)

من به دانش آموزان هدیه دادم . (شما)

4_ هم معنی کلمات زیر را بنویس دخترم.

خلق کرده است : یاری : سوال کرد :

5_ جمله ی زیر را پرسشی کن گلم.

سنجاقک زیبا درباغ پرواز می کرد.



6_ با کلمه ی سیر دو جمله با معنای متفاوت بنویس عزیزم.

سیر:

سیر:

خواننده

معمولاً

هم کلاسی

مرتضی

7_ پاسخ درست را به جمله ی مربوط به خود وصل کن دخترم.

یک کلمه که حرف ((ی)) در آخر ان صدای (آ) بدهد .

یک کلمه که آخر ان ها صدای (=)

یک کلمه که با ((هم)) شروع شده باشد.

یک کلمه که آخر ان نشانه ی (ا) داشته باشد.

8_ مخالف کلمه های زیر را بنویس نازنینم.

دوست ≠ بلند ≠ گرم ≠

www.mamplus.com



9_ کلمه ی مشترک را پیدا کن گلم.

پرواز_ پرنده_ پراکنده_ پروانه

10_ هر یک از صداهای زیر مربوط به چیزی یا حیوانی است؟

واق واق: خش خش: شرشر:

11_ برای تصویر زیر یک متن کوتاه بنویس(از سه جمله کمتر نباشد)

بسم الله الرحمن الرحيم



.....

.....

.....

- حاصل عبارت های زیر را به دست آورید.



$$500 + 200 + 6 + 80 = \dots\dots\dots$$

$$40 + 700 + 20 + 100 + 3 + 4 = \dots\dots\dots$$

$$60 + 9 + 100 + 500 + 20 = \dots\dots\dots$$

۱

- رقم ۹ در اعداد زیر چه مرتبه ای (ارزش مکانی) دارد؟

$541 + 8$

$571 + 400$

۷ هزار تایی، ۴۰ صدتایی، ۲ هزار تایی

چهار هزار تایی، دویصده تایی و نه یکی

692

۲



- گسترده اعداد زیر را بنویسید.

$841 = \dots\dots\dots$

$920 = \dots\dots\dots$



$658 = \dots\dots\dots$

$403 = \dots\dots\dots$

۳

- برای عدد های زیر با رسم شکل (دسته های صدتایی، ده تایی و یکی) نشان بده.

www.mamplus.com

$412 =$

$602 =$

۴

- اعداد زیر را روی چرتکه نشان دهید.

۸ صدتایی، ۹ ده تایی و ۲ یکی / ۴ سکه ۱۰۰ تایی، ۵ سکه ۱۰ تایی و ۳ سکه یکی



۵



به نام خدا

مرکز آموزشی دخترانه غیردولتی دوزبانه هوشمند پیوند

نام و نام خانوادگی: نام آموزگار: ره آورد پایه سوم تاریخ:

۱- با رقم های ۷ و ۴ و ۸ بزرگترین و کوچکترین عدد سه رقمی را بنویسید. سپس اختلاف آن دو عدد را بدست آورید.

۲- ۳ صدتایی و ۶ دهه تایی و ۹ یکی می شود.....

۷ یکی و ۴ صدتایی می شود.....

۳- باز شده ی عددهای زیر را بنویسید.

۶۲۷-----

۴۳۱-----

۵۰۹-----

۴- مقایسه کن و علامت (> < =) بگذارید.

۵۰۰+۲۰۰ ○ ۵۰۰-۲۰۰

۳۰۰+۱۰+۵ ○ ۳۰۰+۲۰+۵

۶۷ ○ ۷۶

۳۰۱ ○ ۲۰۹

۵- تعداد دانش آموزان کلاس اول و دوم مدرسه ای ۶۳ نفر است. تعداد کلاس اولی ها ۳۷ نفر است. دانش آموزان کلاس دوم چند نفرند؟

www.mamplus.com

۶- جمع و تفریق های زیر را انجام دهید.

۳۸۷

۴۶۵

۷۳۹

۶۲۴

+ ۲۹۵

- ۱۹۸

+ ۲۵۶

- ۳۱۸

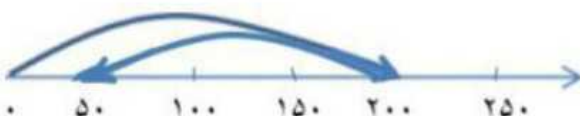
۷- الگوهای زیر را کامل کنید.

۴۷۹-۴۶۹-۴۵۹- - -

۶۲۵-۶۳۰-۶۳۵- - -

۵-۶-۸-۱۱-۱۵- - -

۸- برای محور زیر جمع یا تفریق مناسب بنویسید.



۹-فاطمه ۷۵۰تومان پول دارد که ۱۸۹ تومان از پول زهرا بیشتر است.زهرا چندتومان پول دارد؟

۱۰-زمان ۸:۲۰ را روی ساعت نشان دهید.

www.mamplus.com

فارسی

۱-جمله زیر را پرسشی کرده و در پایان علامت مناسب بگذارید.
(بچه ها در حیات ورزش می کردند.)

۲-با کلمه داده شده دو جمله بنویسید که معنی متفاوت بدهد.

خورد:

خورد:

۳-به کلمه داده شده (تر-ترین) اضافه کنید و جمله بسازید.

بلند 

۴-مرتب کن.

قول - پدرم - کند- تعریف- را - شاهنامه - برایم - داستان های - داد .

۵- دو خط درباره ی روز اول مدرسه بنویسید.

نام :
دقیقه

بسمه تعالی
آزمون ورودی فارسی

زمان : 40

نام خانوادگی :
گمینونر گ

پایه سوم
دبستان دهخدای لوشان

تاریخ :
طراح : محسن

1- چهار کلمه بنویس که با « هم » شروع شده باشد .

--	--	--	--

2- کلمه های زیر را با توجه به ویژگی نشانه ی (و) دسته بندی کن .

www.mamplus.com

- بگویند
- خواندن دوباره
گوش - سرو
خودکار - خواهش
وفادار

خواهر	دستور	خوشحال	نوشتن

3- از میان کلمه های زیر کدام می تواند تنوین بگیرد . آن ها را پیدا کنید ، سپس با تنوین بنویسید .
مثال : لطف ← لطفاً

- مغل - لبخند
- مسافرت معمول
آموزگار - کامل هویج
- فعا

←	←
←	←

4- جمله های زیر را مانند نمونه پرسشی کن و با علامت مناسب ، دوباره بنویس . مثال : چرا مژگان به مسافرت رفت ؟

سعید ، درفش را خواند .
.....

5- کلمه های درهم ریخته را مرتب کن و بنویس .
الف (نگه داری - چوپان - می کرد - از - گوسفندان

.....

ب) دارد - آدم های - خدا - راست گو - را - دوست

.....

6- مخالف هر کلمه را بنویس . شروع ←

درست ←
تاریک ←

بالا ←

7- با حروف درهم ریخته ، کلمه بنویس . ق - ر - ط - ه :
ح - ن - ت - ص - ی :

قوی
سوال کرد
خیلی
غمگین

ناراحت
نیرومند
پرسید
زیاد

8- کلمه های هم معنا را به هم وصل کن .

www.mamplus.com

9- کلمه های زیر را با توجه به نشانه ی آخرشان دسته بندی کن .



نشانه ی (ه)	نشانه ی (ل)

10- جاهای خالی را پر کن .

به محل آموزش می گویند . خراسانی یعنی کسی که
اهل است . آن که نمی شنود ، است .
اداره کار می کند ، می گویند .
به کسی که در

11- با هر کلمه ، دو جمله با معنی متفاوت بنویس .

سیر :
سیر :

12- با توجه به نمونه ، سه کلمه ی دیگر بنویس که حرف « ی » در پایان آن کلمه ها صدای « آ » بدهد . مثال ←
کبری

13 - کلمه های زیر را با « ان » جمع ببندید ، سپس کلمه ی جدید را بنویس .

درخت + : ستاره + :

گرسنه + : گوسفند + :

انتظارات آموزشی	سطح نام	سطح خوب	متوسط	کم	خیلی کم
1- می تواند با پیشوند « هم » کلمه بنویسد .					
2- کلمه ها را با توجه به ویژگی نشانه ی « و » دسته بندی می کند .					
3- می تواند کلمه های تنوین دار بنویسد .					
4- جمله ها را پررشتی می کند .					
5- کلمه های در هم ریخته را مرتب می کند .					
6- مخالف کلمه ها را می نویسد .					
7- با حروف در هم ریخته ، کلمه می نویسد .					
8- معنای کلمه ها را به هم وصل می کند .					
9- کلمه ها را با توجه به نشانه آخرشان دسته بندی می کند .					
10- جاهای خالی را با کلمه ی مناسب پر می کند .					
11- با کلمه های هم آوا ، جمله های متفاوت می نویسد .					
12- می تواند کلمه هایی که حرف آخرشان صدای « آ » می دهد بنویسد .					
13- کلمه ها را با « ان » جمع می بندد .					

نظر آموزگار :

، فارسی ورودی دوم به سوم

آموزگار: خانم سالومه علی نژاد

۱- دانش آموز گلم پاسخ مناسب را علامت بزن.

- (الف) مردم فقط برای نماز خواندن به مسجد می روند.
(ب) همین کتاب، یعنی کتاب نزدیک است.
(ج) سفالگر با گل چیزی می سازد.
(د) پرچم همه کشورها سه رنگ دارد.
- درست - نادرست
درست - نادرست
درست - نادرست
درست - نادرست

۲- نوگلم گزینه صحیح را انتخاب کن.

* کدام گزینه ی زیر را می توانیم برای پیدا کردن پاسخ پرسش های خود استفاده کنیم؟

- (الف) مجله (ب) رایانه (ج) افراد دانا (د) همه موارد
- * در داستان کوشا و نوشا از کدام شاعر نام برده شده است ؟
(الف) سعدی (ب) فردوسی (ج) حافظ (د) شعبان نژاد
- * کدام یک از کلمات زیر با بقیه ارتباط ندارد؟
(الف) آهنگساز (ب) موسیقی دان (ج) سفالگر (د) سرود
- * کدام یک از کلمات زیر با واژه "گر" واژه ی صحیح نمی سازد؟
(الف) پرسش (ب) بازی (ج) نقشه (د) سفال

www.mamplus.com

۳- برای هر کدام از کلمه های زیر مانند نمونه یک کلمه با تر و ترین بنویس.

مانند: زیبا: زیباتر
بزرگ: شیرین:

۴- جمله های زیر را کامل کنید:

- ❖ من فردا مطالعه خواهم کرد.
- ❖ تو
- ❖ او
- ❖ ما
- ❖ شما
- ❖ آن ها (ایشان)

۵- به سوالات زیر پاسخ دهید.

الف) با کلمات زیر جمله بسازید:

پروانه:

آرام آرام:

باران:

جانوران:

تشنگان:

زیارت:

ب) معنی هر یک از کلمات زیر را بنویس.

خوشحال: تلاش: عظیم: منظمی:

ج) بستگان پدر و مادر را کامل کنید.

بستگان پدر:

بستگان مادر:

www.mamplus.com

۶- دانش آموز زرنگم جاهای خالی را کامل کنید.

باادب یعنی:

هنرمند یعنی:

آهنگر = آهن +

ستمکار = +

۷- برای هر کدام از کلمه‌های زیر مانند نمونه یک صفت مناسب بنویس.

مثال: دختر زیبا

درخت:

کتاب:

تراش:

عروسک:

۸- مخالف کلمات زیر را بنویس.

زیاد: بزرگ: گرما:

روز: زشت: ترسو:

۹- به هر کلمه "ها" اضافه کن و معنی آن را بنویس.

گوسفند+ها =

درخت+ها =

کتاب+ها =

۱۰- ۵ کلمه تنوین دار بنویس.

مثال: حتماً

۱۱- عزیزم کلمه‌های زیر را با توجه به نشانه آخرشان دسته‌بندی کن.


"کوه - کاسه - میوه - راه - باله - خانه - شانه - فایده - راه"

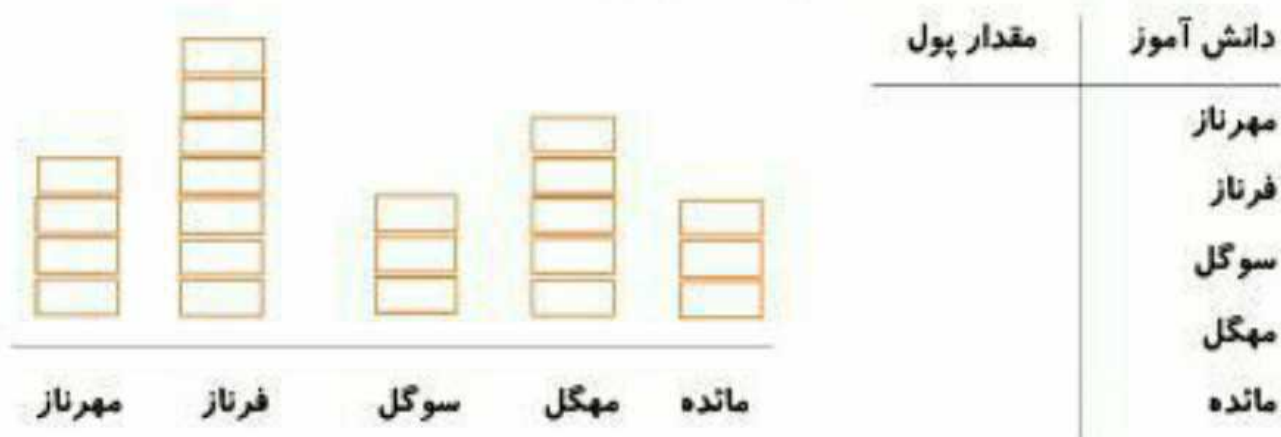
نشانه‌ی "ی"	نشانه‌ی "ای"

www.mamplus.com

۱۲- یک جمله سؤالی (؟) و یک جمله تعجبی (!) بنویس.

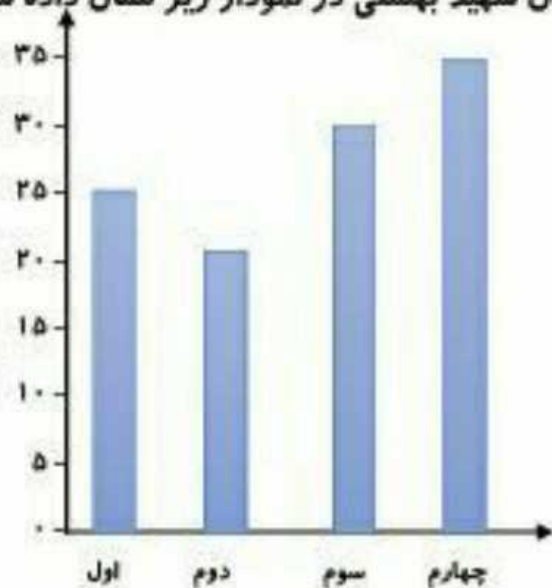
بستلی


۱- مقدار پول تقریبی ۵ دانش آموز را در نمودار تصویری زیر مشخص کرده ایم. اگر هر ۱۰۰ تومان را  نشان دهیم، با توجه به نمودار، جدول را کامل کنید.




www.mamplus.com

۲- تعداد دانش آموزان پایه های اول تا چهارم دبستان شهید بهشتی در نمودار زیر نشان داده شده است.



الف) نمودار تصویری تعداد دانش آموزان پایه های اول تا چهارم این دبستان را رسم کنید. (هر ۵ دانش آموز را با یک  نشان دهید.)



۳- تعداد درختان یک باغ در جدول زیر مشخص شده است. اگر هر ۱۰ درخت را با \triangle نشان دهیم جدول را کامل کنید.

نام درخت	تعداد	نمودار تصویری
انجیر	۷۰	
انگور	۴۵	
انار	۳۰	
هلو		$\triangle \triangle \triangle \triangle \triangle$
زرد آلو		$\triangle \triangle \triangle \triangle \triangle \triangle$

www.mamplus.com

۴- جدول را کامل کنید.

۳۲۷	$+200$	
		۹۶۴
۵۳۹		
		۶۱۷
۴۸۳		
		۵۹۴

۵- در هر سال ۳۶۵ روز است اگر بهار ۹۳ روز باشد و پاییز هم ۹۰ روز باشد:

الف) فصل بهار و پاییز چند روز است؟

ب) فصل زمستان و تابستان چند روز است؟

۶- یک قفسه کتابخانه ۶ طبقه دارد. در هر طبقه ۲۰ کتاب قرار دارد. در این قفسه چند کتاب وجود دارد؟

الف) با کامل کردن جمله جواب را بدست آورید؟ تا تایی می شود تا
ب) شکل بکشید.

۷- در یک کلاس ۸ میز و نیمکت چیده شده است روی هر میز و نیمکت ۳ نفر نشسته اند. این کلاس چند دانش آموز دارد.

..... تا تایی می شود تا

۸- برای عبارت مقابل مسئله بنویسید. (۵ تا دو تایی می شود ۱۰ تا)

۹- کیان وقتی بیدار شد ساعت ۴ و ۲۰ دقیقه بود. او یک ساعت و نیم خوابیده بوده. کیان چه موقع خوابیده است؟

۱۰- مرتضی وقتی به دنیا آمد که مادرش ۲۷ ساله بود. مرتضی ۱۵ سال قبل به دنیا آمد. مادر مرتضی چند ساله بود وقتی مرتضی ۶ سالگی خود را جشن گرفته است؟

فارسی www.mamplus.com

۱- کلمه ها را از نظر معنی از کوچک به بزرگ مرتب کنید.

شهر- استان - خانه - مدرسه - کشور

بهار- سال- هفته - روز - ماه

۲- با کلمه های داخل پرانتز جمله را کامل کنید.

- با پدر و مادرم کنار رودخانه (نشسته بودند، نشسته بودیم، نشسته بودم)
- یک باره باد تندی وزید و خاک را بر سر و رویمان (ریختی، ریختم، ریخت)
- در همین موقع صدای گنجشکی را شنیدم (قارقار، هو هو، جیک جیک)
- معلوم بود پرنده از پایین افتاده است. (خانه اش، لانه اش، قفسش)
- بال زخمی او را بستم تا بتواند دوباره (پرواز کند، راه برود، شنا کند)

۳- شعر زیر درباره ی باز شدن مدرسه است. شعر را بخوانید و به سوالات پاسخ دهید.

- | | |
|--------------------|-------------------|
| باز شد مدرسه ها | * من به همراه پدر |
| فصل آموزش و درس | * روز اول رفتم |
| فصل دانایی ها | * دوستت دارم را |
| من از این فصل قشنگ | * به معلم گفتم |
| خاطراتی دارم | * |
- در شعر " فصل آموزش و درس، فصل دانایی ها " به نظر شما منظور شاعر کدام فصل سال است؟
 - نام های این فصل را نام ببرید؟
 - هر ماه این فصل چند روز و چند هفته دارد؟

۱. عددهای زیر را به رقم و حروف بنویس.

۶۱۸: هشتصد و نه:

۵۱۷: چهارصد و چهل:

۲. با رقم‌های ۴، ۳ و ۵ همه عددهای سه رقمی بدون تکرار ارقام را بنویس.

.....

۳. ساعت‌های زیر، چه زمانی را نشان می‌دهند.

www.mamplus.com



..... دقیقه مانده به



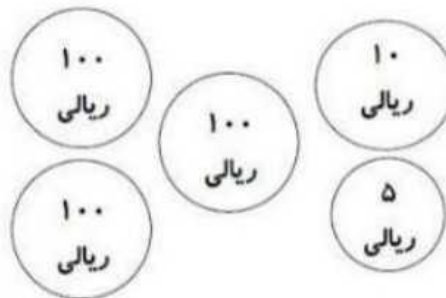
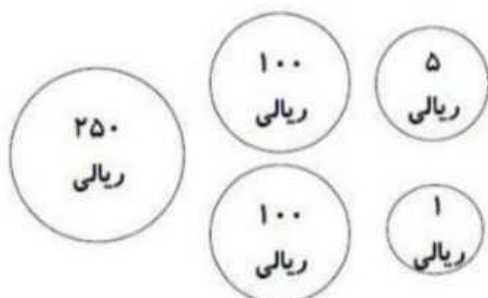
..... ساعت

ساعت

۴. در جاهای خالی علامت‌های $<$ $=$ $>$ قرار بده.

$$۲۰ + ۴۰ \square ۸۰ - ۲۰$$

$$۴۰۰ + ۳۰۰ \square ۹۰۰ - ۱۰۰$$



۵. عددهای زیر را به صورت گسترده و گسترده‌ها را به صورت عدد بنویس.

۹۰۳ :

۲۱۵ :

..... : $۱۰ + ۹ + ۵۰ + ۴۰۰$

..... : $۱۰۰ + ۲۰ + ۶ + ۳۰۰$


۶. با توجه به هر شکل، عدد سه رقمی بنویس. دو عدد را با هم جمع کن. سپس اختلاف

آن‌ها را به دست آور.

www.mamplus.com

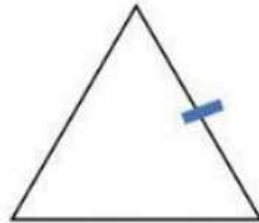
The diagram shows base ten blocks representing the numbers 300 and 120. The minuend 300 is represented by three 100 blocks. The subtrahend 120 is represented by one 100 block and two 20 blocks. The difference 180 is represented by one 100 block, one 80 block (formed by four 20 blocks), and one 10 block.

۷. طول ضلع‌هایی که علامت زده شده را با خط‌کش اندازه بگیر و بنویس.



..... سانتی‌متر

..... میلی‌متر



..... سانتی‌متر

..... میلی‌متر


۸. دو عدد سه رقمی بنویس که صدگان آنها زوج و یکان و دهگان‌شان فرد باشد.

.....

.....


۹. برای شکل روبرو، ۲ عبارت زیر را کامل کن.

www.mamplus.com



..... تا تایی می‌شود

..... تا تایی می‌شود



بله 😊 تا حدی 😐 خیر ☹️

۱. قادر به نوشتن عددها به رقم و حروف است.
۲. جمع و تفریق اعداد دورقمی را به درستی انجام می دهد.
۳. می تواند اعداد سه رقمی را با هم مقایسه کند.
۴. شمارش چندتا چندتا را به درستی انجام می دهد.
۵. ساعت را به خوبی بیان می کند.