

کاربرد و نکات تدریس
تم ۱۲ ریاضی اول دبستان

www.mamplus.com

به نام خدای زیبایی ها

کاربردگ نم 12

طراح : مهنوش حکیمی

نام زیباییت:

پسرم برای هر عدد چوب خط بکش و بین عددها یکی از علامت های < = > را بگذار.





www.mamplus.com

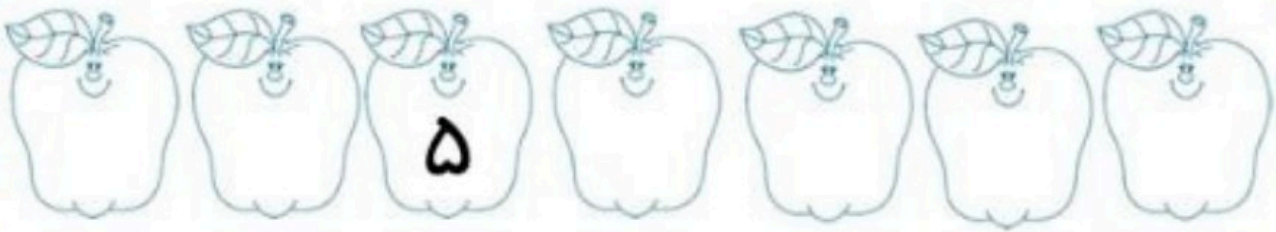
نوگلم اندازه مداد را با توجه به شکل  کشیده شده بنویس و چوب خط آن را بکش.



عزیزم عددها دسته را بنویس و شکل های دسته ی کمتر را رنگ بزن.






فرزندم اعداد قبل و بعد عدد نوشته شده را بنویس.



www.mamplus.com

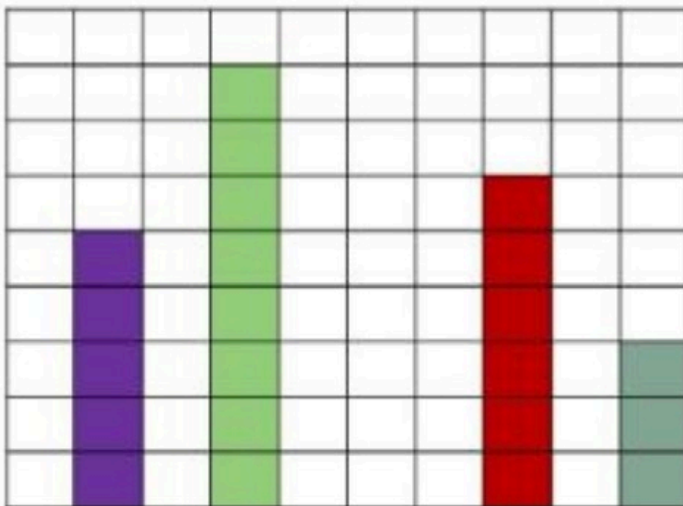


پسرم در طرف دیگر علامت عدد مناسب بنویس.



عزیزم به تعداد عدد نوشته شده از خانه های بالای آن عدد رنگ کن سپس عدد ستون های رنگ

شده را بنویس.



۴ ۹ ۶ ۷ ۵



دنیای ریاضی



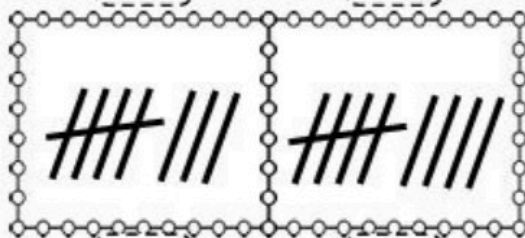
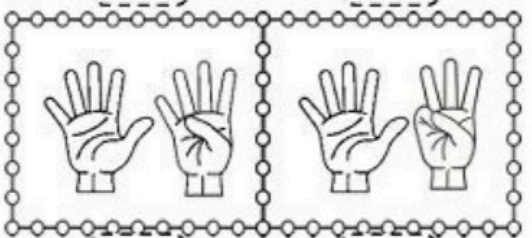

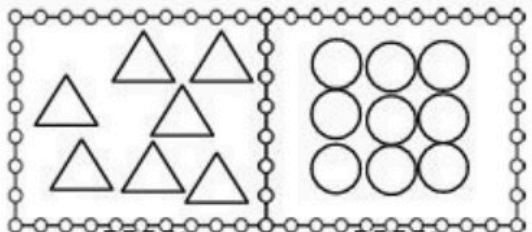
به نام فدای
مهربان

نام زیبای من :

تاریخ :

عدد هر دسته را بنویس. دسته ی کمتر را رنگ بزن.

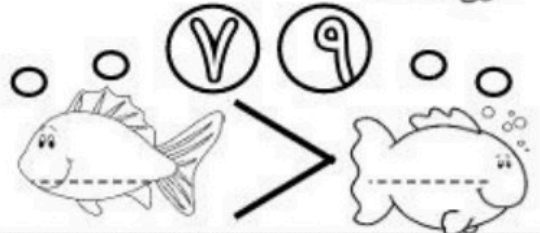
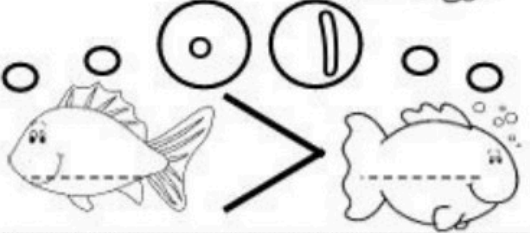
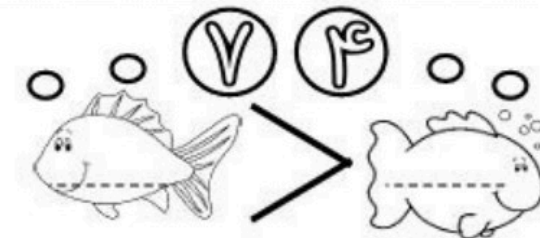
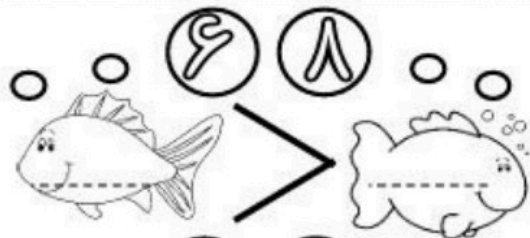
۱



www.mamplus.com

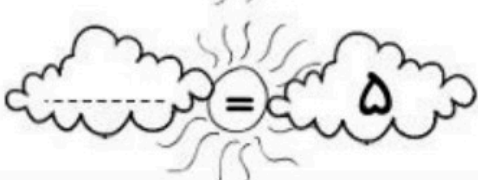





در هر دسته عدد کمتر را در و عدد بیشتر را در بنویس.

۲



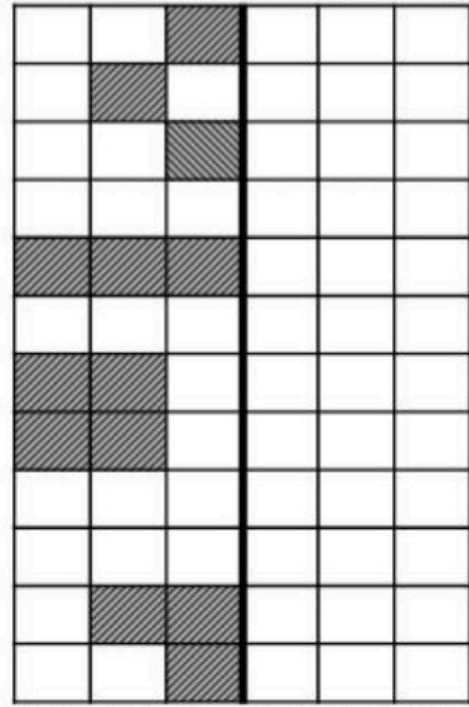
بین عددها از علامت های = یا < استفاده کن و جاهای خالی را با عدد مناسب پر کن.

۳

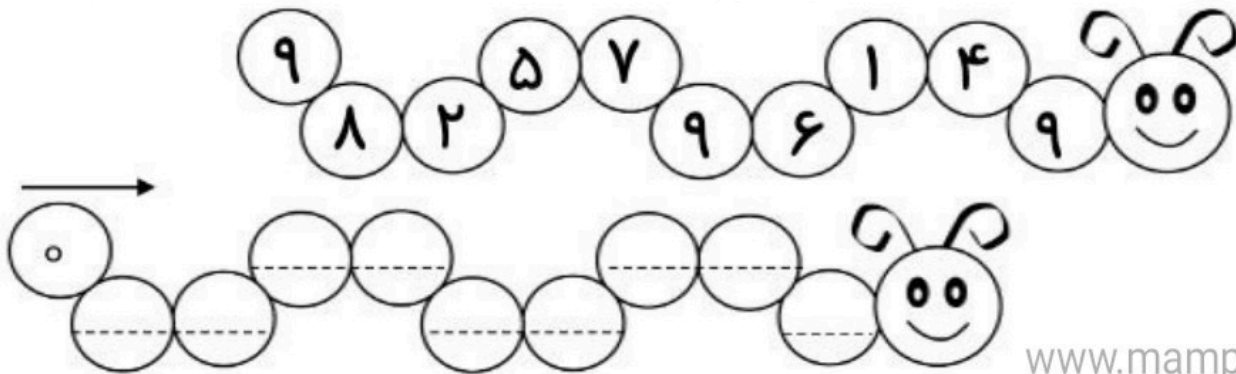


۴ مربع شگفت انگیز را کامل کن سپس در جدول سمت راست خانه ها را طوری کامل کن که دو نیمه ی آن مثل هم باشد.

۸	۳		۲	۴	۵	۶	۷	۹
۹	۲	۴	۱	۷	۶	۳		۸
۷	۶	۵	۸	۹		۴	۲	۱
	۷	۶	۳	۱	۲	۸	۹	۵
۳	۸	۲		۶	۹	۱	۴	۷
۵	۱	۹	۴	۸	۷	۲		۳
۲		۸	۹	۵	۱	۷	۳	۶
۶	۹	۳	۷		۸	۵	۱	۴
۱	۵	۷	۶	۳	۴	۹	۸	



۵ خانه ی عددهای کمتر از ۹ را رنگ کن. سپس در کرم پایینی از صفر تا نه به ترتیب بنویس.



www.mamplus.com

۶ ابتدا در هر دسته عدد بیشتر را رنگ کن. سپس آن را با چوب خط نشان بده.

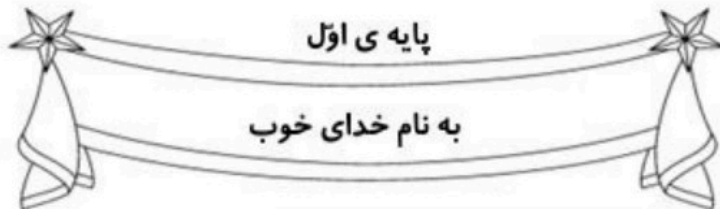
۹	۸	۱	۵	۷	۹
۱	۸	۳	۶		

نظر آموزگار:

ضعیف

متوسط

عالی

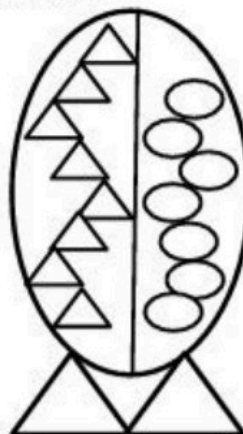
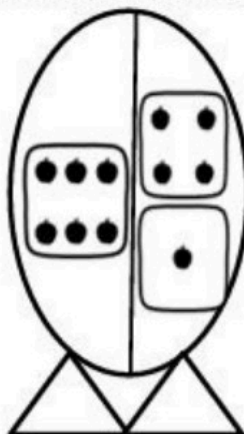
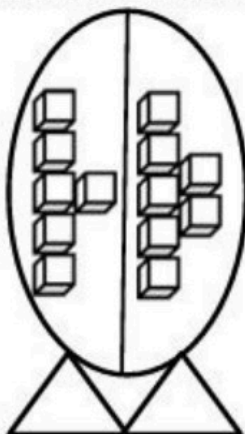
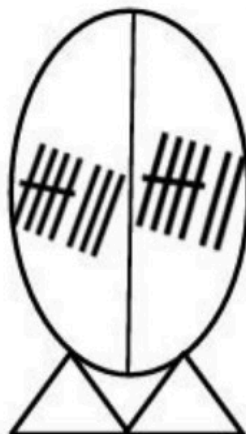


www.mamplus.com

نام زیبای من:

تاریخ:

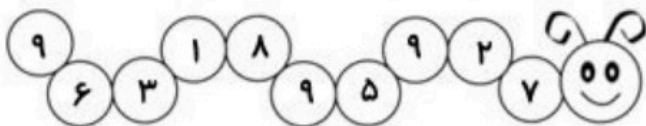
۱- عدد هر دسته را داخل مثلث ها بنویس و شکل های دسته ی کمتر را رنگ بزن.



۲- ابتدا مربع شگفت انگیز را کامل کن و سپس در جدول سمت چپ خانه ها را طوری رنگ بزن که دو نیمه مثل هم باشند.


■			
	■		
■			
	■		
■			

۹	۵	۳	۴	۱	۶	۸		۷
	۸		۳	۷		۵		۶
۶	۲	۷		۵	۸	۳	۴	۱
۸	۶	۴	۷	۹	۳		۵	۲
۳		۹	۲		۵	۶		۴
۲	۷	۵	۶	۴	۱	۹	۸	۳
۵	۳	۸	۱	۲	۷		۶	۹
۷	۴			۳		۲	۱	
۱		۲	۵	۶	۴	۷	۳	۸

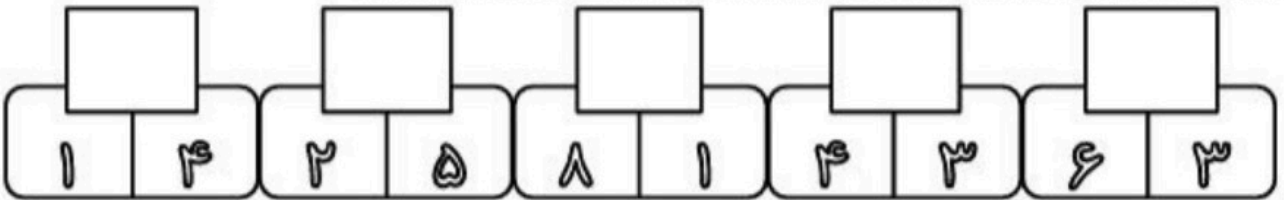


۳- خانه ی عدد های کمتر از ۹ را رنگ بزن.

۴- برای چوب خط ها عدد مناسب بنویس و دور بیش ترین عدد خط بکش.



۵- ابتدا در هر دسته عدد بیشتر را رنگ بزن و سپس آن عدد را با چوب خط نشان بده.



۶- با توجه به تعداد شکل های داخل جعبه، جدول ستونی زیر را کامل کن.



5					

www.mamplus.com

بازخورد آموزگار



خود سنجی

