



آزمون و کاربردگ فصل ۶
علوم اول دبستان
بهمراه روش تدریس

www.mamplus.com

به نام خدا

سال تحصیلی

آزمون تستی تصویری علوم فصل ششم

زمین خانه ی پر آب ما

آزمون فصل ششم

۱- از استفاده های آب نیست.



(د)



(ج)



(ب)



(الف)

www.mamplus.com

۲- کار با این وسیله نیاز به آب دارد.



(د)



(ج)



(ب)




(الف)

۳- برای تشکیل سایه در روز لازم است.



(د)



(ج)



(ب)



(الف)

۴- آب به این شکل نیست.




(د)



(ج)



(ب)



(الف)

۵- از دریا به دست می آید.



(د)



(ج)



(ب)



(الف)

۶- در آب فرو می رود.



(الف)



(ب)



(ج)



(د)

۷- آب در آنجا به بخار تبدیل می شود.



(الف)



(ب)




(ج)



(د)

۸- آب در آنجا به یخ تبدیل می شود.



(الف)



(ب)



(ج)




(د)

www.mamplus.com

۹- از موارد صرفه جویی در آب است.




(الف)



(ب)




(ج)



(د)

۱۰- برای آشامیدن مناسب است.



(الف)



(ب)



(ج)



(د)

(همکلاسی)

خیلی بلدی

(ستاره)

نام و نام خانوادگی:

به نام خدا


تاریخ:

موضوع: علوم (هدف آزمون آب و منابع و موارد استفاده از آن بخش ششم)

پایه: اول

در کدام تصویر استفاده درست از آب دیده می شود؟ علامت بزن.


www.mamplus.com



تاکنون آب را به چه شکل هایی دیده ای علامت بزن.



کدام یک از جانوران زیر در آب زندگی می کنند؟ رنگ کن.





کدام یک از وسایل زیر برای حرکت نیاز بیشتری به آب دارند؟ رنگ کن.



انجام کدام کار باعث آلودگی آب می شود؟ دورش خط بکش.



مراحل تشکیل باران در شکل زیر را به ترتیب شماره گذاری کن.



سنجه ها

www.mamplus.com

نیاز به آموزش مجدد	یادگیری قابل قبول	یادگیری کامل	انتظارات آموزشی	ردیف
			آب را به عنوان محل زندگی موجودات می شناسد؟	۱
			انواع آب برحسب حالت آن ها را می شناسد؟	۲
			موارد استفاده از آب را می شناسد؟	۳
			مراحل تشکیل ابر و باران را می شناسد؟	۴
			وسایل نقلیه ی حرکت کننده در آب را می شناسد؟	۵
			اسباب هایی که آسمان به آب ها می رساند را می شناسد؟	۶

باز خورد توصیفی معلم:

خودسنجی



من از انجام این آزمون راضی بودم؟

فصل ۶: زمین خانه پر آب ما

۱- از آب چه استفاده هایی می کنیم؟

آب می خوریم - حمام می کنیم - غذا می پزیم - به گیاهان و زمین های کشاورزی آب می دهیم - خاموش کردن آتش - مسافرت های دریایی - ورزش های آبی

۲- آب در کجا پیدا می شود؟

در بیشتر جاها - در رودخانه ها - دریا ها - آبشار ها

۳- آبی که استفاده می کنیم از کجا به دست می آید؟

از باریدن باران

۴- آیا در بدن ما ، جانوران ، گیاهان ، آب وجود دارد؟

بله

۵- چرا در مصرف آب باید صرفه جویی کنیم؟

چون آب قطع می شود و دچار بی آبی می شویم

۶- اگر آب آلوده استفاده کنیم چه می شود؟

بیمار می شویم

۷- آیا از آب دریا می توانیم بنوشیم و یا در کشاورزی استفاده کنیم؟

خیر چون شور است

۸- موقع مسواک زدن باید چه کار کنیم تا آب هدر نرود؟

یک لیوان آب برمی داریم و شیر آب را می بندیم و بعد مسواک می زنیم

۹- چه جانورانی در آب زندگی می کنند؟

ماهی - لاک پشت - تناسخ - کوسه - نهنگ

۱۰ - چه کار کنیم تا آب را پاکیزه نگه داریم ؟

آشغال و پوست میوه را در جوی آب ، رود خانه ها نریزم

۱۱- چرا آب چاه ها و آبی که داخل زمین است برای ما انسان ها قابل استفاده

نیست ؟

چون این آب ها آلوده و شور هستند و برای استفاده ی ما انسانها مناسب نیست و باید تصفیه شوند .

۱۲- انواع کشتی ها را نام ببرید ؟

کشتی صیادی - کشتی مسافری - کشتی نفتکش

۱۳- چرخه آب را توضیح دهید؟

نور خورشید به آب های روی زمین می تابد و آب در اثر گرمای خورشید بخار می شود و به آسمان رفته و به صورت ابر در می

آید و با برخورد ابرها با هم بارندگی به وجود می آید و آب دوباره به زمین برمی گردد و این چرخه ادامه می یابد

www.mamplus.com

۱۴- آب شهر ها و روستا ها از کجا تامین می شود ؟

بیشتر از آب باران که در پشت سدها نگهداری می شود تامین می شود

۱۵- چرا باید از آلودگی آب ها جلوگیری کنیم ؟

چون زندگی تمام موجودات به آب بستگی دارد و اگر آب آلوده شود هیچ موجودی نمی تواند زنده بماند