



آزمون و کاربردگ فصل ۵
علوم اول دبستان
همراه با نکات مهم

www.mamplus.com




نام و نام خانوادگی:
کلیبرگ شماره ۵

به نام خدا
دبستان دخترانه غیر دولتی الفعیر
سال تحصیلی
دنیای گیاهان

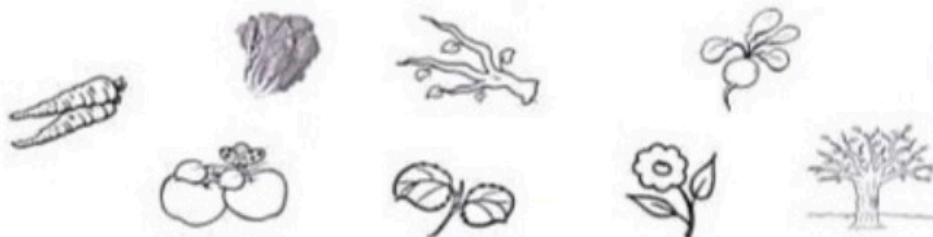


۱. گیاهان را رنگ کن.




www.mamplus.com


۲. گیاهان خوراکی را داخل خط بسته نگه دار.



۳. نام قسمت های مختلف گیاهان را بنویس.




۴. کدام یک از گیاهان زیر زودتر پژمرده می شود؟ علامت بزن.



۵. ریشه های خوراکی را به سبد وصل کن.




۶. یک گیاه کامل در گلدان بکش.




www.mamplus.com


۷. ساقه ی خوراکی را رنگ کن.



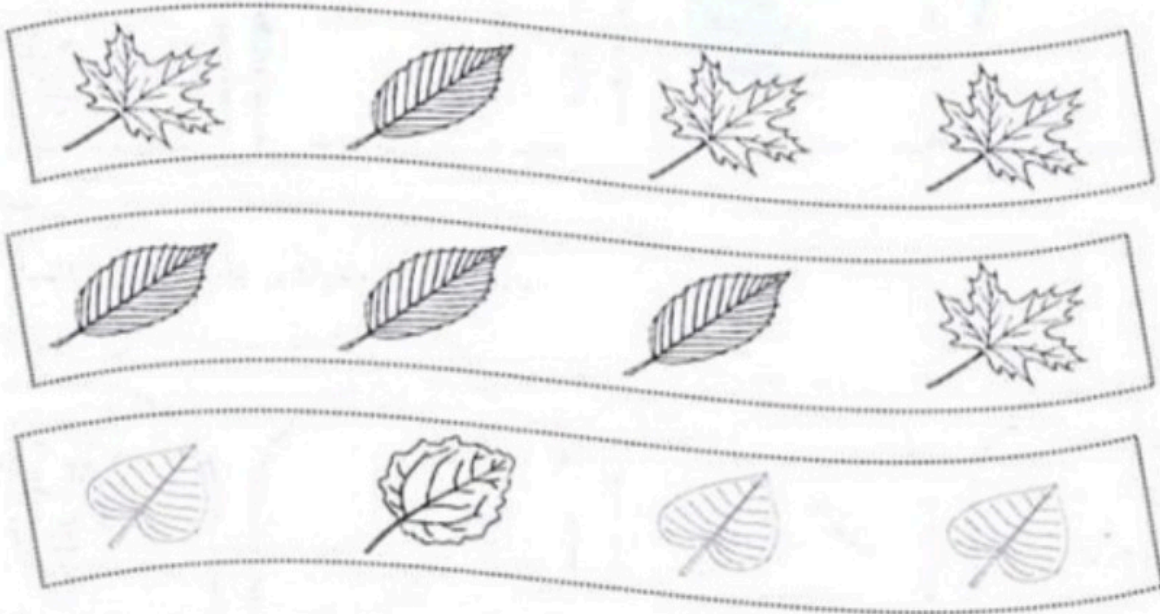
۸. وسایل زیر از کدام قسمت گیاه به دست آمده وصل کن.



۹. برگ گیاهان زیر را رنگ کن.




۱۰. در هر ردیف برگی که با برگ های دیگر فرق می کند رنگ بزن.

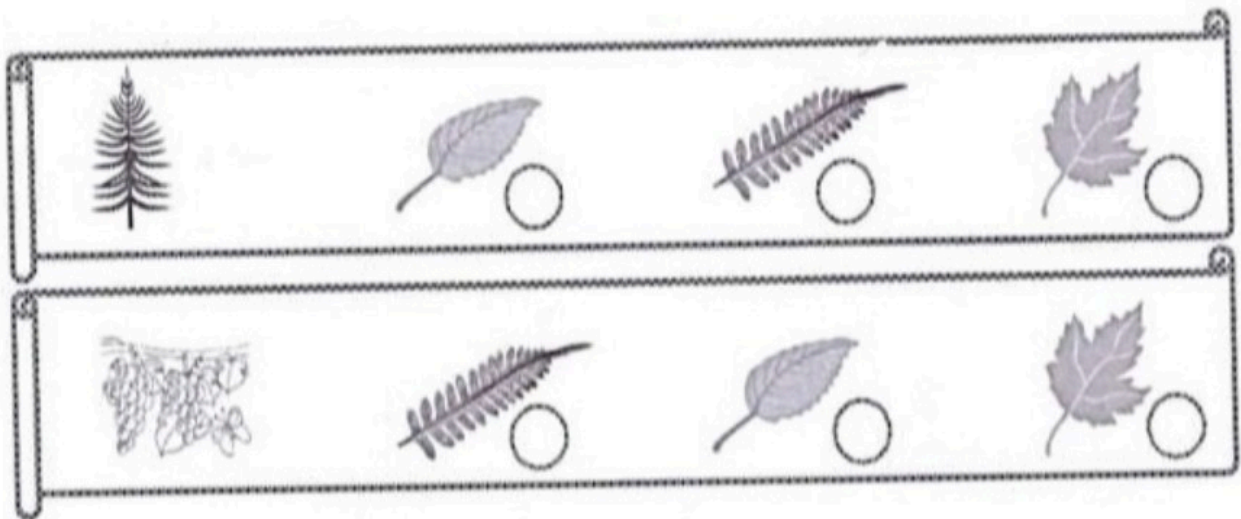


www.mamplus.com

۱۱. شکل چند برگ را که تا به حال دیده ای بکش.



۱۲. برگ مربوط به هر گیاه را علامت بزن.







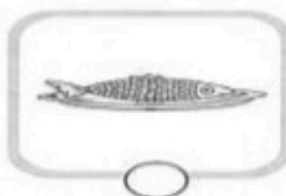


ابزاره ی سوالات در صفحه ی بعد

۱۳. گل ها را قرمز، برگ ها را سبز و ساقه ها را قهوه ای رنگ کن.

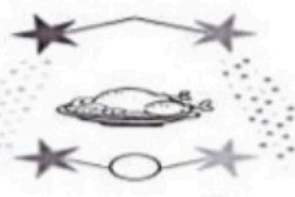
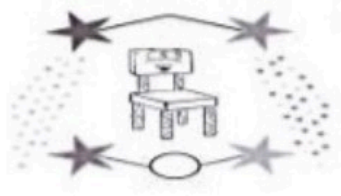




www.mamplus.com

۱۴. کدام یک از خوراکی های زیر از گیاه به دست می آید.



۱۵. کدام یک از تصاویر زیر فایده های گیاهان را نشان می دهد؟



به نام خدا

سال تحصیلی ۹۷-۹۸

آزمون تستی تصویری علوم فصل پنجم

گیاهان

آزمون فصل پنجم

۱- ریشه آن خوراکی است.



(د)



(ج)



(ب)



(الف)

www.mamplus.com

۲- دانه آن خوردنی است.



(د)



(ج)



(ب)



(الف)

۳- در این فصل برگ ها جوانه می زند.



(د)



(ج)




(ب)



(الف)


۴- به گیاه آب می رساند.



(د)



(ج)



(ب)




(الف)


۵- این قسمت به میوه تبدیل شود.



(د)



(ج)



(ب)



(الف)

۶- کدام یک میوه است؟



(الف)



(ب)



(ج)



(د)

۷- کدام گیاه روغن دارد؟



(الف)



(ب)



(ج)



(د)

۸- کدام برگ را می خوریم؟



(الف)



(ب)



(ج)



(د)

www.mamplus.com

۹- از گیاهان به دست می آید.



(الف)



(ب)



(ج)



(د)

۱۰- به گیاهان آسیب می رساند.



(الف)



(ب)



(ج)



(د)

(ستاره)

گل گفتی آی گل گفتی

(همکلاسی)



به نام خداوند مهربانی ها

نوع آزمون: فردی

آزمون عملکردی علوم (گیاهان) پایه ی اول دبستان

نام و نام خانوادگی:

زمان آزمون: ۲۰ دقیقه

دبستان ارجمندی

تاریخ: _____

هدف یادگیری: قسمت های مختلف یک گیاه را یاد گرفته و اثر آن در تکمیل و طبقه بندی شکل استفاده می کند.

شواهد یادگیری: (-) قسمت های مختلف یک گیاه را درست تشخیص داده است.

۲- گیاهان را به طور صحیح طبقه بندی کرده است.

مادر زینب می خواست ترشی درست کند. او گیاهان مختلف را خرابه بود شسته بود و می خواست آن ها را خرد کند. زینب هم به مادرش کمک می کرد. مادر به زینب گفت: دخترم تا من بروم ناهار را آماده کنم شما این گیاهان را در ۳ سبد جداگانه بگذار تا من راحت تر آن ها را خرد کنم.

شما هم به زینب خانم کمک کن تا این طبقه بندی را درست انجام دهد و به سوالات هم پاسخ بدهد.

www.mamplus.com

وسایل لازم: مداد ، هیسب ، قیچی ، مداد رنگی، پاکن



۱- در گیاه زیر ریشه را زرد، برگ ها را اسپز، گل را قرمز و ساقه را قهوه ای کن.

۲- کدام قسمت گیاه آب را از خاک می گیرد؟ -----

۳- کدام قسمت گیاه به میوه تبدیل می شود. شکل آن را بکش.



۴- گیاهانی که ریشه ی خوراکی دارند از قسمت پایین جدا کن و در ظرف شماره ۱ بچسبان.

۵- گیاهانی که ساقه ی خوراکی دارند از قسمت پایین جدا کن و در ظرف شماره ۲ بچسبان.



۶- گیاهانی که برگ خوراکی دارند از قسمت پایین جدا کن و در ظرف شماره ۳ بچسبان.



۳

۲


۱



جدول راهنمای توصیف عملکرد

یادگیری کامل	یادگیری قابل قبول	یادگیری نیاز به اصلاح	سنجه ها
			ریشه ی گیاهان را درست تشخیص داده است.
			ساقه ی گیاهان را درست تشخیص داده است.
			پرگ گیاهان را درست تشخیص داده است.
			کارکرد ریشه را در گیاه نام برده است.
			کارکرد گل را در گیاه نشان داده است.
			پارخورد توصیفی:

www.mamplus.com



نام و نام خانوادگی:

به نام خدا

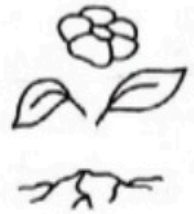

تاریخ:

موضوع: آزمون علوم (هدف آزمون قسمت های مختلف گیاهان فواید و رشد گیاهان بخش پنجم)
پایه: اول

دور گیاهان خط بکش.



تصویر هر کدام از گیاهان زیر را کامل کن. www.mamplus.com



کدام یک ریشه ی خوراکی است ؟ رنگ کن.



دانه های کدام یک خوراکی است ؟




کدام قسمت گیاه به میوه تبدیل می شود ؟ بکش.

دانه درون کدام یک از قسمت های زیر است ؟



هر کدام از مواد زیر از کدام گیاه به دست آمده؟ وصل کن.



سنجه ها

نیاز به آموزش مجدد	یادگیری قابل قبول	یادگیری کامل	انتظارات آموزشی	ردیف
			گیاهان را می شناسد؟	۱
			انواع ریشه ها بر حسب خوراکی و غیر خوراکی بودن آن ها می شناسد؟	۲
			موارد استفاده از گیاهان را می شناسد؟	۳
			غذاهایی که از گیاهان به دست می آید را می شناسد؟	۴
			قسمت های مختلف گیاهان را می شناسد؟	۵
			مراحل رشد گیاهان را می شناسد؟	۶

باز خورد توصیفی معلم:

www.mamplus.com

خودسنجی



من از انجام این آزمون راضی بودم.