

# آزمون ورودی اول به دوم ابتدایی



WWW.MAMPLUS.COM

طراح: سہم نجفی



آزمون ورودی پایه دوم

به نام خدا

کلاس :

نام و نام خانوادگی :

سلام بچه ها : پاسخ درست را با علامت\* در پاسخ نامه مشخص کنید . موفق باشید .....

۱- زهرا خانم ۹ عدد سیب دارد . اگر او ۳ عدد از آنها را به خواهرش بدهد آنگاه برای او چند عدد سیب باقی خواهد ماند ؟

الف) ۷ عدد ب) ۶ عدد ج) ۵ عدد د) ۸ عدد

۲- به شکل ها نگاه کنید و بگویید از بلندگوی آخر چه عددی بیرون می آید ؟



الف) ۸۰ ب) ۹۰

ج) ۷۱ د) ۷۰

۳- اگر در جدول ۷ یکی و شش ده تایی داشته باشیم آنگاه چه عددی خواهیم داشت ؟

الف) هفتاد و شش ب) شصت و هفت ج) هفده د) سیزده



الف) ۵۴ ب) ۹ ج) ۴۵ د) ۹۰

۴- شکل مقابل چه عددی را نشان می دهد ؟

۵- کدام حیوان از بقیه سنگین تر است ؟



د



ج




ب



الف

۶- اگر از سیب های مقابل ۳ تا سیب را بخوریم آنگاه.....



الف) ۴ ب) ۴ تا می شود .

ج) ۴ تا باقی می ماند. د) ۳ تا می شود.

۷- کدام عبارت برای شکل مناسب تر است ؟

الف)  $8 - 6 = 2$  ب)  $8 - 2 = 6$

ج)  $6 - 4 = 2$  د)  $8 - 6 = 2$

WWW.MAMPLUS.COM





۸- طول کدام عکس بلندتر از بقیه است ؟

د ج ب الف

۹- کدام گزینه درست است ؟

(ب) ۱۸ یعنی ۱ ده تایی و ۸ یکی

(الف) ۱۸ یعنی ۱ یکی و ۸ ده تایی .

(د) ۱۵ یعنی ۵ ده تایی و ۱ یکی

(ج) ۲۰ یعنی ۲ تا یکی و ۰ ده تایی

۱۰- کدام گزینه درست است ؟

(د)  $7 = 8$

(ج)  $5 > 4$

(ب)  $8 < 7$

(الف)  $6 > 9$



۱۱- کدام عدد هشتاد و هفت است ؟

۱۲- محمد ۲ عدد گردو داشت . و تعدادی هم از برادرش گرفت و تعداد گردوهایش ۹ تا شد . محمد

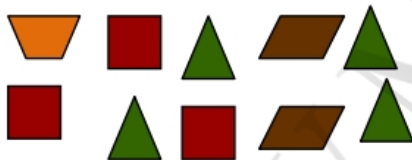
چند عدد گردو از برادرش گرفت ؟

(د) ۷ تا

(ج) ۵ تا

(ب) ۸ تا

(الف) ۶ تا



۱۳- در شکل مقابل چندتا مربع می بینید ؟

(د) ۴ تا

(ج) ۱ تا

(ب) ۲ تا

(الف) ۳ تا

۱۴- علی ۷ عدد نان داشت . تعدادی از نان های خود را به فقیر داد . حالا او ۴ عدد نان دارد

حساب کنید او چند عدد نان به فقیر بخشیده است ؟

(د) ۵ نان

(ج) ۳ نان

(ب) ۲ نان

(الف) ۴ نان

۱۵- در شکل چند ریال می بینید ؟



(د) ۲۱ ریال

(ج) ۲۰ ریال

(ب) ۱۹ ریال

(الف) ۱۴ ریال

۱۶- کدام ماده در اطراف ما به هر سه حالت دیده می شود؟

(د) آتش

(ج) آب

(ب) هوا

(الف) خاک

۱۷- کدام آب برای رشد گلدان مقابل مناسب تر است؟

(د) آب صابون

(ج) آب لوله کشی

(ب) آب دریا

(الف) آب نمک

۱۸- کدام یک از وسایل زیر جذب آهن ربا می شود؟



د



ج



ب



الف

۱۹- چه چیز باعث بیماری ما می شود؟

(د) داروها

(ب) گرما

(ج) میکروب

(الف) سرما

۲۰- پوست بدن کدام جانور پوشیده از پولک است؟



(د)



(ج)



(ب)



(الف)

۲۱- غذای کدام جانور زیر فقط گیاه است؟



د



ج



ب



الف

۲۲- کدام آهنرباها به درستی کنار یکدیگر قرار گرفته اند؟



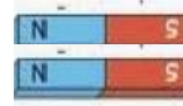
ب



الف



د



ج

۲۳- حرکت دادن کدام جعبه راحت تر است؟



د



ج



ب



الف

۲۴- برای شناختن کدام شکل زیر از بینی استفاده می کنیم؟



د



ج



ب



الف

۲۵- سنگ های مقابل در کجا پیدا می شوند؟



د) کوهستان

ج) رودخانه

ب) جنگل

الف) بیابان

۲۶- چگونه می توان فهمید که داخل این جعبه چیست؟



د) با هر سه مورد

ج) با لمس کردن

ب) بادیدن

الف) با بو کردن

۲۷- کدام مورد زیر به سلامتی دندان هایمان بیشتر کمک می کند؟



د)



ج)



ب)



الف)

۲۸- کدام یک از جانوران زیر برای خود لانه می سازد؟

د) خرس

ج) شیر

ب) پلنگ

الف) خرگوش

۲۹- کدام یک از وسایل زیر هم نور و هم گرما دارد؟

د) تلویزیون

ج) شمع

ب) چراغ قوه

الف) اتو

۳۰- کدام خاک آب بیشتری را در خود نگه می دارد؟

د) خاک پایین کوه

ج) خاک کنار دریا

ب) خاک باغچه

الف) خاک بیابان



موفق باشید